

- a. 2, 3
d. அனைத்தும் சரிதான்
- b. 1, 2, 3
e. விடை தெரியவில்லை
- c. 1, 3, 4

4. The Anthology of Thanthai Periyar's ideologies in both Printed and E-Book formats in _____ published through Tamil Nadu Text Books and Educational Services Corporation.

- a. 24 Indian Languages
c. 18 Indian Languages
e. Answer not known
- b. 21 Indian Languages
d. 16 Indian Languages

தமிழ்நாடு பாடநூல் மற்றும் கல்விப் பணிகள் கழகத்தின் மூலம் தந்தை பெரியாரின் சித்தாந்தங்களின் தொகுப்பு அச்சுப்பிரதி மற்றும் மின் பிரதி வடிவத்தில் எத்தனை இந்திய மொழிகளில் வெளியிடப்பட்டது?

- a. 24 இந்திய மொழிகள்
c. 18 இந்திய மொழிகள்
e. விடை தெரியவில்லை
- b. 21 இந்திய மொழிகள்
d. 16 இந்திய மொழிகள்

5. Find out the correct pair

- a. World Tamil Sangam, Madurai - 1986
b. Tamil University, Thanjavur - 1983
c. International Institute of Tamil Studies - 1972
d. Central University of Tamilnadu - 2010
e. Answer not known

சரியான இணையைக் காண்க

- a. உலகத் தமிழ்ச் சங்கம், மதுரை - 1986
b. தமிழ்ப் பல்கலைக்கழகம், தஞ்சாவூர் - 1983
c. சர்வதேச தமிழ் ஆய்வுகள் நிறுவனம் - 1972
d. தமிழ்நாடு மத்திய பல்கலைக்கழகம் - 2010
e. விடை தெரியவில்லை

6. Which Tamil work got the Sahitya Academy Yuva Puraskar Award for Lokesh Raguraman?

- a. Vishnu Vandhar
b. Thirunelveli ezuchiyum Vaa.Vuu.Ci. Yum 1908
c. Neervazhi Padooum
d. Tanvi's Birthday
e. Answer not known

லோகேஷ் ரகுராமனுக்கு சாகித்ய அகாடமி யுவ புரஸ்கார் விருது பெற்று தந்த தமிழ் படைப்பு எது?

- a. விஷ்ணு வந்தார்
b. திருநெல்வேலி எழுச்சியும் மற்றும் வ.உ.சி.யும் 1908
c. நீர்வழி படும்
d. தன்வியின் பிறந்தநாள்
e. விடை தெரியவில்லை

7. The following line is taken from
 “Adisil vaigal Aayiram Arapuramum”
 a. Puranaanooru b. Natrinai c. Silapathikaram
 d. Ceevagasinthamani e. Answer not known
 “அடிசில் வைகல் ஆயிரம் அறப்புறமும் என்ற வரி இடம்பெற்றுள்ள நூல்
 a. புறநானூறு b. நற்றிணை c. சிலப்பதிகாரம்
 d. சீவகசிந்தாமணி e. விடை தெரியவில்லை
8. Who among the following is associated with Adhichanallur excavation?
 a. Sathyamoorthy b. Balasubramaniam c. Sabarinathan
 d. Bakthavatchalam e. Answer not known
 பின்வருவனவற்றில் ஆதிச்சநல்லூர் அகழ்வாராய்ச்சியுடன் தொடர்புடையவர் யார்?
 a. சத்தியமூர்த்தி b. பாலசுப்ரமணியம் c. சபரிநாதன்
 d. பக்தவத்சலம் e. விடை தெரியவில்லை
9. Rani Velu Nachiyar was born at _____
 a. Ramanathapuram b. Sivaganga c. Kalayarkoil
 d. Devakottai e. Answer not known
 ராணி வேலு நாச்சியார் பிறந்த இடம் _____
 a. இராமநாதபுரம் b. சிவகங்கை c. காளையார்கோவில்
 d. தேவகோட்டை e. விடை தெரியவில்லை
10. ‘Be ready for sacrifice. Bharata Matha invites, 1857 returns’ - these handouts were written by.
 a. Subramaniya Siva b. Neelakanda Brahmachari
 c. V.V.S. Iyer d. Salem Vijayaragavachari
 e. Answer not known
 “தியாகப் பலிக்கு ஆயத்தமாகுங்கள், பாரதா மாதா அழைக்கின்றாள், 1857 திரும்புகிறது”
 என்ற துண்டு பிரசுரங்களை எழுதியவர்
 a. சுப்பிரமணிய சிவா b. நீலகண்ட பிரம்மச்சாரி
 c. வ.வே.சு. ஐய்யர் d. சேலம் விஜயராகவாச்சாரியார்
 e. விடை தெரியவில்லை
11. Name the author of the following works
 1. Gnana Deepigai
 2. Neethichol
 3. Yesunathar Sarithiram
 a. Xavier Britto b. Robert-de-Nobili c. Veeramamunivar
 d. H.A. Krishnapillai e. Answer not known
 பின்வரும் படைப்புகளின் ஆசிரியரின் பெயர்?
 1. ஞான தீபிகை
 2. நீதிச்சொல்
 3. யேசுநாதர் சரித்திரம்

- a. சேவியர் பிரிட்டோ b. ராபர்ட்-டி-நோபிலி c. வீரமாமுனிவர்
d. H.A. கிருஷ்ணபிள்ளை e. விடை தெரியவில்லை

12. Find out the incorrect pair

- a. 1834 - Civil Engineering College
b. 1835 - Madras Medical College
c. 1837 - Madras Christian College
d. 1842 - Presidency College
e. Answer not known

தவறான இணையைக் காண்க

- a. 1834 - சிவில் இன்ஜினியரிங் கல்லூரி
b. 1835 - மருத்துவக் கல்லூரி
c. 1837 - மெட்ராஸ் கிறிஸ்தவக் கல்லூரி
d. 1842 - மாநிலக் கல்லூரி
e. விடை தெரியவில்லை

13. Who introduced Free Food Scheme in Schools for the first time in Madras?

- a. Portuguese b. English c. Justice Party
d. Theosophical Society e. Answer not known

சென்னையில் முதன்முறையாக பள்ளிகளில் இலவச உணவுத் திட்டத்தை அறிமுகப்படுத்தியவர்கள் யார்?

- a. போர்த்துகீசியர் b. ஆங்கிலேயர் c. நீதிக்கட்சி
d. பிரம்மஞான சபை e. விடை தெரியவில்லை

14. Choose the correct statement

1. The High Court of Madras was founded on 1862
2. Madras Literary Society was founded in 1817
3. The Railway Company in Chennai was formed in 1845

- a. 2, 3 b. 1, 3 c. 1,2
d. All are correct e. Answer not known

சரியான கூற்றைத் தேர்வ

1. சென்னை உயர்நீதிமன்றம் 1862 இல் நிறுவப்பட்டது
2. சென்னை இலக்கிய சங்கம் 1817 இல் நிறுவப்பட்டது
3. சென்னையில் ரயில்வே நிறுவனம் 1845 இல் உருவாக்கப்பட்டது

- a. 2, 3 b. 1, 3 c. 1,2
d. அனைத்தும் சரி e. விடை தெரியவில்லை

15. Corporation of Madras was established on _____

- a. 29 September 1688 b. 30 June 1688 c. 15 July 1688
d. 1 January 1688 e. Answer not known

சென்னை மாநகராட்சி _____ இல் நிறுவப்பட்டது

- a. 29 செப்டம்பர் 1688 b. 30 ஜூன் 1688 c. 15 ஜூலை 1688
d. 1 ஜனவரி 1688 e. விடை தெரியவில்லை

16. Madras Mahajana Sabha was the brain child of
 a. Anandacharlu b. Rangiah c. Veeraragavachariar
 d. Ganapathy Dikshitar e. Answer not known
 சென்னை மகாஜனசபை யாருடைய சிந்தனையில் உருவானது?
 a. ஆனந்தச்சார்லு b. ரங்கையா c. வீரராகவாச்சாரியார்
 d. கணபதி தீட்சிதர் e. விடை தெரியவில்லை
17. Who was the Secretary of the Madras branch of the Bharat Sree Maha Mandal in 1923?
 a. Durgabhai Deshmukh b. Rukmini Lakshmipathy
 c. Margret Cousins d. Dr. Muthulakshmi Reddy
 e. Answer not known
 1923 இல் பாரத ஸ்ரீ மகா மண்டலத்தின் சென்னை கிளையின் செயலாளராக இருந்தவர் யார்?
 a. துர்காபாய் தேஷ்முக் b. ருக்மணி லட்சுமிபதி
 c. மார்கரெட் கசின்ஸ் d. டாக்டர் முத்துலட்சுமி ரெட்டி
 e. விடை தெரியவில்லை
18. Periyar was the one who tried to create a new society by carrying out social reforms in Tamil Nadu. - who said this?
 a. Anna b. Karunanidhi c. Kamarajar
 d. Thiru.Vi.Ka e. Answer not known
 தமிழ்நாட்டில் சமூக சீர்திருத்தங்களை செய்து ஒரு புதிய சமுதாயத்தை உருவாக்க முயற்சி செய்தவர் பெரியார் - எனக்கூறியவர்
 a. அண்ணா b. கருணாநிதி c. காமராசர்
 d. திரு.வி.க e. விடை தெரியவில்லை
19. The book Unmaigal Uranguvathillai was authored by
 a. Rajaji b. Omandur Ramasamy c. George Joseph
 d. T.S. Rajan e. Answer not known
 உண்மைகள் உறங்குவதில்லை என்ற புத்தகத்தை எழுதியவர் யார்?
 a. இராஜாஜி b. ஓமந்தூர் இராமசாமி c. ஜார்ஜ் ஜோசப்
 d. T.S. இராஜன் e. விடை தெரியவில்லை
20. Thames Nadhikarai Kokku
 Adhu nammai thinna vandha kokku
 Through the above children song who inspired heroic attitude to audience?
 a. Bharathiyar b. T.P. Krishnasamy Pavalar
 c. Madhurakavi Baskaradas d. Udumalai Muthusamy Kavirayar
 e. Answer not known
 தேம்ஸ் நதிக்கரை கொக்கு
 அது நம்மைத் தின்ன வந்த கொக்கு
 என்று பாப்பா பாடல் மூலம் வீர உணர்வை ஊட்டியவர் யார்?

- a. பாரதியார்
c. பாஸ்கரதாஸ் மதுரகவி
e. விடை தெரியவில்லை
- b. தெ.பொ. கிருஷ்ணசாமிப் பாவலர்
d. உடுமலை முத்துசாமி கவிராயர்

21. The proposal for framing of the Constitution of India by an elected Constituent Assembly was made by

- a. Simon Commission
c. Cripps Mission
e. Answer not known
- b. Government of India Act, 1935
d. British Cabinet Delegation

தேர்ந்தெடுக்கப்பட்ட அரசியல் நிர்ணய சபை இந்திய அரசியலமைப்பை உருவாக்குவதற்கான முன்மொழிவு உருவாக்கப்பட்டது

- a. சைமன் கமிஷன்
c. கிரிப்சு மிஷன்
e. விடை தெரியவில்லை
- b. இந்திய அரசு சட்டம், 1935
d. பிரிட்டிஷ் அமைச்சரவைக் குழு

22. Which of the following features were borrowed by the Constitution of India from the British Constitution?

1. Rule of law
3. Independence of Judiciary
2. Law making procedure
4. Parliamentary System

Select the correct answer by using the codes given below.

- a. 1 and 2
d. 1, 2 and 4
- b. 2, 3 and 4
e. Answer not known
- c. 1 and 4

பின்வரும் அம்சங்களில் எது ஆங்கிலேய அரசியலமைப்பிலிருந்து இந்திய அரசியலமைப்பால் கடன் வாங்கப்பட்டது?

1. சட்டத்தின் ஆட்சி
3. நீதித்துறையின் சுதந்திரம்
கீழே கொடுக்கப்பட்டுள்ள குறியீடுகளைப் பயன்படுத்தி சரியான விடையைத் தேர்ந்தெடுக்கவும்.
2. சட்டம் உருவாக்கும் நடைமுறை
4. பாராளுமன்ற அமைப்பு

- a. 1 மற்றும் 2
d. 1, 2 மற்றும் 4
- b. 2, 3 மற்றும் 4
e. விடை தெரியவில்லை
- c. 1 மற்றும் 4

23. Which one of the following correctly explains the meaning of 'Socialist' in the Preamble?

- a. Nationalisation of all means of production.
b. Abolition of private property.
c. Socialistic pattern of society.
d. Eradication of exploitation and vested interest.
e. Answer not known

பின்வருவனவற்றில் எது முகவுரையில் "சமூகவுடைமை" என்பதன் பொருளை சரியாக விளக்குகிறது?

- a. அனைத்து உற்பத்தி வழிமுறைகளையும் தேசியமயமாக்குதல்.
b. தனியார் சொத்துரிமையை ஒழித்தல்.
c. சமூகத்தின் சமூகவுடைமை முறை.
d. சுரண்டல் மற்றும் கந்து வட்டி ஒழிப்பு.
e. விடை தெரியவில்லை

24. Which of the following is not a part of the Article 20 of the Constitution of India?
- Double Jeopardy Clause
 - Prohibition Against Self Incrimination
 - Prohibition Against Torture
 - Ex-post Facto Law
 - Answer not known
- பின்வருவனவற்றில் எது இந்திய அரசியலமைப்பின் 20 வது சரத்தின் ஒரு பகுதியாக இல்லை?
- இரட்டை தண்டனை
 - சுய குற்றச்சாட்டுக்கு எதிரான தடை
 - சித்திரவதைக்கு எதிரான தடை
 - நடைமுறைக்கு பிந்தைய சட்டம்(Ex-post Facto Law)
 - விடை தெரியவில்லை
25. According to Indian constitution, which of the following are fundamental for the governance of the country?
- Fundamental Rights
 - Fundamental Duties
 - Directive Principles of State Policy
 - Both a and b
 - Answer not known
- இந்திய அரசியலமைப்பின் படி, நாட்டின் நிர்வாகத்திற்கு பின்வருவனவற்றில் எது அடிப்படை?
- அடிப்படை உரிமைகள்
 - அடிப்படை கடமைகள்
 - அரசுக்கு வழிகாட்டும் நெறிமுறைக் கோட்பாடு
 - a மற்றும் b இரண்டும்
 - விடை தெரியவில்லை
26. Which of the following is not a Fundamental Duty mentioned in Article 51A?
- Uphold and protect the sovereignty, unity and integrity of India.
 - Defend the country when called upon.
 - Protect the natural environment.
 - Establish the cooperative societies.
 - Answer not known
- பின்வருவனவற்றில் எது சரத்து 51A இல் குறிப்பிடப்பட்டுள்ள அடிப்படைக் கடமை அல்ல?
- இந்தியாவின் இறையாண்மை, ஒற்றுமை மற்றும் ஒருமைப்பாடு ஆகியவற்றை நிலைநிறுத்தி பாதுகாத்தல்.
 - தேவைப்படும் போது நாட்டை பாதுகாக்க.
 - இயற்கைச் சூழலைப் பாதுகாத்தல்
 - கூட்டுறவு சங்கங்களை நிறுவுதல்.
 - விடை தெரியவில்லை

27. Which of the following statements about the Vice-President of India is/are not correct?

1. In order to be the Vice-President, a person must be qualified for election as a member of the House of the People.
2. A member of the State Legislature can be a candidate for this office.
3. The term of the office of the Vice-President is the same as that of the President.
4. He can be removed through a formal impeachment.

Select the correct answer by using the codes given below.

- a. 1 and 2 b. 2 and 3 c. 1 and 4
d. 3 and 4 e. Answer not known

இந்திய துணைக் குடியரசுத் தலைவர் பற்றிய பின்வரும் கூற்றுகளில் எது / தவறானது?

1. துணைக் குடியரசுத் தலைவர் பதவிக்கு, ஒருவர் மக்களவையின் உறுப்பினராகத் தேர்ந்தெடுக்கப்படுவதற்கு தகுதி பெற்றிருக்க வேண்டும்.
 2. மாநில சட்டமன்ற உறுப்பினர் ஒருவர் இந்த அலுவலகத்திற்கு வேட்பாளராக இருக்கலாம்.
 3. துணைக் குடியரசுத் தலைவரின் பதவிக்காலம் குடியரசுத் தலைவரின் பதவிக்காலம் போலவே இருக்கும்.
 4. முறையான குற்றச்சாட்டு மூலம் அவர் நீக்கப்படலாம்.
- a. 1 மற்றும் 2 b. 2 மற்றும் 3 c. 1 மற்றும் 4
d. 3 மற்றும் 4 e. விடை தெரியவில்லை

28. The Governor requires advice of the CM in appointing which of the following important officials?

1. State Election Commissioner
2. Advocate General
3. Chief Justice of High Court
4. Chairman, State Public Service Commission

Choose the correct answer using the codes

- a. Only 1, 2 and 3 b. Only 1, 2 and 4 c. Only 3 and 4
d. Only 1 and 2 e. Answer not known

பின்வரும் முக்கியமான அதிகாரிகளில் யாரை நியமிப்பதற்கு ஆளுநர் முதல்வரின் ஆலோசனையை கோருகிறார்?

1. மாநில தேர்தல் ஆணையர்
 2. தலைமை வழக்கறிஞர்
 3. உயர்நீதிமன்ற தலைமை நீதிபதி
 4. மாநில அரசுப் பணியாளர் ஆணையத்தின் தலைவர்
- குறியீடுகளைப் பயன்படுத்தி சரியான விடையைத் தேர்ந்தெடுக்கவும்
- a. 1, 2 மற்றும் 3 மட்டும் b. 1, 2 மற்றும் 4 மட்டும் c. 3 மற்றும் 4 மட்டும்
d. 1 மற்றும் 2 மட்டும் e. விடை தெரியவில்லை

29. As per the Constitution, the state ministers hold office during the pleasure of the Governor. The words 'during the pleasure of the Governor' actually implies pleasure of the

- a. President b. Chief Justice of India c. Chief Minister
d. Legislative Assembly e. Answer not known

அரசியலமைப்பின்படி, ஆளுநரின் விருப்பத்தின் பேரில் மாநில அமைச்சர்கள் பதவி வகிக்கின்றனர். "ஆளுநரின் விருப்பத்தின் போது என்ற வார்த்தைகள்" உண்மையில் எதைக் குறிக்கிறது

- a. குடியரசுத் தலைவர் b. இந்தியாவின் தலைமை நீதிபதி c. முதலமைச்சர்
d. சட்டமன்றம் e. விடை தெரியவில்லை

30. Which is incorrect about the power and functions of the Speaker of Lok Sabha?
a. He can be removed only by a resolution passed by the Lok Sabha by an ordinary majority
b. His salaries and allowances are charged on the consolidated fund of India
c. His power of regulating procedure in the house are not subject to the jurisdiction of any court
d. He can only exercise a casting vote in case of tie
e. Answer not known

மக்களவை சபாநாயகரது அதிகாரம் மற்றும் பணிகளைப் பொருத்து தவறானது எது?

- a. மக்களவையில் சாதாரண பெரும்பான்மை மூலம் நிறைவேற்றப்பட்ட இவரது நீக்க தீர்மானத்தின் மூலம் மட்டுமே இவரை நீக்க முடியும்.
b. இவரது ஊதியம் மற்றும் படிகள் இந்திய தொகுப்பு நிதியிலிருந்து பெறப்படுகின்றன.
c. அவையின் ஒழுங்கு நடவடிக்கையின் மீதான இவரது அதிகாரத்தை எந்த நீதிமன்றத்தின் வரம்பிற்கும் உட்படுத்த முடியாது.
d. இவர் சமநிலை வாக்கின் போது மட்டுமே தனது வாக்கினை செலுத்துவார்
e. விடை தெரியவில்லை

31. Consider the following statements:

Assertion (A): The Constitution requires that a person must prove his majority in the legislative assembly before he is appointed as the Chief Minister.

Reason (R): Only a person who is a member of the legislative assembly can be appointed as the Chief Minister.

In the context of the above, which of these statement(s) is/are correct?

- a. A is correct, and R is an appropriate explanation of A.
b. A is correct, but R is not an appropriate explanation of A.
c. A is correct, but R is incorrect.
d. Both A and R are incorrect.
e. Answer not known

Answer not known

பின்வரும் கூற்றுகளை ஆய்க:

கூற்று (A): ஒருவர் முதல்வராக நியமிக்கப்படுவதற்கு முன்னர் சட்டமன்றத்தில் தனது பெரும்பான்மையை நிரூபிக்க வேண்டும் என்று அரசியலமைப்பு கூறுகிறது.

காரணம் (R): சட்டமன்ற உறுப்பினராக இருக்கும் ஒருவரை மட்டுமே முதல்வராக நியமிக்க முடியும்.

மேற்கூறியவற்றின் பின்னணியில், இவற்றில் எது சரியானது?

- a. A சரியானது, R என்பது A இன் பொருத்தமான விளக்கம்
- b. A சரியானது, R என்பது A இன் பொருத்தமான விளக்கமல்ல
- c. A சரியானது, ஆனால் R தவறானது.
- d. A மற்றும் R இரண்டும் தவறானவை.
- e. விடை தெரியவில்லை

32. The office of Deputy Chief Minister has been created by
- a. The Constitution of India
 - b. Parliamentary Legislation
 - c. State-specific legislations
 - d. None of the Above
 - e. Answer not known

துணை முதல்வர் அலுவலகம் எதன் மூலம் உருவாக்கப்பட்டது?

- a. இந்திய அரசியலமைப்புச் சட்டம்
- b. பாராளுமன்ற சட்டம்
- c. மாநில-குறிப்பிட்ட சட்டங்கள்
- d. மேற்கூறியவை எதுவும் இல்லை
- e. விடை தெரியவில்லை

33. Consider the following statements:

- 1. State governments in India draw their authority from the Central government.
- 2. State governments in India are subordinate to the Central government.

Which of these statement(s) is/are true?

- a. Only 1
- b. Only 2
- c. All of the Above
- d. None of the Above
- e. Answer not known

பின்வரும் கூற்றுகளை ஆய்க:

- 1. இந்தியாவில் மாநில அரசுகள் மத்திய அரசிடம் இருந்து அதிகாரத்தை பெறுகின்றன.
- 2. இந்தியாவில் மாநில அரசுகள் மத்திய அரசுக்குக் கீழ்ப்படியின்றன.

மேலே உள்ள கூற்றுகளில் எது சரியானது?

- a. 1 மட்டும்
- b. 2 மட்டும்
- c. மேற்கூறிய அனைத்தும்
- d. ஏதுவுமில்லை
- e. விடை தெரியவில்லை

34. The Deputy Speaker of the State Legislative Assembly is

- a. Nominated by the Speaker of the house
- b. Nominated by the Governor of the concerned state
- c. Elected by the house from among its members
- d. Always the leader of the largest party from the opposition
- e. Answer not known

மாநில சட்டமன்றத்தின் துணை சபாநாயகர்

- a. சபாநாயகரால் பரிந்துரைக்கப்படுபவர்
- b. சம்பந்தப்பட்ட மாநிலத்தின் ஆளுநரால் நியமிக்கப்பட்டவர்
- c. அவையால் அதன் உறுப்பினர்களிலிருந்து தேர்ந்தெடுக்கப்படுகிறார்.
- d. எப்பொழுதும் எதிர்கட்சியாக இருந்து வரும் மிகப்பெரிய கட்சியின் தலைவர்
- e. விடை தெரியவில்லை

35. State legislatures can make laws to enforce

1. Fundamental Rights
2. Directive Principles of State Policy
3. Fundamental Duties

Select the correct answer using the codes below:

- a. Only 1 and 2 b. Only 2 and 3 c. Only 1 and 3
d. All of the Above e. Answer not known

மாநில சட்டமன்றங்கள் எந்த அமலாக்க சட்டங்களை அமல்படுத்த முடியும்

1. அடிப்படை உரிமைகள்
2. மாநிலக் கொள்கையின் வழிகாட்டுதல் கோட்பாடுகள்
3. அடிப்படைக் கடமைகள்

கீழே கொடுக்கப்பட்டுள்ள குறியீடுகளைப் பயன்படுத்தி சரியான விடையைத் தேர்ந்தெடுக்கவும்:

- a. 1 மற்றும் 2 மட்டும் b. 2 மற்றும் 3 மட்டும் c. 1 மற்றும் 3 மட்டும்
d. மேற்கூறிய அனைத்தும் e. விடை தெரியவில்லை

36. Which of the following schemes is typically implemented by a VAO?

- a. Mahatma Gandhi National Rural Employment Guarantee Act (MGNREGA)
- b. Pradhan Mantri Awas Yojana (PMAY)
- c. National Rural Health Mission (NRHM)
- d. All of the above
- e. Answer not known

பின்வருவனவற்றுள் எந்தத் திட்டம் பொதுவாக(VAO)வி.ஏ.ஓ மூலம் செயல்படுத்தப்படுகிறது?

- a. மகாத்மா காந்தி தேசிய ஊரக வேலைவாய்ப்பு உத்தரவாதச் சட்டம் (மகாத்மா காந்தி தேசிய ஊரக வேலைவாய்ப்பு உத்தரவாதச் சட்டம்)
- b. பிரதம மந்திரி வீட்டுவசதித் திட்டம் (PMAY)
- c. தேசிய ஊரக சுகாதார இயக்கம் (NRHM)
- d. மேற்கூறிய அனைத்தும்
- e. விடை தெரியவில்லை

37. What is the role of a Tahsildar in disaster management?

- a. To coordinate relief efforts
- b. To assess damage and estimate losses
- c. To provide financial assistance
- d. All of the above
- e. Answer not known

பேரிடர் மேலாண்மையில் தாசில்தாரின் பங்கு என்ன?

- a. நிவாரண முயற்சிகளை ஒருங்கிணைத்தல்
- b. சேதத்தை மதிப்பிடுவது மற்றும் இழப்புகளை மதிப்பிடுவது
- c. நிதி உதவி வழங்குதல்
- d. மேற்கூறிய அனைத்தும்
- e. விடை தெரியவில்லை

38. Assertion (A): Collective Responsibility of the Cabinet signifies unity and Co-ordination among members of the Council of Ministers
Reason (R): It is the prerogative of the Prime minister to select or drop a member of the cabinet

Codes

- Both A and R true and R is the Correct explanation of A
- Both A and R true, But R is not the correct explanation of A
- A is true, But R is false
- A is false, but R is true
- Answer not known

கூற்று (A) அமைச்சரவையின் கூட்டு பொறுப்பு என்பது அமைச்சரவையின் உறுப்பினர்களிடையே ஒற்றுமையையும் ஒருங்கிணைப்பையும் குறிக்கிறது.

காரணம் (R) அமைச்சரவையில் ஒரு உறுப்பினரைத் தேர்ந்தெடுப்பது அல்லது நீக்குவது பிரதமரின் தனிச்சிறப்பு குறியீடுகள்

- A மற்றும் R இரண்டும் சரி மேலும் R என்பது A இன் சரியான விளக்கமாகும்.
- A மற்றும் R இரண்டும் உண்மை, ஆனால் R என்பது A இன் சரியான விளக்கம் அல்ல.
- A சரி, R தவறு
- A தவறு, R சரி
- விடை தெரியவில்லை

39. Choose the correct statement about recommendations of the Sixth Finance Commission (SFC) (2022-23 to 2027-28).

- Sixth SFC recommended devolving 10% of the state's Own Tax revenue to local bodies.
- The Vertical sharing ratio between Rural and Urban Local bodies will be 51:49.
- The Government has also ordered to share the devolution grant among the Rural Local Bodies, The District Panchayat, Panchayat Unions and Village Panchayats in the ratio of 6:39:55 respectively.

- 1, 2
- 2, 3
- 1, 3
- 1, 2, 3
- Answer not known

ஆறாவது நிதிக்குழுவின் (SFC) (2022-23 முதல் 2027-28) பரிந்துரைகள் குறித்த சரியான அறிக்கையைத் தேர்ந்தெடுக்கவும்.

1) மாநிலத்தின் சொந்த வரி வருவாயில் 10 சதவீதத்தை உள்ளாட்சி அமைப்புகளுக்கு வழங்க ஆறாவது நிதிக்குழு (SFC) பரிந்துரைத்தது.

2) கிராமப்புற மற்றும் நகர்ப்புற உள்ளாட்சி அமைப்புகளுக்கு இடையேயான செங்குத்து பகிர்வு விகிதம் 51:49 ஆக இருக்கும்.

3) கிராமப்புற உள்ளாட்சி அமைப்புகள், மாவட்ட பஞ்சாயத்துகள், பஞ்சாயத்து ஒன்றியங்கள் மற்றும் கிராம பஞ்சாயத்துகளுக்கு இடையே 6:39:55 என்ற விகிதத்தில் ஒதுக்கீட்டு மானியத்தை பகிர்ந்து கொள்ளவும் அரசு உத்தரவிட்டுள்ளது.

- 1, 2
- 2, 3
- 1, 3
- 1, 2, 3
- விடை தெரியவில்லை

40. What is the primary role of a Block Development Officer (BDO)?
- To implement government schemes and programs at the block level
 - To collect taxes and revenue
 - To maintain law and order
 - To provide basic amenities to citizens
 - Answer not known

தொகுதி மேம்பாட்டு அதிகாரியின் (BDO) முதன்மைப் பணி என்ன?

- அரசுத் திட்டங்கள் மற்றும் திட்டங்களை வட்டார அளவில் செயல்படுத்துதல்
- வரி மற்றும் வருவாயை வசூலிப்பது
- சட்டம் மற்றும் ஒழுங்கை பராமரித்தல்
- குடிமக்களுக்கு அடிப்படை வசதிகளை வழங்குதல்
- விடை தெரியவில்லை

41. What is the hierarchical structure of the BDO's reporting line?
- BDO reports to District Collector, who reports to Commissioner
 - BDO reports to District Judge, who reports to Commissioner
 - BDO reports to Project Director, who reports to District Collector
 - BDO reports to Chief Development Officer, who reports to Commissioner
 - Answer not known

BDOவின் அறிக்கையிடல் வரிசையின் படிநிலை அமைப்பு என்ன?

- மாவட்ட ஆட்சியருக்கு அறிக்கை அளிக்கிறார், அவர் கமிஷனருக்கு அறிக்கை அளிக்கிறார்
- BDO மாவட்ட நீதிபதிக்கு அறிக்கை அளிக்கிறார், அவர் கமிஷனருக்கு அறிக்கை அளிக்கிறார்
- BDO திட்ட இயக்குநருக்கு அறிக்கை அளிக்கிறார், அவர் மாவட்ட ஆட்சியருக்கு அறிக்கை அளிக்கிறார்
- BDO தலைமை மேம்பாட்டு அதிகாரிக்கு அறிக்கை அளிக்கிறார், அவர் கமிஷனருக்கு அறிக்கை அளிக்கிறார்
- விடை தெரியவில்லை

42. The function of state finance commission includes
- Recommend state Government about sharing of taxes between state and local bodies.
 - Distribution of net proceed of taxes to be shared between centre and state
 - Recommend to President of India on issues connected with financial emergencies
 - All the above
 - Answer not known

மாநில நிதிக்குழுவின் பணிகளுள் அடங்குவன

- மாநிலம் (ம) உள்ளாட்சி அமைப்புகளுக்கிடையேயான வரி வருவாய் பங்கீடு குறித்து மாநில அரசாங்கத்திற்குப் பரிந்துரை செய்தல்
- மத்திய (ம) மாநிலங்களுக்கிடையேயான வரிகளின் நிகர வருமானத்தைப் பரிந்துரை செய்தல்
- இந்திய குடியரசுத்தலைவருக்கு நிதிநெருக்கடி தொடர்பான விவகாரங்களில் பரிந்துரை செய்தல்
- மேற்கண்ட அனைத்தும்
- விடை தெரியவில்லை

43. With Reference to Central Council of Minister, Consider the Following Statement is/are correct?

- The Central Council of Minister is headed by the President.
 - It consist of three categories of ministers, cabinet minister, ministers of state and Deputy Minister.
 - Cabinet Minister are involved in policy decision making, others have administration responsibilities.
- a. 1 only b. 1 and 2 only c. 1 and 3 only
d. 2 and 3 only e. Answer not known

பின்வருவனவற்றுள் மத்திய அமைச்சரவை பற்றிய சரியான கூற்றுகள் எவை?

- மத்திய அமைச்சர்கள் குழுவின் தலைவராகத் திகழ்பவர் குடியரசுத் தலைவர்.
 - இதில் 3 வகை அமைச்சர்கள் உள்ளன. அவை, கேபினெட் அமைச்சர்கள், ராஜாங்க அமைச்சர்கள் மற்றும் துணை அமைச்சர்கள்.
 - காபினெட் அமைச்சர்கள் கொள்கை முடிவுகளை எடுப்பதில் ஈடுபடுபவர்கள் மற்ற இரு பிரிவு அமைச்சர்களும் நிர்வாகப் பொறுப்புகளை மேற்கொள்பவர்கள்.
- a. 1 மட்டும் b. 1 மற்றும் 2 மட்டும் c. 1 மற்றும் 3 மட்டும்
d. 2 மற்றும் 3 மட்டும் e. விடை தெரியவில்லை

44. How does the Ministry of Local Self- Government exercise administration control over the local bodies?

- Rules and regulation that supplement laws passed by Parliament
 - Approval/ Rejection of bye-laws, resolutions, appointments of higher officials.
 - Grants in aid system
 - Dismissing local bodies and calling for fresh elections.
- a. I, II and III are correct b. I, II and IV are correct c. I, III and IV are correct
d. All are correct e. Answer not known

உள்ளாட்சி சுயாட்சி அமைச்சகம் எவ்வாறு உள்ளாட்சி அமைப்புகளின் மீது நிர்வாகக் கட்டுப்பாட்டை செலுத்துகிறது?

- பாராளுமன்றத்தால் நிறைவேற்றப்பட்ட சட்டங்களுக்கு துணைபுரியும் விதிகள் மற்றும் ஒழுங்குமுறைகள்
- சட்டங்கள், தீர்மானங்கள், உயர் அதிகாரிகள் மற்றும் சட்டங்கள் ஏற்றுக் கொள்ளுதல்
- மானிய உதவி முறை
- உள்ளாட்சி அமைப்புகளை கலைத்தல் மற்றும் புதிய தேர்தல்களை அறிவித்தல்.

- a. I, II மற்றும் III சரியானவை
 c. I, III மற்றும் IV சரியானவை
 e. விடை தெரியவில்லை
- b. I, II மற்றும் IV சரியானவை
 d. அனைத்தும் சரியானவை

45. The Finance Commission constituted under Article 243 I for Panchayats shall renew the financial position of Municipalities and make recommendation to
- a. Chief Minister
 c. Governor
 e. Answer not known
- b. Mayers/ Presidents/ Chairmans
 d. Minister for Local Self Government

அரசியலமைப்பு விதி 243 I-ல் குறிப்பிட்டுள்ளபடி, பஞ்சாயத்துகளுக்கான நிதி ஆணையம், நகராட்சிகளின் நிதி நிலையினை மறுஆய்வு செய்து, கீழ்கண்ட யாரிடம் பரிந்துரை செய்கிறது?

- a. முதலமைச்சர்
 c. ஆளுநர்
 e. விடை தெரியவில்லை
- b. மேயர் /பஞ்சாயத்து தலைவர் / சேர்மன்
 d. உள்ளாட்சித் துறை அமைச்சர்

46. How does information technology contribute efficient governance?

- a. Increasing bureaucracy
 b. Streamlining processes and enhancing transparency
 c. Limiting public access to information
 d. Increasing paper work
 e. Answer not known

தகவல் தொழில்நுட்பம் எவ்வாறு திறமையான நிர்வாகத்திற்கு பங்களிக்கிறது?

- a. அதிகாரத்துவத்தை அதிகரிப்பதன் மூலம்
 b. செயல்முறைகளை ஒழுங்குபடுத்துதல் மற்றும் வெளிப்படைத்தன்மையை மேம்படுத்துதல்
 c. பொது மக்களின் தகவலுக்கான வழியை கட்டுப்படுத்துவதன் மூலம்
 d. காகித வேலைகளை அதிகரிப்பதன் மூலம்
 e. விடைதெரியவில்லை

47. Match the following regarding Urban local bodies

- | | |
|-----------------------------------|-----------------|
| A. Constitution of Municipalities | 1. Article 243Q |
| B. Reservation of Seats | 2. Article 243T |
| C. Finance Commission | 3. Article 243Y |
| D. Duration of Municipalities | 4. Article 243U |

- | | A | B | C | D |
|----|------------------|---|---|---|
| a. | 1 | 2 | 3 | 4 |
| b. | 1 | 2 | 4 | 3 |
| c. | 2 | 1 | 4 | 3 |
| d. | 2 | 1 | 3 | 4 |
| e. | Answer not known | | | |

பின்வருவனவற்றை நகர உள்ளாட்சி அமைப்புகள் குறித்து சரியாக பொருத்துக.

- A. நகராட்சிகளின் அமைப்பு 1. விதி 243Q
B. இட ஒதுக்கீடு 2. விதி 243T
C. நிதி ஆணையம் 3. விதி 243Y
D. நகராட்சி அமைப்புகளின் காலம் 4. விதி 243U

	A	B	C	D
a.	1	2	3	4
b.	1	2	4	3
c.	2	1	4	3
d.	2	1	3	4

e. விடை தெரியவில்லை

48. Consider the following statements and choose correct statement

- I. All member of panchayat at three levels village, intermediary and district shall be directly elected by people.
II. The chairperson of panchayat at all three level is indirectly elected from amongst members in Tamil Nadu.
a. Statement I is true b. Statement II is true
c. Both I and II are correct d. None of above is correct
e. Answer not known

பின்வரும் கூற்றுகளில் சரியானதைத் தேர்ந்தெடு.

- I. கிராம, இடைநிலைப்பட்ட (ம) மாவட்ட அளவிலான 3 நிலைகளிலுள்ள பஞ்சாயத்தின் அனைத்து உறுப்பினர்களும் மக்களால் நேரடியாகத் தேர்ந்தெடுக்கப்படுகின்றனர்.
II. தமிழ்நாட்டில் பஞ்சாயத்தின் மூன்று நிலைகளுக்குமான தலைவர்கள் உறுப்பினர்களுக்குள் மறைமுகத் தேர்தல் மூலம் தேர்ந்தெடுக்கப்படுகின்றனர்.
a. கூற்று I சரியானது b. கூற்று II சரியானது
c. I மற்றும் II இரண்டும் சரியானவை d. இரண்டும் சரியல்ல
e. விடை தெரியவில்லை

49. Who is the executive authority of a village panchayat under the Tamil Nadu Panchayats Act, 1994?

- a. President b. Vice-President c. Panchayat Secretary
d. District Collector e. Answer not known

தமிழ்நாடு ஊராட்சிகள் சட்டம், 1994-ன் கீழ் ஒரு கிராம ஊராட்சியின் நிர்வாக அதிகாரம் யாருக்கு உள்ளது?

- a. தலைவர் b. துணைத் தலைவர் c. ஊராட்சி செயலாளர்
d. மாவட்ட ஆட்சியர் e. விடை தெரியவில்லை

50. Who is eligible to apply for Indian citizenship through registration?

- a. Foreign nationals married to Indian citizens
b. Persons of Indian origin
c. Refugees
d. All of the above
e. Answer not known

- பதிவு மூலம் இந்திய குடியரிமைக்கு விண்ணப்பிக்க யார் தகுதியுடையவர்?
- வெளிநாட்டவர்கள் இந்திய குடிமக்களை திருமணம் செய்து கொண்டனர்
 - இந்திய வம்சாவளியைச் சேர்ந்தவர்கள்
 - அகதிகள்
 - மேற்கூறிய அனைத்தும்
 - விடை தெரியவில்லை

51. Centre for A.I. and Robotics is a premier laboratory of DRDO, located at _____

- Hyderabad
- Chennai
- Bangalore
- Delhi
- Answer not known

A.I மற்றும் ரோபாட்டிக்ஸ் மையம் என்பது DRDOவின் முதன்மையான ஆய்வகமாகும், இது _____ இல் அமைந்துள்ளது

- ஹைதராபாத்
- சென்னை
- பெங்களூரு
- டெல்லி
- பதில் தெரியவில்லை

52. What does the term 'nanocomposites' refer to?

- Combinations of nanoparticles with biological substances
- Combinations of bulk materials and nanotubes
- Combinations of nanomaterials with polymers
- None of the above
- Answer not known

“நானோகாம்போசிட்கள்” என்ற சொல் எதைக் குறிக்கிறது?

- உயிரியல் பொருட்களுடன் நானோ துகள்களின் சேர்க்கைகள்
- மொத்தப் பொருட்கள் மற்றும் நானோகுழாய்களின் சேர்க்கைகள்
- பாலிமர்களுடன் நானோ பொருட்களின் சேர்க்கைகள்
- மேற்கூறியவற்றில் எதுவுமில்லை
- விடை தெரியவில்லை

53. Which projection system is commonly used in GIS applications in India?

- Mercator Projection
- UTM (Universal Transverse Mercator) Projection
- Lambert Conformal Conic
- Indian Grid System (IGS)
- Answer not known

இந்தியாவில் GIS பயன்பாடுகளில் பொதுவாகப் பயன்படுத்தப்படும் திட்ட அமைப்பு எது?

- மெர்கேட்டர் ப்ரொஜெக்சன்
- UTM (யுனிவர்சல் டிரான்ஸ்வர்ஸ் மெர்கேட்டர்) ப்ரொஜெக்சன்
- லம்பேர்ட் கன்ஃபார்மல் கோனிக்
- இன்டியன் கிரிட் சிஸ்டம் (IGS)
- விடை தெரியவில்லை

54. Biogas is a better fuel than animal dung cake because
- Biogas has lower calorific value
 - Animal dung cake has high calorific value
 - Biogas without burns smoke and leaves no residue
 - Biogas is used as a fuel for cooking only whereas dung cake can be used for cooking, illuminant the lanterns.
 - Answer not known
- உயிரி எரிவாயு என்பது விலங்குகளின் சாண வரட்டிகளை விட சிறந்த எரிபொருளாகும், ஏனெனில்
- உயிரி எரிவாயு குறைந்த வெப்ப அளவுத் திறனைக் கொண்டுள்ளது
 - விலங்கு சாண வரட்டிகள் அதிக வெப்ப அளவுத் திறனைக் கொண்டுள்ளது
 - உயிர்வாயு புகையில்லாமல் எரிகிறது மற்றும் எந்த சக்கையும் இல்லை
 - உயிரி வாயு சமையலுக்கு மட்டுமே எரிபொருளாகப் பயன்படுத்தப்படுகிறது, அதே சமயம் சாண வரட்டிகளை சமையலுக்குப் பயன்படுத்தலாம், விளக்குகளை ஒளிர்ச் செய்யலாம்.
 - விடை தெரியவில்லை
55. The antibiotic among the following is:
- Penicillin
 - Aspirin
 - Paracetamol
 - None of these
 - Answer not known
- பின்வருவனவற்றில் நுண்ணுயிர் எதிர்ப்பி ஒன்று:
- பென்சிலின்
 - ஆஸ்பிரின்
 - பாராசிட்டமால்
 - இவை ஏதுமில்லை
 - விடை தெரியவில்லை
56. Energy is stored in liver and muscles in the form of
- Carbohydrate
 - Fat
 - Protein
 - Glycogen
 - Answer not known
- கல்லீரல் மற்றும் தசைகளில் ஆற்றல் எவ்வடிவத்தில் சேமிக்கப்படுகிறது
- கார்போஹைட்ரேட்
 - கொழுப்பு
 - புரதம்
 - கிளைகோஜன்
 - விடை தெரியவில்லை
57. The basis of DNA finger printing is
- The double helix
 - Errors in base sequence
 - DNA replication
 - DNA polymorphism
 - Answer not known
- பின்வரும் எதன் அடிப்படையில் DNA கைரேகை அச்சிடுதல் இயங்குகிறது?
- இரட்டை வட்டம்
 - அடிப்படை வரிசையில் பிழைகள்
 - DNA படியெடுத்தல்
 - DNA பல்லுருத்தோற்றம்
 - விடை தெரியவில்லை
58. Match the following List I with List II
- | | |
|---------------|---------------------------------------|
| Vitamin | Deficiency of vitamin leads to |
| A. Vitamin D | 1. Osteoporosis |
| B. Vitamin E | 2. Premature ageing |
| C. Vitamin B2 | 3. Cracks on Skin |
| D. Vitamin K | 4. Excess loss of blood during injury |

	A	B	C	D
a.	1	3	4	2
b.	1	2	3	4
c.	2	3	4	1
d.	3	2	4	1

e. Answer not known

பின்வரும் பட்டியல் I ஐ பட்டியல் II உடன் பொருத்தவும்
வைட்டமின் வைட்டமின் குறைபாடு

A. வைட்டமின் D	1. எலும்புத்தொற்று
B. வைட்டமின் E	2. முன்கூட்டியே முதுமை
C. வைட்டமின் B2	3. தோலில் பிளவுகள்
D. வைட்டமின் K	4. காயத்தின் போது அதிகப்படியான இரத்த இழப்பு

	A	B	C	D
a.	1	3	4	2
b.	1	2	3	4
c.	2	3	4	1
d.	3	2	4	1

e. விடை தெரியவில்லை

59. Match the List I with List II.

List I

- A. Buna-S
- B. Buna- N
- C. PET
- D. PVC

List II

- 1. Rain coat
- 2. Tyres
- 3. Oil seals
- 4. Water bottles

	A	B	C	D
a.	1	3	4	2
b.	2	3	4	1
c.	3	1	2	4
d.	2	4	3	1

e. Answer not known

பட்டியல் I ஐ பட்டியல் II உடன் பொருத்துக

பட்டியல் I

- A. Buna-S
- B. Buna- N
- C. PET
- D. PVC

பட்டியல் II

- 1. ரெயின் கோட்
- 2. டயர்கள்
- 3. எண்ணெய் முத்திரைகள்
- 4. தண்ணீர் பாட்டில்கள்

	A	B	C	D
a.	1	3	4	2
b.	2	3	4	1
c.	3	1	2	4
d.	2	4	3	1

e. விடை தெரியவில்லை.

60. ISRO launched its 100th Space Mission on January 29, 2025, successfully placing _____ in orbit using GSLV-15

- a. NVS-02 b. NVS-03 c. NVS-4
d. NVS-01 e. Answer not known

ஜனவரி 29, 2025 அன்று இஸ்ரோ தனது 100வது விண்வெளிப் பயணத்தில் GSLV-15 மூலம் _____ ஐ வெற்றிகரமாக சுற்றுப்பாதையில் நிலைநிறுத்தியது.

- a. NVS-02 b. NVS-03 c. NVS-4
d. NVS-01 e. விடை தெரியவில்லை

61. Match the following

- A. Thomson Model 1. Dual nature of electron
B. Rutherford Model 2. Nuclear theory
C. Bohr's model 3. Plum pudding model
D. de-Broglie 4. Concept of quantization of energy

- | | A | B | C | D |
|----|---|---|---|---|
| a. | 3 | 4 | 2 | 1 |
| b. | 2 | 4 | 1 | 3 |
| c. | 2 | 1 | 3 | 4 |
| d. | 3 | 2 | 4 | 1 |

e. Answer not known

பின்வருவனவற்றைப் பொருத்தவும்

- A. தாம்சன் மாதிரி 1. எலக்ட்ரானின் இரட்டை இயல்பு
B. ரூதர்போர்ட் மாதிரி 2. அணுக்கரு கோட்பாடு
C. போர் மாதிரி 3. பிளம் புடிங் மாதிரி
D. டி-ப்ரோக்லி 4. ஆற்றல் குவையமாதல் கருத்து

- | | A | B | C | D |
|----|---|---|---|---|
| a. | 3 | 4 | 2 | 1 |
| b. | 2 | 4 | 1 | 3 |
| c. | 2 | 1 | 3 | 4 |
| d. | 3 | 2 | 4 | 1 |

e. விடை தெரியவில்லை

62. Rutherford's alpha (α) particle scattering experiment resulted into the discovery of

- a. Proton b. Nucleus in the atom c. Electron
d. Atomic mass e. Answer not known

பின்வருவனவற்றுள் எது ரூதர்ஃபோர்டின் ஆல்பா துகள் சிதறல் பரிசோதனையின் விளைவாக கண்டுபிடிக்கப்பட்டது?

- a. புரோட்டான் b. அணுக்கருவில் உள்ள அணு c. எலக்ட்ரான்
d. அணு நிறை e. விடை தெரியவில்லை

63. Which of the following is drawback of amplitude modulation?
 a. low efficiency b. noise reception c. operating range is small
 d. all of these e. Answer not known
 பின்வருவனவற்றில் எது அலைவீச்சு பண்பேற்றத்தின் தீமையாகும்?
 a. குறைந்த செயல்திறன் b. இரைச்சல் வரவேற்பு c. இயக்க வரம்பு சிறியது
 d. இவையனைத்தும் e. விடை தெரியவில்லை
64. In electronic communication system, digital signals
 1. Do not provide a continuous set of values.
 2. Represent values as discrete steps.
 3. Utilise binary system.
 4. Utilise decimal as well as binary systems.
 Which of the above statements are true?
 a. 1 and 2 b. 2 and 3 c. 1, 2 and 3
 d. All of these e. Answer not known
 எலக்ட்ரானிக் தகவல்தொடர்பு அமைப்பில், டிஜிட்டல் சிக்னல்கள்
 1. தொடர்ச்சியான மதிப்புகளை வழங்குவதில்லை
 2. மதிப்புகளை தனியான படிக்களாகக் குறிக்கிறது.
 3. பைனரி அமைப்பைப் பயன்படுத்துகிறது
 4. தசம மற்றும் பைனரி அமைப்புகளைப் பயன்படுத்துகிறது
 மேற்கண்ட கூற்றுகளில் எது உண்மை?
 a. 1 மற்றும் 2 b. 2 மற்றும் 3 c. 1, 2 மற்றும் 3
 d. இவை அனைத்தும் e. விடை தெரியவில்லை
65. Who is known as the father of hard disk drive?
 a. Reynold B. Johnson b. H. D. Thomson c. Charles babbage
 d. Balise Pascal e. Answer not known
 ஹார்ட் டிஸ்க் டிரைவின் தந்தை என்று அழைக்கப்படுபவர் யார்?
 a. ரெனால்ட் B. ஜான்சன் b. H. D. தாம்சன் c. சார்லஸ் பாபேஜ்
 d. பிலைசு பாஸ்கல் e. விடை தெரியவில்லை
66. Match List I with List II
 A. Graphics Tablet 1. To input data at an information kiosk
 B. Touch Screen 2. To input data from a product in a supermarket
 C. Barcode Reader 3. To input a PIN
 D. Numeric keypad 4. To input freehand drawing

	A	B	C	D
a.	4	2	1	3
b.	3	2	1	4
c.	1	4	3	2
d.	4	1	2	3

 e. Answer not known

பட்டியல் I ஐ பட்டியல் II உடன் பொருத்தவும்

- | | |
|------------------------|---|
| A. கிராபிக்ஸ் டேப்லெட் | 1. தகவல் கியோஸ்க்கில் தரவை உள்ளீடு செய்ய |
| B. தொடு திரை | 2. சூப்பர் மார்க்கெட்டில் உள்ள தயாரிப்பிலிருந்து தரவை உள்ளீடு செய்ய |
| C. பர்கோடு ரீடர் | 3. PIN ஐ உள்ளீடு செய்ய |
| D. எண் விசைப்பலகை | 4. கையெழுத்து வரைபடத்தை உள்ளீடு செய்ய |
- | | | | | |
|----|---|---|---|---|
| | A | B | C | D |
| a. | 4 | 2 | 1 | 3 |
| b. | 3 | 2 | 1 | 4 |
| c. | 1 | 4 | 3 | 2 |
| d. | 4 | 1 | 2 | 3 |
- e. விடை தெரியவில்லை

67. Which of the following is also known as presentation software that is used to give presentation of information and pictures through slideshows?

- a. Multimedia authoring b. Desktop publishing
c. Presentation graphics d. Both b and c
e. Answer not known

பின்வருவனவற்றில் எது படவில்லைக் காட்சிகள் மூலம் தகவல் மற்றும் படங்களை வழங்குவதற்குப் பயன்படுத்தப்படும் விளக்கக்காட்சி மென்பொருள் என அழைக்கப்படுகிறது?

- a. மல்டிமீடியா ஆதாரிப்பு b. டெஸ்க்டாப் வெளியீடு
c. விளக்கக்காட்சி வரைபடங்கள் d. b மற்றும் c இரண்டும்
e. விடை தெரியவில்லை

68. The allocation for agriculture in Tamilnadu agriculture budget is _____

- a. Rs.42,281 crore b. Rs.41,381 crore c. Rs.42,218 crore
d. Rs.42,283 crore e. Answer not known

தமிழக வேளாண் பட்ஜெட்டில் விவசாயத்திற்கான ஒதுக்கீடு _____

- a. ரூ.42,281 கோடி b. ரூ.41,381 கோடி c. ரூ.42,218 கோடி
d. ரூ.42,283 கோடி e. விடை தெரியவில்லை

69. Mullai Park will be set up at _____

- a. Kolli hills b. Vellikottai c. Viralimalai
d. Velimalai e. Answer not known

முல்லை பூங்கா _____ இல் அமைக்கப்படும்

- a. கொல்லி மலைகள் b. வெள்ளிக்கோட்டை c. விராலிமலை
d. வேளிமலை e. விடை தெரியவில்லை

70. What is the allocation of fund for the Department of Social Welfare and Women Empowerment in the recent Tamilnadu Budget?

- a. Rs.7830 crores b. Rs. 7828 crores c. Rs.7800 crores
d. Rs.7730 crores e. Answer not known

சமீபத்திய தமிழ்நாடு பட்ஜெட்டில் சமூக நலம் மற்றும் பெண்களுக்கு அதிகாரமளித்தல் துறைக்கு எவ்வளவு நிதி ஒதுக்கீடு செய்யப்பட்டுள்ளது?

- a. ரூ.7830 கோடி b. ரூ.7828 கோடி c. ரூ.7800 கோடி
d. ரூ.7730 கோடி e. விடை தெரியவில்லை

71. Tamil Nadu has provided a budgetary allocation of Rs. 44,042.08 crore for the financial year 2024-25 for

- a. School Education Department.
b. Adi Dravidar and Tribal Welfare Department
c. Rural Development and Panchayat Raj Department
d. Department of Environment and Climate change
e. Answer not known

தமிழ்நாடு 2024-25 நிதியாண்டில் ரூ.44,042.08 கோடி பட்ஜெட் ஒதுக்கீட்டை எந்த துறைக்கு வழங்கியுள்ளது?

- a. பள்ளிக் கல்வித் துறை.
b. ஆதி திராவிடர் மற்றும் பழங்குடியினர் நலத்துறை
c. ஊரக வளர்ச்சி மற்றும் பஞ்சாயத்து ராஜ் துறை
d. சுற்றுச்சூழல் மற்றும் காலநிலை மாற்றத் துறை
e. விடை தெரியவில்லை

72. Consider the following statements

1. Tamil Nadu's economy has shifted agriculture (13% of GSDP) to services sector (53% of GSDP) and industries/manufacturing (34% of GSDP)
2. The female labour force participation (FLFP) rate was 43.9% in 2022-2023, compared to the male rate of 81.2%.

- a. 1 is correct b. 2 is correct c. Both are correct
d. Both are wrong e. Answer not known

பின்வரும் கூற்றுகளை ஆய்க

1. தமிழ்நாட்டின் பொருளாதாரம் விவசாயத்தை (GSDP-யில் 13%) சேவைத் துறைக்கு (GSDP-யில் 53%) மற்றும் தொழில்கள்/உற்பத்தி (GSDP-யில் 34%) மாற்றியுள்ளது
2. பெண் தொழிலாளர் பங்களிப்பு விகிதம் (FLFP) 2022-2023 ஆம் ஆண்டில் 43.9% ஆக இருந்தது, ஆண்களின் விகிதம் 81.2% ஆக இருந்தது.

- a. 1 சரி b. 2 சரி c. இரண்டும் சரி
d. இரண்டும் தவறு e. விடை தெரியவில்லை

73. Thiran Tamizhagam e-Magazine being published by the Employment Wing of the Department of Employment and Training is a

- a. monthly magazine b. weekly magazine c. quarterly magazine
d. annual magazine e. Answer not known

வேலைவாய்ப்பு மற்றும் பயிற்சித் துறையின் வேலைவாய்ப்புப் பிரிவால் வெளியிடப்படும் தீரன் தமிழகம் மின்-இதழ் ஒரு

- a. மாதாந்திர இதழ் b. வார இதழ் c. காலாண்டு இதழ்
d. ஆண்டு இதழ் e. விடை தெரியவில்லை

74. What is the sharing pattern between Central and State Governments for SWADHAR Stay Homes, which are run by Non Governmental Organisations?
- a. 60 : 40 b. 75 : 25 c. 50 : 50
d. 100% centrally sponsored e. Answer not known
- அரசு சாரா நிறுவனங்களால் நடத்தப்படும் ஸ்வதர் தங்குமிடங்களுக்கான மத்திய மற்றும் மாநில அரசுகளுக்கு இடையிலான பகிர்வு முறை என்ன
- a. 60 : 40 b. 75 : 25 c. 50 : 50
d. 100% மத்திய நிதியுதவி e. விடை தெரியவில்லை
75. Which year Tamil Nadu Backward Classes Economic Development Corporation (TABCEDCO) was established?
- a. 1982 b. 1986 c. 1994
d. 1993 e. Answer not known
- தமிழ்நாடு பிற்படுத்தப்பட்டோர் பொருளாதார மேம்பாட்டுக் கழகம் (TABCEDCO) எந்த ஆண்டு நிறுவப்பட்டது?
- a. 1982 b. 1986 c. 1994
d. 1993 e. விடை தெரியவில்லை
76. Tamil Nadu Government constitutes the Waqf Board once in every _____
- a. 3 years b 5 years c. 4 year
d. 2 years e. Answer not known
- தமிழ்நாடு அரசு எத்தனை ஆண்டுகளுக்கு ஒருமுறை வக்ஃப் வாரியத்தை உருவாக்குகிறது?
- a. 3 ஆண்டுகள் b. 5 ஆண்டுகள் c. 4 ஆண்டு
d. 2 ஆண்டுகள் e. விடை தெரியவில்லை
77. Consider the following statement
1. Tamil Nadu Kalaigñar Magalir Urimai Thittam was launched on 15th of September 2023 in Kanchipuram.
 2. The initial budget allocation for implementing the Kalaigñar Magalir Urimai Thittam during the fiscal year 2023-24 was set at ₹7,000 crore.
 3. Ungalai thedi ungal ooril scheme was announced on November 23, 2023, and the implementation started on January 23, 2024.
- a. 1, 2 are correct b. 1only correct c. 1 and 3 are correct
d. all are correct e. Answer not known
- பின்வரும் அறிக்கையைக் கவனியுங்கள்
1. தமிழ்நாடு கலைஞர் மகளிர் உரிமைத் திட்டம் செப்டம்பர் 15, 2023 அன்று காஞ்சிபுரத்தில் தொடங்கப்பட்டது.
 2. 2023-24 நிதியாண்டில் கலைஞர் மகளிர் உரிமைத் திட்டத்தைச் செயல்படுத்துவதற்கான ஆரம்ப பட்ஜெட் ஒதுக்கீடு ₹7,000 கோடியாக நிர்ணயிக்கப்பட்டது.
 3. உங்களை தேடி உங்கள் ஊரில் திட்டம் நவம்பர் 23, 2023 அன்று அறிவிக்கப்பட்டு ஜனவரி 23, 2024 அன்று செயல்படுத்தப்பட்டது.
- a. 1, 2 சரி b. 1 மட்டும் சரி c. 1 மற்றும் 3 சரி
d. அனைத்தும் சரி e. விடை தெரியவில்லை

78. Which scheme got the United Nations Interagency Task Force Award (UNIATF) for 2024?
- Nan Mudhalvan scheme
 - Innuyir Kappom Nammai Kakkum 48
 - Uttachathai uruthi sei" Scheme
 - Makkalai Thedi Maruththuvam
 - Answer not known
- 2024 ஆம் ஆண்டிற்கான ஐக்கிய நாடுகளின் இன்டராஜென்சி டாஸ்க் ஃபோர்ஸ் விருதை (UNIATF) பெற்ற திட்டம் எது?
- நன் முதல்வன் திட்டம்
 - இன்னுயிர் காப்போம் நம்மை காக்கும் 48
 - “ஊட்டச்சத்தை உறுதி செய்” திட்டம்
 - மக்களை தேடி மருத்துவம்
 - விடை தெரியவில்லை
79. “ELANTHENDRAL PETTAGAM” - related with
- To encourage girls education
 - To empower women in employment
 - To protect women from Domestic violence
 - For creating awareness to prevent child marriages
 - Answer not known
- “இளந்தென்றல் பெட்டகம்” - தொடர்புடையது
- பெண் குழந்தைகளின் கல்வியை ஊக்குவித்தல்
 - வேலைவாய்ப்பில் பெண்களுக்கு அதிகாரம் அளித்தல்
 - குடும்ப வன்முறையில் இருந்து பெண்களை பாதுகாக்க வேண்டும்
 - குழந்தை திருமணங்களை தடுக்க விழிப்புணர்வு ஏற்படுத்த வேண்டும்
 - விடை தெரியவில்லை
80. Which one of the following scheme is not being implemented by the Department of Social Welfare and women Empowerment Department?
- Rural Girl's Incentive Scheme
 - Nutritious Meal Programme
 - Tamil Pudhalvan Scheme
 - Free Travel For Women in Government Buses
 - Answer not known
- பின்வரும் திட்டங்களில் எது சமூக நலம் மற்றும் மகளிர்க்கு அதிகாரமளித்தல் துறையால் செயல்படுத்தப்படவில்லை?
- கிராமப்புற பெண் குழந்தைகளுக்கான ஊக்கத்தொகை திட்டம்
 - சத்தான உணவுத் திட்டம்
 - தமிழ்ப் புதல்வன் திட்டம்
 - அரசு பேருந்துகளில் பெண்களுக்கு இலவச பயணம்
 - விடை தெரியவில்லை

81. Tamilnadu Urban Health Care Project is being funded by
 a. World Bank b. JICA c. Central and state government
 d. WHO e. Answer not known
 தமிழ்நாடு நகர்ப்புற சுகாதாரப் பராமரிப்புத் திட்டம் நிதியளிக்கப்படுகிறது
 a. உலக வங்கி b. JICA c. மத்திய மற்றும் மாநில அரசு
 d. WHO e. விடை தெரியவில்லை
82. Who has been notified as the Conciliation and Maintenance Officer under the Maintenance and Welfare of Parents and Senior Citizens Act, 2007?
 a. District Social Welfare Officer b. Revenue Divisional Officer
 c. District Revenue Officer d. District Collector
 e. Answer not known
 பெற்றோர் மற்றும் மூத்த குடிமக்களின் பராமரிப்பு மற்றும் நலன் சட்டம், 2007 இன் கீழ் சமரசம் மற்றும் பராமரிப்பு அதிகாரியாக அறிவிக்கப்பட்டவர் யார்?
 a. மாவட்ட சமூக நல அலுவலர் b. வருவாய் கோட்ட அலுவலர்
 c. மாவட்ட வருவாய் அலுவலர் d. மாவட்ட ஆட்சியர்
 e. விடை தெரியவில்லை
83. Tamil Nadu Child Victim Compensation Fund has been created under the act of
 a. The Juvenile Justice (Care and Protection of Children) Act, 2015
 b. The Right of Children to Free and Compulsory Education Act, 2009
 c. The Protection of Children from Sexual Offences Act, 2012
 d. The Child Labour (Prohibition and Regulation) Act, 1986
 e. Answer not known
 தமிழ்நாடு குழந்தை பாதிக்கப்பட்ட இழப்பீட்டு நிதி சட்டத்தின் கீழ் உருவாக்கப்பட்டது
 a. சிறார் நீதி (குழந்தைகளின் பராமரிப்பு மற்றும் பாதுகாப்பு) சட்டம், 2015
 b. குழந்தைகள் இலவச மற்றும் கட்டாயக் கல்வி பெறும் உரிமைச் சட்டம், 2009
 c. பாலியல் குற்றங்களிலிருந்து குழந்தைகளைப் பாதுகாக்கும் சட்டம், 2012
 d. குழந்தைத் தொழிலாளர் (தடை மற்றும் ஒழுங்குமுறை) சட்டம், 1986
 e. விடை தெரியவில்லை
84. Who is the chairperson for Tamilnadu State Commission for Women?
 a. Dr. Malathi Narayanasamy b. Tmt. P. Geetha Natarajan
 c. Tmt. K. Sivagama Sundari d. Tmt. A.S. Kumari
 e. Answer not known
 தமிழ்நாடு மாநில மகளிர் ஆணையத்தின் தலைவர் யார்?
 a. டாக்டர் மாலதி நாராயணசாமி b. திருமதி. P. கீதா நடராஜன்
 c. திருமதி. K. சிவகாம சுந்தரி d. திருமதி. A.S. குமாரி
 e. விடை தெரியவில்லை
85. What is the rank of India in Human Development Index (2024)?
 a. 133 b. 134 c. 136 d. 135 e. Answer not known
 மனித மேம்பாட்டு குறியீட்டில் (2024) இந்தியாவின் தரவரிசை என்ன?
 a. 133 b. 134 c. 136 d. 135 e. விடை தெரியவில்லை

86. Choose the incorrect pair
- The Payment of Wages Act, 1936,
 - The Minimum Wages Act, 1948,
 - The Equal Remuneration Act, 1976
 - The Payment of Bonus Act, 1962
 - Answer not known
- தவறான இணையைக் காண்க
- ஊதியம் வழங்கல் சட்டம், 1936,
 - குறைந்தபட்ச ஊதியச் சட்டம், 1948,
 - சம ஊதியச் சட்டம், 1976
 - போனஸ் வழங்கல் சட்டம், 1962
87. Give Expansion of STRIVE
- Skills Strengthening for Industrial Value Enhancement
 - Skills Strengthening for Inclusive Value Enhancement
 - Skills Strengthening for Industrial Value Enrichment
 - Skills Strengthening for Innovative Value Enhancement
 - Answer not known
- விரிவாக்கம் தருக – STRIVE
- Skills Strengthening for Industrial Value Enhancement
 - Skills Strengthening for Inclusive Value Enhancement
 - Skills Strengthening for Industrial Value Enrichment
 - Skills Strengthening for Innovative Value Enhancement
 - விடை தெரியவில்லை
88. Select the vulnerable sectors under Tamil Nadu State Action Plan on Climate Change (TNSAPCC) 2.0
- Forests & Biodiversity
 - Industrial Area Management
 - Enhanced Energy Efficiency & Solar Mission
 - Gender and Climate Change
- 2, 3, 4
 - 1, 3, 4
 - 1, 2, 4
 - All of these
 - Answer not known
- தமிழ்நாடு மாநில காலநிலை மாற்றம் செயல் திட்டம் (TNSAPCC) 2.0 இன் கீழ் பாதிப்புக்குள்ளாக்கக்கூடிய துறைகளைத் தேர்ந்தெடுக்கவும்
- காடுகள் மற்றும் பல்லுயிர் பெருக்கம்
 - தொழில்துறை பகுதி மேலாண்மை
 - மேம்படுத்தப்பட்ட ஆற்றல் திறன் மற்றும் சூரிய சக்தி இயக்கம்
 - பாலினம் மற்றும் காலநிலை மாற்றம்
- 2, 3, 4
 - 1, 3, 4
 - 1, 2, 4
 - இவை அனைத்தும்
 - விடை தெரியவில்லை

89. Who is the chairman of The Tamil Nadu Governing Council on Climate Change?

- a. Chief Minister
- b. Chief Secretary
- c. Minister of Environment and Climate Change
- d. none of these
- e. Answer not known

தமிழ்நாடு காலநிலை மாற்றம் ஆளும் குழுவின் தலைவர் யார்?

- a. முதலமைச்சர்
- b. தலைமைச் செயலாளர்
- c. சுற்றுச்சூழல் மற்றும் காலநிலை மாற்ற அமைச்சர்
- d. இவற்றில் எதுவுமில்லை
- e. விடை தெரியவில்லை

90. Give Expansion of TN-SHORE

- a. "Tamil Nadu Sustainably Harnessing Ocean Resources and Blue Economy
- b. "Tamil Nadu Sustainably Harnessing Ocean Research and Blue Economy
- c. "Tamil Nadu Sustainably Harnessing Ocean Resources and Green Economy
- d. "Tamil Nadu Sustainably Harvesting Ocean Resources and Blue Economy
- e. Answer not known

TN-SHORE இன் விரிவாக்கத்தை வழங்கவும்

- a. "Tamil Nadu Sustainably Harnessing Ocean Resources and Blue Economy
- b. "Tamil Nadu Sustainably Harnessing Ocean Research and Blue Economy
- c. "Tamil Nadu Sustainably Harnessing Ocean Resources and Green Economy
- d. "Tamil Nadu Sustainably Harvesting Ocean Resources and Blue Economy
- e. விடை தெரியவில்லை

91. Match the following

- | | |
|------------|---------------------------|
| A. CRZ-I | 1. Water area |
| B. CRZ-II | 2. Rural area |
| C. CRZ-III | 3. Developed area |
| D. CRZ-IV | 4. Ecologically sensitive |

- | | A | B | C | D |
|----|---|---|---|---|
| a. | 1 | 2 | 3 | 4 |
| b. | 2 | 3 | 4 | 1 |
| c. | 4 | 3 | 2 | 1 |
| d. | 3 | 2 | 4 | 1 |

e. Answer not known

பின்வருவனவற்றைப் பொருத்தவும்

- | | |
|------------|---------------------------------------|
| A. CRZ-I | 1. கடல்நீர் பகுதி |
| B. CRZ-II | 2. ஊரகப்பகுதி |
| C. CRZ-III | 3. வளர்ச்சியடைந்த பகுதி |
| D. CRZ-IV | 4. சூழல் முக்கியத்துவம் வாய்ந்த பகுதி |

	A	B	C	D
a.	1	2	3	4
b.	2	3	4	1
c.	4	3	2	1
d.	3	2	4	1
e.	விடை தெரியவில்லை			

92. The Tamil Nadu Government started the Eco clubs - the first of its kind in India in the year _____

- a. 1996 b. 1998 c. 1999
d. 1997 e. Answer not known

தமிழ்நாடு அரசு சூழல் மன்றங்களைத் தொடங்கியது - இது இந்தியாவில் முதன்முதலில் _____ ஆண்டில் தொடங்கியது

- a. 1996 b. 1998 c. 1999
d. 1997 e. விடை தெரியவில்லை

93. Which of the following statement(s) is(are) correct with reference to the Biodiversity Hotspot?

1. A biodiversity hotspot is a biogeography region with significant levels of biodiversity that is threatened with destruction.
 2. To qualify as a biodiversity hotspot, a region must meet two strict criteria: it must contain at least 500 species of vascular plants as endemic and it has to have lost at least 50% of its primary vegetation.
 3. Western Ghats is a biodiversity hotspot in India.
- a. Only 1 and 3 b. Only 2 and 3 c. Only 2
d. 1, 2 and 3 e. Answer not known

பல்லுயிர் பெருக்கத்தைப் பற்றிய பின்வரும் கூற்று/கள் எது/எவை சரியானது?

1. பல்லுயிர் பெருக்கம் என்பது அழிவின் அச்சுறுத்தலுக்கு உள்ள குறிப்பிடத்தக்க அளவிலான உயிரியல் பன்முகத்தன்மையைக் கொண்ட ஒரு உயிரியல் புவியியல் பிரதேசமாகும்.
 2. பல்லுயிர் பெருக்கம் என்ற தகுதி பெற, ஒரு பிராந்தியம் இரண்டு கண்டிப்பான அளவுகோல்களை பூர்த்தி செய்ய வேண்டும்: அது குறைந்தது 500 தாவர இனங்கள் உள்ளூர் இனமாகக் கொண்டிருக்க வேண்டும் மற்றும் அதன் முதன்மை தாவரங்கள் குறைந்தது 50% இழக்கப்பட்டுள்ளது.
 3. மேற்கு தொடர்ச்சி மலைகள் இந்தியாவில் உள்ள உயிரியல் பன்முகத்தன்மை மையப்புள்ளியாகும்.
- a. 1 மற்றும் 3 மட்டும் b. 2 மற்றும் 3 மட்டும் c. 2 மட்டும்
d. 1, 2 மற்றும் 3 e. விடை தெரியவில்லை

94. Name of 'water hyacinth' for the loss of biodiversity, is related to

- a. Overexploitation b. Alien species c. Co-extinction
d. All of these e. Answer not known

பல்லுயிர் இழப்பிற்கான “ ஆகாயத் தாமரை” யின் பெயர், பின்வரும் எதனுடன் தொடர்புடையது?

- a. அதிக அளவில் சுரண்டல் b. ஆக்கிரமிப்பு இனங்கள் c. இணை அழிவு
d. இவையனைத்தும் e. விடை தெரியவில்லை

95. What is the theme of COP28?

- a. Achieving Global Peace; Sustainable Development for All
b. Accelerating climate action for sustainable development
c. Earth is for Every one; Sustainable Development for All
d. Innovation for a Better Marine life
e. Answer not known

COP28 இன் கருப்பொருள் என்ன?

- a. உலகளாவிய அமைதியை அடைதல் அனைவருக்கும் நிலையான வளர்ச்சி
b. நிலையான வளர்ச்சிக்கான காலநிலை நடவடிக்கைகளை விரைவுபடுத்துதல்
c. பூமி அனைவருக்கும் அனைவருக்கும் நிலையான வளர்ச்சி
d. சிறந்த கடல்வாழ் உயிரினங்களுக்கான புதுமை
e. விடை தெரியவில்லை

96. When was the Paris Agreement adopted?

- a. 2018 b. 2015 c. 2010
d. 2005 e. Answer not known
பாரிஸ் ஒப்பந்தம் எப்போது ஏற்றுக்கொள்ளப்பட்டது?
a. 2018 b. 2015 c. 2010
d. 2005 e. விடை தெரியவில்லை

97. Which one of the following is not the core functions of Revenue and Disaster Management Department?

- a. Public Grievance Redressal
b. Issuance of e-Certificates and licenses
c. Implementation of Social Security Schemes
d. In Service Training to Government Servants
e. Answer not known

பின்வருவனவற்றில் எது வருவாய் மற்றும் பேரிடர் மேலாண்மைத் துறையின் முக்கிய பணிகள் அல்ல?

- a. பொதுமக்கள் குறை தீர்த்தல்
b. மின்னணு சான்றிதழ்கள் மற்றும் உரிமங்களை வழங்குதல்
c. சமூக பாதுகாப்புத் திட்டங்களை செயல்படுத்துதல்
d. அரசு ஊழியர்களுக்கு பணிக்கால பயிற்சி
e. விடை தெரியவில்லை

98. Find out the incorrect pair
- COP 26 - France
 - Cop 27 - Egypt
 - COP 28 - UAE
 - COP 29 - Azerbaijan
 - Answer not known
- தவறான இணையைக் காண்க
- COP 26 - பிரான்ஸ்
 - Cop 27 - எகிப்து
 - COP 28 - UAE
 - COP 29 - அசர்பைஜான்
 - விடை தெரியவில்லை

99. Match the following

Cyclone	Year
A. Fengal	1. 2020
B. Michaung	2. 2022
C. Mandous	3. 2023
D. Nivar	4. 2024

	A	B	C	D
a.	4	3	2	1
b.	1	2	3	4
c.	2	3	4	1
d.	3	2	1	4

பின்வருவனவற்றைப் பொருத்தவும்
கூறாவளி ஆண்டு

A. ஃபெங்கல்	1. 2020
B. மிச்சாங்	2. 2022
C. மண்டூஸ்	3. 2023
D. நிவார்	4. 2024

	A	B	C	D
a.	4	3	2	1
b.	1	2	3	4
c.	2	3	4	1
d.	3	2	1	4

100. Who among the following is not the member of State Disaster Management Authority (SDMA)?
- Secretary of Finance Department
 - Secretary of Home Department
 - Secretary of Health and Family Welfare Department
 - Chief Secretary to Government
 - Answer not known

பின்வருவனவற்றில் மாநில பேரிடர் மேலாண்மை ஆணையத்தின் (SDMA) உறுப்பினர் அல்லாதவர் யார்?

- நிதித் துறை செயலாளர்
- உள்துறை செயலாளர்
- சுகாதாரம் மற்றும் குடும்ப நலத் துறை செயலாளர்
- அரசாங்கத்தின் தலைமைச் செயலாளர்
- விடை தெரியவில்லை

101. It is quite difficult to _____ what this doctor writes.
a. make out b. make in c. make on
d. made up e. Answer not known

102. The teacher asked the students to _____ their ideas during the class discussion.
a. get on b. put off c. bring up
d. bring about e. Answer not known

103. The old building was _____ by the authorities.
a. pulled through b. pulled down c. pulled up
d. pulled on e. Answer not known

104. Match the Following:
Column A Column B
A. Chores 1. Untidy
B. Bedraggled 2. Torn
C. Wretched 3. A Routine Duty Or Task
D. Tattered 4. Unhappy

	A	B	C	D
a.	3	1	4	2
b.	4	2	1	3
c.	2	4	3	1
d.	1	2	3	4
e.	Answer not known			

105. Match the Following:
Column A Column B
A. Engulf 1. Look after
B. Perch 2. To eat
C. Fend 3. Think
D. Contemplate 4. To rest

	A	B	C	D
a.	2	4	1	3
b.	4	3	2	1
c.	3	1	4	2
d.	1	2	3	4
e.	Answer not known			

106. Choose the correct synonym for the underlined word from the options given:-
He was little more than a big bale of grey fur.

- a. saddle b. bundle c. basket
d. assortment e. Answer not known

107. Choose the correct Antonym of the underlined word from the options given below.

Her happiest moments were with her sparrows that she fed with frivolous rubukes.

- a. serious b. harmless c. funny
d. decent e. Answer not known

108. Choose the correct Antonym of the underlined word from the options given below.

He has a memory like a sieve or is an audacious perverter of the truth.

- a. bold b. timid c. daring
d. strong e. Answer not known

109. Choose the correct Antonym of the underlined word from the options given below.

It was at this point that my wife looked at me with an expression of wonder - not anger or exasperation.

- a. irritation b. calmness c. chagrin
d. annoyance e. Answer not known

110. Match the following suffixes with the rootword and mark the codes given below:

Column A	Column B
A. Migrate	1. ment
B. notice	2. ern
C. north	3. ion
D. excite	4. able

	A	B	C	D
a.	1	4	2	3
b.	3	4	2	1
c.	3	1	4	2
d.	2	4	3	1
e.	Answer not known			

111. Choose the suitable prefix _____ audible
a. in b. ir c. im d. de e. Answer not known
112. Fill in the blanks with suitable Article:
One morning while I was sitting beside my Grandfather on _____ veranda steps, I noticed _____ tendril of _____ creeping vine trailing nearby.
a. a, a, a b. the, the, a c. the, a, a
d. the, the, the e. Answer not known
113. Fill in the blanks with suitable Article:
Dr. Watson visits _____ apartment of his friend Sherlock Holmes. He finds detective Holmes talking to _____ client with bright red hair, Mr. Jabez Wilson. Holmes asks Dr. Watson to hear the unusual story of _____ client.
a. the, a, the b. a, a, a c. the, the, a
d. an, the, the e. Answer not known
114. Fill in the blanks with suitable Article:
Spices were always _____ important part of India's trade. Spices were traded with _____ Mesopotamia, China, Sumeria, Egypt and Arabia, along with perfumes and textiles as far back as 7000 years ago much before _____ Greek and Roman Civilizations.
a. a, the, the b. an, no article, a c. an, the, the
d. an, no article, the e. Answer not known
115. Fill in the blanks with suitable Preposition:
1. The school anniversary was held _____ 5.02.2025.
2. Mahatma Gandhi was born _____ October 2, 1869.
3. The next session of the meeting will be held _____ 4th September.
4. Monsoon comes _____ June.
a. in, in, in, in b. on, on, on, on c. on, on, on, in
d. on, in, on, in e. Answer not known

116. Fill in the blank with suitable Preposition:
Tomatoes sown _____ July in the southern states are harvested in October.
a. around b. at c. on
d. between e. Answer not known
117. Fill in the blank with suitable Preposition:
Our new office will become operational _____ a weeks time.
a. from b. in c. since
d. For e. Answer not known
118. He can't walk, _____?
a. can he? b. can't he? c. could he?
d. will he? e. Answer not known
119. We should obey our elders, _____?
a. shan't we? b. shall we? c. should we?
d. shouldn't we? e. Answer not known
120. He had been summoned by the court, _____?
a. wasn't he? b. had been he? c. had he?
d. hadn't he? e. Answer not known
121. Choose the correct tense:
The war _____ badly damaged the country's infrastructure.
a. has b. have c. was d. is e. Answer not known
122. Choose the correct tense:
The milk has boiled over and _____ the stove.
a. felled onto b. fallen onto c. falling onto
d. falled onto e. Answer not known
123. Choose the correct tense:
I tried to contact my dentist but her cell phone _____ switched off.
a. appeared to have been b. appears to had been c. appeared to been
d. appear to be e. Answer not known
124. Choose the correct tense:
As a young girl, Mary lived in France, where she _____ the king of France,
Francis II.
a. is married b. have married c. married
d. had married e. Answer not known

125. Choose the correct Active Voice for the given sentence:
The tickets had already been booked by my friend
a. My friend already booked the tickets
b. The tickets had already booked my friend
c. My friend had already booked the tickets
d. My friend has already booked the tickets
e. Answer not known
126. Choose the correct Active Voice for the given sentence:
My pencil have been stolen
a. He have stolen my pencils
b. Somebody steals my pencils
c. Somebody has stolen my pencils
d. He stole my pencils
e. Answer not known
127. Choose the correct Active Voice for the given sentence:
Has the villa been occupied by them?
a. Did they occupied the villa?
b. Had they occupied the villa?
c. Have they occupied the villa?
d. Do they occupied the villa?
e. Answer not known
128. Pick out the sentence with Gerund.
a. This is a knife for cutting vegetables.
b. Be careful when crossing the road.
c. He is busy preparing for the TNPSC examination.
d. My grandma burst into tears telling her story.
e. Answer not known
129. Fill in the blank with the suitable Non-finite verb.
I saw the storm _____.
a. had approached
b. approaching
c. was approaching
d. approaches
e. Answer not known
130. Match the following
- | | |
|--|-----------------------|
| Column A | Column B |
| A. My father hates borrowing money. | 1. Infinitive |
| B. He is looking forward to seeing me. | 2. Gerund |
| C. It's going to rain this evening. | 3. Present Participle |
| D. Your bedroom needs to be painted. | 4. Past Participle |

	A	B	C	D
a.	3	2	4	1
b.	3	4	1	2
c.	2	1	3	4
d.	2	3	1	4
e.	Answer not known			

131. Identify the sentence pattern:
The train was really packed.
a. SVC b. SVCA c. SVAC
d. SVOC e. Answer not known
132. Give the sentence pattern.
"He didn't leave us any".
a. SVOA b. SVIDO c. SAVOA
d. SVOC e. Answer not known
133. I will _____ any job _____ for the one that requires me to work on weekends.
a. except; accept b. accept; expect c. expect; accept
d. accept; except e. Answer not known
134. He was complimented for his appearance. His shirt _____ his trousers perfectly.
a. Complained b. complimented c. Commented
d. Complemented e. Answer not known
135. Find out the error:
Why don't you throw this paper on the dust bin?
a. the dust bin b. on c. you throw this
d. Why e. Answer not known
136. Find out the error:
Karthik is/ an oldest member/ in our/ Black Ice Club.
a. in our b. black ice club c. karthik is
d. an oldest e. Answer not known
137. Find out the error:
He finally/ recalled that/ the thieves have leave/ from the front door.
a. the thieves have leave b. recalled that c. He finally
d. from the front door e. Answer not known

138. Select the grammatically correct sentence:
- The boy, as well as his friends, are absent from the class when the teacher came.
 - The boy, as well as his friends, has absent from the class when the teacher came.
 - The boy, as well as his friends, were absent from the class when the teacher came.
 - The boy, as well as his friends, was absent from the class when the teacher came.
 - Answer not known
139. I _____ something burning now.
- smelt
 - smell
 - have been smelling
 - have smolt
 - Answer not known
140. _____ there were no buses, we had to take a taxi
- Even if
 - Hence
 - Since
 - Although
 - Answer not known
141. Identify which of the following sentences has used the word free as an ADVERB.
- My uncle gave me two free tickets to watch the movie.
 - He frees his children. It is not good.
 - Are you free to come with me to the shopping?
 - This identity card allows you to travel free for a year.
 - Answer not known
142. Identify the parts of speech of the words underlined in sequence
A person with polite manners is always admired by everyone. He gains much fame and appreciation.
- Adverb, noun, adverb, adjective
 - Adjective, adverb, verb, noun
 - Noun, adjective, verb, adjective
 - Adjective, Adverb, noun, verb
 - Answer not known
143. Which of the following is an adjective?
- badly
 - bad
 - intelligence
 - removed
 - Answer not known
144. The CBSE has introduced a _____ to assign marks for the examination.
- Formulae
 - Formulas
 - Formula
 - Formuli
 - Answer not known

145. Select the correct plural form for the word swine.
 a. swiness b. swins c. swine
 d. swineses e. Answer not known
146. Combine the pairs of sentences by choosing the correct sentence.
 A man was drowning. He cried for help.
 a. A man who helped was crying.
 b. A man who was crying was drowning for help.
 c. A man who was drowning cried for help.
 d. A man was drowning to help.
 e. Answer not known
147. Pick out the simple sentence
 1. He wrote the letter and put it in an envelope
 2. Let's forgive them because, they are ignorant
 3. When she heard the bad news, she fainted
 4. On hearing the bad news, she fainted
 a. 4 b. 2 c. 3 d. 1 e. Answer not known
148. Match the sentences in Column A with Column B and select the correct answer from the options given
- | | |
|---|-----------------------|
| Column A | Column B |
| a. I lost my purse | 1. Compound sentences |
| b. A book was written by Meera | 2. Active Voice |
| c. The mountain is very steep and I cannot climb it | 3. Complex sentence |
| d. Though he is old, he walks quickly | 4. Passive Voice |
- | | | | | |
|----|---|---|---|---|
| | a | b | c | d |
| A. | 2 | 4 | 1 | 3 |
| B. | 4 | 1 | 2 | 3 |
| C. | 1 | 2 | 3 | 4 |
| D. | 3 | 1 | 2 | 4 |
149. Identify the correct Degree of Comparison :
 1. Aditya is not the most intelligent of all other students in the class
 2. No other stadium in Bihar is as famous as Moinul Haq Stadium
 a. (1) Comparative Degree (2) Positive Degree
 b. (1) Superlative Degree (2) Comparative Degree
 c. (1) Superlative Degree (2) Positive Degree
 d. (1) Positive Degree (2) Superlative Degree
 e. Answer not known

150. Identify the correct Degree of Comparison :
1. She is not as beautiful as Monika
 2. The sun is the hottest star in the solar system
- a. (1) Comparative Degree (2) Superlative Degree
 - b. (1) Positive Degree (2) Comparative Degree
 - c. (1) Superlative Degree (2) Positive Degree
 - d. (1) Positive Degree (2) Superlative Degree
 - e. Answer not known
151. Identify the correct Degree of Comparison :
1. You do not know her better than I
 2. Games are more interesting.
- a. (1) Comparative Degree (2) Positive Degree
 - b. (1) Comparative Degree (2) Superlative Degree
 - c. (1) Superlative Degree (2) Positive Degree
 - d. (1) Comparative Degree (2) Comparative Degree
 - e. Answer not known
152. Choose the correct word formed by blending:
potato + tomato
- a. pomato
 - b. potmat
 - c. potamato
 - d. pottom
 - e. Answer not known
153. Choose the correct compound word for
Adverb + verb
- a. redhot
 - b. under age
 - c. white wash
 - d. over change
 - e. Answer not known
154. The Correct American English equivalent of the word, 'Pram' is
- a. Pavement
 - b. Parlor
 - c. Stroller
 - d. Stalker
 - e. Answer not known
155. Choose the American English equivalent of the word 'Beggar'
- a. street dweller
 - b. Pan handler
 - c. beggar
 - d. sanitary worker
 - e. Answer not known

Read the following passage carefully and answer the questions given below.
(Q. No. 156-160):

Ghana was the first true African state. The reason why we are saying this is that most African states lived in tribal villages but Ghana was the centre of gold trade. This gold trade opened new possibilities for the Ghanaians. The gold trade roots back to the 4th century, when African Soninke tribes were under the rule of the Maga, a Berber clan originating from Morocco. This clan has mastered trans-Saharan camel travel. They were known for trading salt for gold from the Soninke. When the Arabs invaded North Africa, there was an upsurge in the trade in gold. Ghana became rich and soon after, the Soninke ousted the Maga and built their own nation under Kaya Magan Cisse, who became the Soninke king around 790. Ghana's ancient capital, Koumbi Salah, was the city where Africans and Berbers met and traded. Arab traders in the 9th century described Ghana as 'the land of gold'. The gold came from Asante and Senegal, to the south and west. The trade routes led north and east to Morocco, Libya and Aksum and so on to Europe and Asia. Ghana had reached its peak in the 10th century. This was the country which controlled both the gold and salt trades. Other trading goods included woollen clothes, luxury items, leather goods and slaves. Traders transported goods hundreds of kilometres across the Sahara desert with camel caravans.

156. Maga, a Berber clan originated from:
a. Morocco b. Senegal c. Aksum
d. Libya e. Answer not known
157. Select the most appropriate title for the passage.
a. Ghana - land of Arabs b. Ghana - land of terrorist
c. Ghana - land of Berbers d. Ghana - land of gold
e. Answer not known
158. Maga was ousted by
a. Arabs b. Koumbi Salah c. Senegal
d. Soninke e. Answer not known
159. Ghana had reached its peak in the _____.
a. 4th century b. 10th century c. 9th century
d. 7th century e. Answer not known
160. Ghana's ancient capital is _____.
a. Kaya Magan Cisse b. Morocco c. Koumbi Salah
d. Asante e. Answer not known

161. Select the option that is related to the fifth letter-cluster in the same way as the second letter-cluster is related to the first letter-cluster and the four letter-cluster is related to the third letter-cluster. FUELED : DXBOAG :: GELATO : EHIDPR :: HEARTY : ?

முதல் எழுத்துக்குழுவுடன் இரண்டாவது எழுத்துக்குழு எவ்வாறு தொடர்புடையதோ, மூன்றாவது எழுத்துக்குழுவுடன் நான்காவது எழுத்துக்குழு எவ்வாறு தொடர்புடையதோ அதே விதமாக ஐந்தாவது எழுத்துக்குழுவுடன் தொடர்புடைய எழுத்துக்குழுவை தேர்வு செய்க?

FUELED : DXBOAG :: GELATO : EHIDPR :: HEARTY : ?

- a. OPBSUJ b. MQADFH c. FHXUPB
d. LNFCA e. Answer not known

162. Select the option that is related to the fifth letter-cluster in the same way as the second letter-cluster is related to the first letter-cluster and the fourth letter - cluster is related to the third letter-cluster.

BPX : ENB :: KUW : NSA :: FOY : ?

முதல் எழுத்துக்குழுவுடன் இரண்டாவது எழுத்துக்குழு எவ்வாறு தொடர்புடையதோ, மூன்றாவது எழுத்துக்குழுவுடன் நான்காவது எழுத்துக்குழு எவ்வாறு தொடர்புடையதோ அதே விதமாக ஐந்தாவது எழுத்துக்குழுவுடன் தொடர்புடைய எழுத்துக்குழுவை தேர்வு செய்க?

BPX : ENB :: KUW : NSA :: FOY : ?

- a. CQU b. CQW c. IMP
d. IMC e. Answer not known

163. Three of the given figures are similar in a certain manner while one is different. Pick the odd one out.

கொடுக்கப்பட்ட படங்களில் 3 படங்கள் ஒரே விதமான பண்புகளை கொண்டுள்ளது. எந்த படம் மற்ற படங்களின் பண்புகளிலிருந்து வேறுபட்டு உள்ளது கண்டுபிடி?



- a. 1 b. 2 c. 3 d. 4 e. Answer not known

164. In a certain code language, 'Live long' is coded as 'mu ae', 'Road is long' is coded as 'ae si du' and 'Game is live' is coded as 'si mu zt'. What is the code for the word 'Game'?

சங்கீத மொழியில் 'Live long' என்பது 'mu ae' என்றும் "Road is long" என்பது "aesidu" என்றும் மற்றும் 'Game is live' என்பது "Si mu zt" என்றும் எழுதினால் "Game" என்ற வார்த்தை எவ்வாறு எழுதப்படும்?

- a. mu b. zt c. ae d. si e. Answer not known

165. In a certain code language, 'COACH' is coded as XAOHC and 'BERTH' is coded as WREHT. How will 'TRAIN' be coded in the same language?
 ஒரு சங்கேத மொழியில் 'COACH' என்பது "XAOHC" என்றும் "BERTH" என்பது "WREHT" என்றும் எழுதினால் "TRAIN" என்பது எவ்வாறு எழுதப்படும்?
 a. OARNI b. PARIN c. ONIAR
 d. PARNI e. Answer not known

166. jtm _ r _ jt _ prs _ tmpr _ j _ mprs
 a. psmjst b. pssjst c. psmjts
 d. pmsjst e. Answer not known

167. Study the given pattern carefully and select the number that can replace the question mark (?) in it.

கொடுக்கப்பட்ட வடிவத்தை கவனமாக ஆராய்ந்து, கேள்விக் குறியிட்ட மாற்றக்கூடிய எண்ணைத் தேர்ந்தெடுக்கவும் (?)

80	64	48
112	96	80
232	216	?

- a. 230 b. 225 c. 219 d. 200 e. Answer not known

168. Statement: Power Consumption in every family has been doubled during the last 5 year.

Conclusion: I. There is a lot of development in the society

II. Power rates have become cheaper.

- a. If Conclusion I follows
 b. If Conclusion II follows
 c. If either Conclusion I or II follows
 d. If neither Conclusion I nor II follows
 e. Answer not known

அறிக்கை: கடந்த 5 ஆண்டுகளில் ஒவ்வொரு குடும்பத்திலும் மின் நுகர்வு இரு மடங்காக அதிகரித்துள்ளது.

முடிவு: I. சமூகத்தில் நிறைய வளர்ச்சி உள்ளது.

II. மின் கட்டணங்கள் குறைந்துவிட்டன.

- a. முடிவு I மட்டும் பின்பற்றப்படுகிறது
 b. முடிவு II மட்டும் பின்பற்றப்படுகிறது
 c. முடிவு I மற்றும் II பின்பற்றப்படுகிறது
 d. முடிவு I மற்றும் II பின்பற்றப்படவில்லை
 e. விடை தெரியவில்லை

169. Aman is 16th from the left end in a row of boys and Vivek is 18th the from right end. Gagan is 11th from Aman towards the right and 3rd from Vivek towards the right end. How many boys are there in the row?

சிறுவர்களின் வரிசையில் அமன் இடது முனையில் இருந்து 16 வது இடத்திலும், விவேக் வலது முனையில் இருந்து 18 வது இடத்திலும் உள்ளனர். ககன் அமனில் இருந்து வலதுபுறம் 11 வது இடத்திலும், விவேக்கில் இருந்து வலதுபுறம் 3 வது இடத்திலும் உள்ளார். வரிசையில் எத்தனை சிறுவர்கள் உள்ளனர்?

- a. 40 b. 42 c. 48 d. 41 e. Answer not known

170. What will be angle between the hands of clock at 8:30?

ஒரு கை கடிகாரத்தில் 8.30 மணியின் பொழுது கடிகார முட்களுக்கு இடையில் தோன்றும் கோணம் என்ன?

- a. 15 b. 30 c. 45 d. 75 e. Answer not known

171. If 4th Saturday of a month was 22nd day, then what was the 13th day of that month

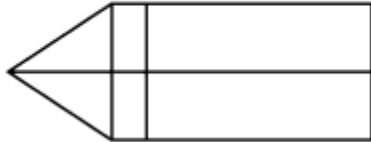
- a. Tuesday b. Wednesday c. Thursday
d. Friday e. Answer not known

ஒரு மாதத்தின் 4 வது சனிக்கிழமை 22 வது தேதியாக இருந்தால், அந்த மாதத்தின் 13 தேதி என்ன கிழமையாக இருக்கும்

- a. செவ்வாய் b. புதன் c. வியாழன்
d. வெள்ளி e. விடை தெரியவில்லை

172. How many rectangles are there in the given figure

கொடுக்கப்பட்ட படத்தில் எத்தனை செவ்வகங்கள் உள்ளன



- a. 7 b. 8 c. 9 d.12 e. Answer not known

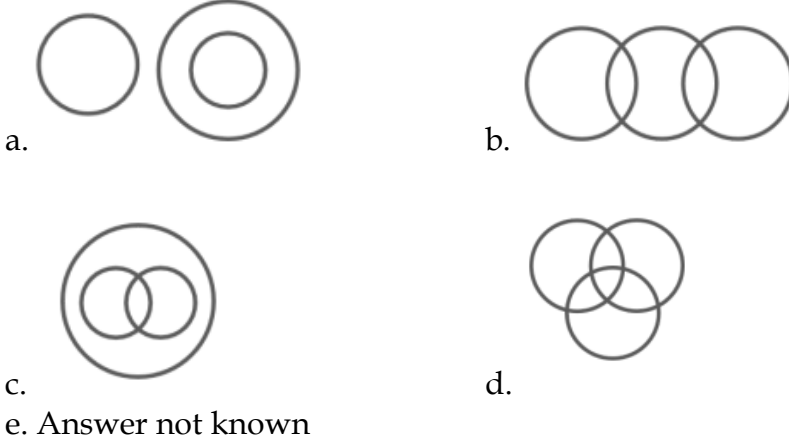
173. If $P \div Q$ means that P is the mother of Q, $P \times Q$ means that P is the father of Q, $P - Q$ means that P is the sister of Q, then which of the following expressions shows that A is the father of C?

- a. $B \times A - C$ b. $A \times B - C$ c. $A \times B \div C$
d. $A - B \times C$ e. Answer not known

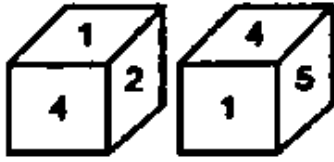
$P \div Q$ என்றால் P என்பவர் Q ன் தாய், $P \times Q$ என்றால் P என்பவர் Q ன் தந்தை, $P - Q$ என்றால் P என்பவர் Q ன் சகோதரி எனில் பின்வருவனவற்றில் எது A என்பவர் C-ன் தந்தை என்பதை குறிக்கிறது.

- a. $B \times A - C$ b. $A \times B - C$ c. $A \times B \div C$
d. $A - B \times C$ e. விடை தெரியவில்லை

174. Mobile, Book, Digital device
மொபைல், புத்தகம், டிஜிட்டல் சாதனம்



175. Two different positions of the same dice are shown, the six faces of which are numbered from 1 to 6. When '3' is at the bottom, which number will be on the top?



- a. 1 b. 3 c. 5 d. 4 e. Answer not known

ஒரு பகடையின் இரு நிலைகள் கொடுக்கப்பட்டுள்ளன. மேலும், ஆறுமுகங்களும் 1 முதல் 6 வரை எண்ணிடப்பட்டுள்ளது. 3 என்ற எண் அடிப்பக்கத்தில் இருக்கும்போது மேற்பரப்பில் அமையும் எண்ணைக் காண்க.

- a. 1 b. 3 c. 5 d. 4 e. விடை தெரியவில்லை

176. Seven girls Mansi, Shweta, Monika, Payal, Aarti, Kajal and Laxmi are sitting around a circular table facing opposite to the centre (not necessarily in the same order). Aarti is second to the left of Kajal. Monika is third to the right of Kajal. Mansi is not the immediate neighbour of Kajal. Laxmi is second to the left of Mansi. Payal is not the immediate neighbour of Laxmi. Who is second to the left of Laxmi?

- a. Mansi b. Kajal c. Payal
d. Aarti e. Answer not known

மன்சி, ஸ்வேதா, மோனிகா, பாயல், ஆர்த்தி, காஜல் மற்றும் லட்சுமி ஆகிய ஏழு பெண்கள் வட்டமான மேசையைச் சுற்றி மையத்திற்கு எதிரே அமர்ந்திருக்கிறார்கள் (அதே வரிசையில் இருக்க வேண்டிய அவசியமில்லை). ஆர்த்தி காஜலின் இடதுபுறத்தில் இரண்டாவது இடத்தில் உள்ளார். காஜலின் வலதுபுறத்தில் மோனிகா மூன்றாவது இடத்தில் உள்ளார். மன்சி காஜலின் உடனடி அருகில் இல்லை லட்சுமி மன்சியின் இடதுபுறத்தில் இரண்டாவது இடத்தில் உள்ளார். பாயல் லட்சுமியின் அருகில் உள்ளவர் அல்ல. லட்சுமியின் இடதுபுறத்தில் இரண்டாவது யார்?

- a. மன்சி b. காஜல் c. பாயல் d. ஆர்த்தி e. விடை தெரியவில்லை

177. Ritu drives 2 km towards south from point A. She takes a right turn and drives 2 km more. She again takes a right turn and drives 2 km. Finally, she takes one more right turn and drives 4 km to reach point B. How far and towards which direction should she drive in order to reach point A again?
- a. 3 km towards east b. 2 km towards west
c. 2 km towards south d. 3 km towards north
e. Answer not known

ரிது புள்ளி A இலிருந்து தெற்கே 2 கி. மீ. தூரம் பயணிக்கிறார். அவள் வலதுபுறம் திரும்பி மேலும் 2 கிலோமீட்டர் ஓடுகிறாள் அவள் மீண்டும் வலதுபுறம் திரும்பி 2 கி. மீ. ஓடுகிறாள். இறுதியாக, அவள் மேலும் ஒரு வலது திருப்பத்தை எடுத்து 4 கிமீ ஓடி புள்ளி B ஐ அடைகிறாள். மீண்டும் புள்ளி A ஐ அடைய அவள் எவ்வளவு தூரம், எந்த திசையை நோக்கி செல்ல வேண்டும்?

- a. கிழக்கு நோக்கி 3 கி. மீ b. மேற்கு நோக்கி 2 கி. மீ
c. தெற்கு நோக்கி 2 கி. மீ d. வடக்கு நோக்கி 3 கி. மீ
e. விடை தெரியவில்லை

178. One morning Chitrashi and Ayaan sit facing each other.if the shadow of Ayaan falls to the left of Chitrashi, then in which direction is Ayan facing ?
- a. North b. East c. South
d. West e. Answer not known

ஒரு நாள் காலையில் சித்ராஷி அயானும் ஒருவருக்கொருவர் நேருக்கு நேர் உட்கார்ந்தனர்.சித்ரியின் இடதுபுறத்தில் அயனின் நிழல் விழுந்தால், அயன் எந்த திசையை இருக்கிறார்

- a. வடக்கு b. கிழக்கு c. தெற்கு
d. மேற்கு e. விடை தெரியவில்லை

179. There are some balls of Red, Green and yellow colour lying on a table. There are as many red balls as there are yellow balls. There are twice as many Yellow balls as there are Green ones. The number of Red balls is
- a. is equal to the sum of Yellow and green balls
b. is double the number of Green balls
c. is equal to yellow balls minus green balls
d. Cannot be ascertained
e. Answer not known

ஒரு மேசையின் மீது சிவப்பு, பச்சை மற்றும் மஞ்சள் நிற பந்துகள் உள்ளன. சிவப்பு பந்துகளின் எண்ணிக்கை, மஞ்சள் பந்துகளின் எண்ணிக்கைக்குச் சமம். மஞ்சள் பந்துகளின் எண்ணிக்கை, பச்சை பந்துகளை விட இரண்டு மடங்கு அதிகம். இதன் அடிப்படையில், சிவப்பு பந்துகளின் எண்ணிக்கை?

- a. மஞ்சள் மற்றும் பச்சை நிற பந்துகளின் 'கூட்டுத்தொகைக்கு சமம்'
b. பச்சை நிற பந்துகளின் எண்ணிக்கையை விட இரண்டு மடங்கு ஆகும்
c. மஞ்சள் நிற பந்துகளில் இருந்து பச்சை நிற பந்துகளுக்கு சமம்
d. உறுதி செய்ய முடியாது
e. விடை தெரியவில்லை

180. Select the correct combination of mathematical signs to sequentially fill in the circles and to balance the given equation.

$$45 \bigcirc 9 \bigcirc 3 \bigcirc 25 \bigcirc 55 \bigcirc 15$$

- a. $\div, \times, -, =, \times$ b. $\div, \times, -, +, +$ c. $+, =, +, \times, +$
d. $\div, \times, +, =, -$ e. Answer not known

கொடுக்கப்பட்ட சமன்பாட்டை சமன் செய்ய, வட்டங்களில் தொடர்ச்சியாக நிரப்ப வேண்டிய கணித குறியீடுகளின் சரியான குறியீட்டினை தெரிவு செய்க?

$$45 \bigcirc 9 \bigcirc 3 \bigcirc 25 \bigcirc 55 \bigcirc 15$$

- a. $\div, \times, -, =, \times$ b. $\div, \times, -, +, +$ c. $+, =, +, \times, +$
d. $\div, \times, +, =, -$ e. விடை தெரியவில்லை

181. In an examination, a student scores 4 marks for every correct answer and loses 1 mark for every wrong answer. If he attempts in all 60 questions and secures 130 marks, the number of questions he attempts correctly, is:

ஒரு தேர்வில் ஒரு மாணவன் ஒவ்வொரு சரியான விடைக்கும் 4 மதிப்பெண்கள் பெறுகிறார். ஒவ்வொரு தவறான விடைக்கும் 1 மதிப்பெண் குறைக்கப்படுகிறது. 60 கேள்விக்கு விடையளிப்பதன் மூலம் அவர் 130 மதிப்பெண்கள் பெற்றார் எனில் அவர் சரியாக விடையளித்த வினாக்களின் எண்ணிக்கை?

- a. 35 b. 38 c. 40 d. 42 e. Answer not known

182. If the animals which can walk are called swimmers, animals which can crawl are called flying, those living in water are called snakes and those which fly in the sky are called hunters. Then what will a lizard be called?

- a. Swimmers b. Snakes c. Flying
d. Hunters e. Answer not known

நடக்கும் மிருகங்களை நீந்துபவை என்றும் ஊர்ந்து செல்லும் மிருகங்களை பறப்பவை என்றும் தண்ணீரில் வாழ்பவை பாம்புகள் என்றும் பறப்பவை வேட்டையாடுபவை என்றும் கூறப்பட்டால் பல்லி எவ்வாறு கூறப்படும்.

- a. நீந்துபவை b. பாம்பு c. பறப்பவை
d. வேட்டையாடுபவை e. விடை தெரியவில்லை

183. Introducing a man in a photograph, Sushant said, "He is the only uncle of my father's only grandson." How is Sushant related to the man in the photograph?

- a. Nephew b. Brother c. Grandfather
d. Father e. Answer not known

ஒரு புகைப்படத்தில் ஒரு மனிதனை அறிமுகப்படுத்தி, சுஷாந்த் "என் தந்தையின் ஒரே பேரனுக்கு அவர் ஒரே மாமா" என்றார். புகைப்படத்தில் இருக்கும் நபருக்கும் சுஷாந்திற்கும் என்ன உறவு?

- a. சகோதரனின் மகன் b. சகோதரர் c. தாத்தா
d. தந்தை e. விடை தெரியவில்லை

184. Gopal is four years younger than Krishnan. Ramesh is 6 years older than Leela. Sheela is twice as old as Leela. Krishnan is 4 years older than Ramesh. Sheela is eight years old. Who two are of the same age?

- a. Gopal and Ramesh
- c. Gopal and Sheela
- e. Answer not known

- b. Ramesh and Sheela
- d. No two are of the same age

கோபால், கிருஷ்ணனை விட 4 வயது இளையவர். ரமேஷ், லீலாவை விட 6 வயது மூத்தவர். ஷீலா, லீலாவைப் போல் இரு மடங்கு வயது அதிகமானவர். கிருஷ்ணன் ரமேஷை விட 4 வயது பெரியவர். ஷீலாவின் வயது 8 வருடங்கள் எனில் எந்த இருவருக்கு ஒரே வயது?

- a. கோபால் மற்றும் ரமேஷ்
- b. ரமேஷ் மற்றும் ஷீலா
- c. கோபால் மற்றும் ஷீலா
- d. எந்த இருவருக்கும் ஒரே வயது இல்லை
- e. விடை தெரியவில்லை

185. Among the given alternatives, which two addresses are exactly same. Mark the correct answer.

கொடுக்கப்பட்ட விடைகளில் எந்த இரண்டு முகவரிகள் சரியாக ஒரே மாதிரியாக உள்ளன? சரியான பதிலைக் குறிக்கவும்

1. Rupal Agencies

Tel-26853104

Fax-26894132

ரூபால் ஏஜென்சி

Tel-26853104

Fax-26894132

2. Rupal Agencies

Tel-26853105

Fax-26894132

ரூபால் ஏஜென்சி

Tel-26853105

Fax-26894132

3. Rupal Agenceies

Tel-26853104

Fax-26894132

ரூபால் ஏஜென்சி

Tel-26853104

Fax-26894132

4. Rupal Agencies

Tel-26853104

Fax-26894132

ரூபால் ஏஜென்சி

Tel-26853104

Fax-26894132

a. 2 and 4

d. 1 and 4

b. 1 and 2

e. Answer not known

c. 2 and 4

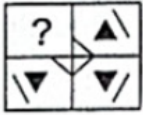
186. Five products, N, L, T, V and R, are placed in a row facing towards the east (not necessarily in the same order). T is second to the left of U. N is second to the right of L. R is to the immediate right of U. Which product is at the second position from the north end?

ஐந்து பொருட்கள், N, L, T, V மற்றும் R, கிழக்கு நோக்கி எதிர்கொள்ளும் வரிசையில் வைக்கப்படுகின்றன (அதே வரிசையில் அவசியமில்லை) T என்பது U இன் இடதுபுறத்தில் இரண்டாவது இடத்தில் உள்ளது. N என்பது L இன் வலதுபுறத்தில் இரண்டாவது. R என்பது U இன் உடனடி வலதுபுறத்தில் உள்ளது. வடக்கு முனையிலிருந்து எந்த தயாரிப்பு இரண்டாவது இடத்தில் உள்ளது?

- a. T b. U c. N d. L e. Answer not known

187. Select the option figure that will replace the question mark (?) / Blank Space in the question figure given below to complete the pattern.

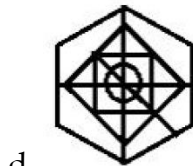
கொடுக்கப்பட்ட படத்தில் கேள்விக்குறி உள்ள இடத்தில் கீழ்க்கண்ட எந்தப் படத்தை தேர்வு செய்யும் போது படம் முழுமை பெறும்.



- e. Answer not known

188. Select the option figure in which the given figure is embedded? (Rotation not allowed)

கொடுக்கப்பட்ட படம் விடைகளில் எந்த படத்துடன் தொடர்புடையது? (இந்தப் படத்தை சுழற்றிப் பொருத்தக்கூடாது)



- e. Answer not known


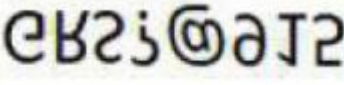

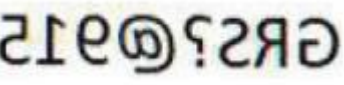
189. Select the correct option that indicates the arrangement of the given words in a logical and meaningful order.

1. Chapterlist 2. Bibliography 3. Preface
4. Cover page 5. Chapters

1. அத்தியாயம் பட்டியல் 2. நூல்பட்டியல் 3. முன்னுரை
4. அட்டைப்பக்கம் 5. அத்தியாயங்கள்
a. 2, 5, 1, 4, 3 b. 4, 3, 1, 5, 2 c. 4, 5, 3, 1, 2
d. 3, 5, 4, 2, 1 e. Answer not known

190. Select the correct mirror image of the given figure when the mirror is placed at the right side. GRS?@915

கண்ணாடி வலது பக்கத்தில் வைக்கப்பட்டால், கொடுக்கப்பட்ட எழுத்தின் சரியான கண்ணாடி பிம்பத்தைத் தேர்ந்தெடுக்கவும். GRS?@915

- a.  b. 
c.  d. 
e. Answer not known

191. Select the option that is related to the third word in the same way as the second word is related to the first word. (The words must be considered as meaningful English words and must not be related to each other based on the consonants / vowels in the word.)

Uproar : Peace :: Gloom : ?

- a. Delight b. Obscurity c. Shade
d. Murk e. Answer not known

இரண்டாவது சொல் முதல் சொல்லுடன் தொடர்புடையது போலவே அடுத்தத் தொடர்பு இருக்க வேண்டும். மூன்றாவது சொல்லுடன் தொடர்புடைய விடையைத் தேர்ந்தெடுக்கவும். (இந்த சொற்கள் அர்த்தமுள்ள ஆங்கில சொற்களாக கருதப்பட வேண்டும் மற்றும் அவற்றின் உயிர் எழுத்து / மெய் எழுத்து அடிப்படையில் தொடர்பு கொள்ளக்கூடாது.)

கலகம் : அமைதி :: வாட்டம் : ?

- a. மகிழ்ச்சி b. தெளிவின்மை c. நிழல்
d. இருள் e. விடை தெரியவில்லை

Directions (Q. Nos. 192-197) Read the following information carefully and answer the questions give below.

A group of seven friends A, B, C, D, E, F and G work as economist, agriculture officer, IT officer, terminal operator, clerk, for ex-officer and research analyst, for banks L, M, N, P, Q, R and S but not necessarily in the same order. C works for bank N and is neither a research analyst nor a clerk. E is an IT officer and works for bank R. A works as a forex officer and does not work for bank L or Q. The one who is an agriculture officer works for bank M. The one who works for bank L works as a terminal operator. F works for bank Q. G works for bank P as a research analyst. D is not an agriculture officer.

வழிமுறைகள் : கீழே கொடுக்கப்பட்டுள்ள தகவலை கவனமாகப் படித்து, அதற்குக் கீழே கொடுக்கப்பட்டுள்ள கேள்விகளுக்கு பதிலளிக்கவும்.

A, B, C, D, E, F மற்றும் G என்ற ஏழு நண்பர்கள் குழு, பொருளாதார நிபுணர், வேளாண்மை அதிகாரி, தகவல் தொழில்நுட்ப அதிகாரி, முனைய இயக்குனர், எழுத்தர், முன்னாள் அதிகாரி மற்றும் ஆராய்ச்சி பகுப்பாய்வாளர் என வங்கிகள் L, M, N, P, Q, R மற்றும் S களில் பணியாற்றுகிறார்கள், ஆனால் அதே வரிசையில் இருக்க வேண்டிய அவசியம் இல்லை. C, வங்கி N இல் பணியாற்றுகிறார் மற்றும் ஆராய்ச்சி பகுப்பாய்வாளர் அல்லது எழுத்தர் அல்ல. E ஒரு தகவல் தொழில்நுட்ப அதிகாரி மற்றும் வங்கி R இல் பணியாற்றுகிறார். A அந்நிய செலவாணி அதிகாரி பணியாற்றுகிறார் மற்றும் வங்கி L அல்லது Q இல் பணியாற்றுவதில்லை. வேளாண்மை அதிகாரியாக இருப்பவர் வங்கி M இல் பணியாற்றுகிறார். வங்கி L இல் பணியாற்றுவவர் முனைய இயக்குனராக பணியாற்றுகிறார். F வங்கி Q இல் பணியாற்றுகிறார். G வங்கி P இல் ஆராய்ச்சி பகுப்பாய்வாளராக பணியாற்றுகிறார். D வேளாண்மை அதிகாரி அல்ல.

192. Who among the following works as an agriculture officer?
a. C b. B c. F d. D e. Answer not known
பின்வருபவர்களில் வேளாண் அதிகாரியாக பணிபுரிபவர் யார்?
a. C b. B c. F d. D
193. For which bank does D work?
a. Q b. L c. N d. S e. Answer not known
பின்வரும் எந்த வங்கியில் D வேலை செய்கிறார்?
a. Q b. L c. N d. S e. விடை தெரியவில்லை
194. What is the profession of C?
a. Terminal operator b. Agriculture officer c. Economist
d. Cannot be determines e. Answer not known
பின்வருவனவற்றில் C-ன் தொழில் என்ன?
a. முனைய இயக்குனர் b. வேளாண்மை அதிகாரி c. பொருளாதார நிபுணர்
d. தீர்மானிக்க முடியாது e. விடை தெரியவில்லை
195. Who amongst the following works as a clerk?
a. C b. B c. F d. D e. Answer not known
பின்வருபவர்களில் யார் ஒரு எழுத்தராக பணியாற்றுகிறார்?
a. C b. B c. F d. D e. விடை தெரியவில்லை

A B மற்றும் C என குறியிடப்பட்ட மூன்று புத்தகங்கள் உள்ளன. A புத்தகத்தின் விலை B புத்தகத்தின் விலையை விட இரு மடங்காகவும், C புத்தகத்தின் விலையை விட மூன்றில் ஒரு பங்காகவும் இருக்கும். புத்தகத்தின் விலை “84 எனில், A மற்றும் B புத்தகத்தின் விலை முறையே என்ன?

- a. 14 மற்றும் 42 b. 24 மற்றும் 42 c. 14 மற்றும் 7
d. 28 மற்றும் 14 e. விடை தெரியவில்லை

200. Select the option in which the number-pair shares the same relationship as that shared by the following number-pair.

84 : 96

- a. 46 : 60 b. 64: 82 c. 42 : 58
d. 68 : 82 e. Answer not known

கொடுக்கப்பட்டுள்ள எண் இணையில் எண்களின் தொடர்புக்கு இணையான தொடர்பினைக் கொண்ட எண் இணையைக் காண்க.

84 : 96

- a. 46 : 60 b. 64: 82 c. 42 : 58
d. 68 : 82 e. விடை தெரியவில்லை









அறிவுக்கு ஏற்றது, மக்களுக்கு நன்மை பயப்பது,
மக்களின் அறிவை வளர்ச்சியடையச் செய்வது எதுவோ
அதைப் பற்றியே பேசு.

-தந்தை பெரியார்

APP
STUDY CENTRE