

TNPSC GROUP I TEST BATCH 2025 TEST XXI – OTHER GENERAL KNOWLEDGE

1. Phase-I of the Chennai Metro Rail project covers a distance of
a. 25 km b. 35 km c. 45 km d. 55 km e. Answer not known
சென்னை மெட்ரோ ரெயில் திட்டத்தின் முதல் கட்டம் எத்தனை கிலோ மீட்டர் கொண்டது?
a. 25 km b. 35 km c. 45 km d. 55 km e. விடை தெரியவில்லை
2. Khelo India was launched during the year
a. 2015 - 2016 b. 2016 - 2017 c. 2017-2018
d. 2018-2019 e. Answer not known
கேலோ இந்தியா எந்த வருடம் கொண்டு வரப்பட்டது?
a. 2015 - 2016 b. 2016 - 2017 c. 2017-2018
d. 2018-2019 e. விடை தெரியவில்லை
3. Match the following:
A. R.V.S. Perisastri 1. Former Chief Election Commissioner
B. A.N. Roy 2. Former Chief Justice of India
C. Charan Singh 3. Former Prime Minister of India
D. B.N. Jha 4. Former Chairman of UPSC
பின்வருவனவற்றை பொருத்துக:
A. R.V.S பெரி சாஸ்த்திரி 1. முன்னாள் தலைமை தேர்தல் ஆணையர்
B. A.N. ராய் 2. முன்னாள் இந்திய தலைமை நீதிபதி
C. சரண்சிங் 3. முன்னாள் இந்திய பிரதமர்
D. B.N. ஜா 4. முன்னாள் UPSC தலைவர்
A B C D
a. 1 2 3 4
b. 2 4 1 3
c. 3 2 4 1
d. 4 3 1 2
e. விடை தெரியவில்லை
4. Arrange the following languages in the chronological order with regard to their year of being granted the classical language status.
1. Sanskrit 2. Telugu 3. Malayalam 4. Tamil
a. 2, 3, 4, 1 b. 3, 1, 4, 2 c. 4, 2, 3, 1 d. 4, 1, 2, 3
e. Answer not known
கீழ்க்கண்ட மொழிகளை செம்மொழி தகுதிப்பெற்ற ஆண்டுகளின் அடிப்படையில் வரிசைப்படுத்துக.
1. சமஸ்கிருதம் 2. தெலுங்கு 3. மலையாளம் 4. தமிழ்
a. 2, 3, 4, 1 b. 3, 1, 4, 2 c. 4, 2, 3, 1 d. 4, 1, 2, 3 e. விடை தெரியவில்லை

5. Match the Geographical Indication Tag (GI tag) product with its place:

Product	Place
A. Turmeric	1. Madurai
B. Mat	2. Erode
C. Painting	3. Pattamadai
D. Sungudi	4. Thanjavur

	A	B	C	D
a.	1	2	3	4
b.	2	3	4	1
c.	1	3	2	4
d.	2	1	4	3

e. Answer not known

புவிசார் குறியீடு (GI tag) பொருட்களை அதன் இடத்துடன் பொருத்துக:
பொருள் இடம்

A. மஞ்சள்	1. மதுரை
B. பாய்	2. ஈரோடு
C. வண்ணப்பூச்சு (ஓவியம்)	3. பத்தமடை
D. சுங்குடி	4. தஞ்சாவூர்

	A	B	C	D
a.	1	2	3	4
b.	2	3	4	1
c.	1	3	2	4
d.	2	1	4	3

6. Which of the following organization deals with capacity building educational planning?

a. NCERT b. UGC c. NAAC d. NUEPA e. Answer not known

திறன் மேம்பாட்டு கல்வி திட்டம் - இதை எந்த நிறுவனம் கையாள்கிறது?

a. என்.சி.இ.ஆர்.டி b. யூ.ஜி.சி c. என்.ஏ.ஏ.சி
d. என்.யூ.இ.பி.ஏ e. விடை தெரியவில்லை

7. Match the List I with List II and select the correct answer from the codes given below

List I	List II
A. Poverty Reduction Programme	1. Mid day meals
B. Human Development Scheme	2. Indira Awas Yojana
C. Social Assistance Scheme	3. National Old Age Pension
D. Minimum Need Scheme	4. MGNREGA

	A	B	C	D
a.	4	1	3	2
b.	2	3	4	1
c.	3	4	1	2
d.	4	3	2	1

e. Answer not known

பின்வரும் அட்டவணையில் கொடுக்கப்பட்டு குறியீடுகளை பயன்படுத்தி சரியான விடையினை அட்டவணை-I உடன் அட்டவணை -II-ஐ பொருத்துக.

அட்டவணை-I

- A. வறுமை ஒழிப்புத் திட்டம்
B. மக்கள் மேம்பாட்டுத் திட்டம்
C. சமூக உதவித் திட்டம்
D. அடிப்படைத் தேவைகள் திட்டம்

அட்டவணை-II

1. மதிய உணவு
2. இந்திரா ஆவாஸ் யோஜனா
3. தேசிய முதியோர் ஓய்வூதியம்
4. MGNREGA

	A	B	C	D
a.	4	1	3	2
b.	2	3	4	1
c.	3	4	1	2
d.	4	3	2	1

e. விடை தெரியவில்லை

8. The first International Women's Day got celebrated on March 19th in which year?

- a. 1911 b. 1913 c. 1916 d. 1921 e. Answer not known

சர்வதேச மகளிர் தின 19-ஆம் தேதி மார்ச் மாதம் முதல் முறையாக எந்த வருடம் கொண்டாடப்பட்டது?

- a. 1911 b. 1913 c. 1916 d. 1921 e. விடை தெரியவில்லை

9. The Indian Institute of space science and technology located at

- a. Ahmedabad b. Pune c. Bangalore (Bengaluru)
d. Thiruvananthapuram e. Answer not known

இந்திய விண்வெளி அறிவியல் மற்றும் தொழில்நுட்ப நிறுவனம் அமைந்துள்ள இடம்

- a. அகமதாபாத் b. புனே c. பெங்களூரு
d. திருவனந்தபுரம் e. விடை தெரியவில்லை

10. The Durgabai Deshmuk Award for women Development is given to which of the following organisations?

- a. Women Development Organisation b. Voluntary organisations
c. Central Social Welfare Board d. State Social Welfare Board
e. Answer not known

பெண்கள் மேம்பாட்டிற்கான தூர்காபாய் தேஷ்முக் விருது பின்வரும் எந்த அமைப்பிற்கு வழங்கப்படுகிறது.?

- a. பெண்கள் மேம்பாட்டு அமைப்பு b. தன்னார்வ அமைப்பு
c. மத்திய சமூக நல வாரியம் d. மாநில சமூக நல வாரியம்
e. விடை தெரியவில்லை

11. Assertion [A]: Infant mortality has shown a significant decline in India

Reason[R]:An improvement of medical facilities and better care reduce the deathrate.

- a. [A] is True, but [R] is False
b. [A] is False, but [R] is True
c. Both [A] and [R] are true and [R] is the correct explanation of [A]
d. Both [A] and [R] are true, but [R] is not the correct explanation of [A]
e. Answer not known

கூற்று [A]:இந்தியாவில் குழந்தை இறப்பு விகிதம் பெருமளவு குறைந்துள்ளது.

காரணம்[R]:மருத்துவ வசதிகள் அதிகரித்தல், சிறந்த கவனிப்பு ஆகியவை இறப்பு விகிதத்தை குறைக்கிறது.

a. [A] சரி, ஆனால் [R] தவறு

b. [A] தவறு. ஆனால் [R] சரி

c. [A] மற்றும் [R] இரண்டும் உண்மை. [R] என்பது [A] க்கு சரியான விளக்கம் ஆகும்.

d. [A]மற்றும் [R]இரண்டும் உண்மை. ஆனால் [R] என்பது [A] க்கு சரியான விளக்கம் அல்ல.

e. விடை தெரியவில்லை

12. The lines "We can't live happily as islands in a sea of poverty" were propounded by

a. Mr. Nilkantha Rath

b. M.S. Swaminathan

c. Dr. V.M. Dandekar

d. Mr. P.D. Ojha

e. Answer not known

"வறுமைக் கடலில் தீவுகளாக நாங்கள் மகிழ்ச்சியுடன் வாழமுடியாது" என்ற சொற்களை முன்மொழிந்தவர் _____.

a. திரு. நீலகாந்த ராத்

b. எம்.எஸ். சுவாமிநாதன்

c. டாக்டர் வி.எம். தண்டேகர்

d. திரு. பி.டி. ஓஜா

e. விடை தெரியவில்லை

13. Which of the following are correctly paired?

1. Kaprekar

- Astrophysicist

2. Janaki Ammal

- Biologist

3. Debashis Mukherjee

- Chemistry

4. Meghnad Saha

- Mathematician

a. 1 and 4 are correct

b. 1 and 2 are correct

c. 2 and 4 are correct

d. 2 and 3 are correct

e. Answer not known

பின்வருவனவற்றில் எவை சரியாகப் பொருத்தப்பட்டுள்ளது?

1. கப்ரேகார்

- வானியல் இயற்பியலாளர்

2. ஜானகி அம்மாள்

- உயிரியியலாளர்

3. தெபாஸிஸ் முகர்ஜி

- வேதியியலாளர்

4. மேக்நாத் சாஹா

- கணிதவியலாளர்

a. 1 மற்றும் 4 சரியானவை

b. 1 மற்றும் 2 சரியானவை

c. 2 மற்றும் 4 சரியானவை

d. 2 மற்றும் 3 சரியானவை

e. விடை தெரியவில்லை

14. World Youth Skills day is celebrated on

a. March 15

b. May, 15

c. August, 15

d. July, 15

e. Answer not known

உலக இளைஞர் திறன் தினம் கொண்டாடப்படுகிற நாள்

a. மார்ச் 15

b. மே, 15

c. ஆகஸ்ட் 15

d. ஜூலை 15

e. விடை தெரியவில்லை

15. "Digital India" initiative was launched in the year

a. 2012

b. 2013

c. 2014

d. 2015

e. Answer not known

"டிஜிட்டல் இந்தியா" எனும் முன்முயற்சி செயல்படுத்தப்பட்ட ஆண்டு

a. 2012

b. 2013

c. 2014

d. 2015

e. விடை தெரியவில்லை

16. The Archaeological survey of India headquarters is located in

a. New Delhi

b. Mumbai

c. Chennai

d. Kolkatta

e. Answer not known

இந்திய தொல்லியல் துறையின் தலைமையகம் _____ உள்ளது.

- a. புது தில்லி b. மும்பை c. சென்னை
d. கொல்கத்தா e. விடை தெரியவில்லை

17. The first Meterological Director General of India was

- a. V.P. Subramanyam b. R.L.Singh c. K.L.Rao
d. H.E.Bland Ford e. Answer not known

இந்தியாவின் முதல் வானிலை இயக்குநர் ஜெனரல்

- a. வி.பி. சுப்ரமணியம் b. ஆர்.எல்.சிங் c. கே.எல்.ராவ்
d. ஹச்.ஈ.பிளாண்டு .:போர்டு e. விடை தெரியவில்லை

18. Identify the wrongly matched pair

1. Bodoland people's front - Jharkhand
2. Hill state people's democratic party - Assam
3. Lok Jansakthi party - Bihar
4. Rashtriya Loktantrik party - Rajasthan
a. 1 and 3 b. 2 and 4 c. 1 and 2 d. 3 and 4 e. Answer not known

தவறாக பொருந்தப்பட்ட இணையை அடையாளம் காண்க.

1. போடோலாந்த மக்கள் இயக்கம் - ஜார்கண்ட்
2. மலை மாநில மக்கள் ஜனநாயகக் கட்சி - அஸ்ஸாம்
3. லோக் ஜனசக்தி கட்சி - பீகார்
4. ராஷ்டிரிய லோக்தந்த்ரிக் கட்சி - ராஜஸ்தான்
a. 1 மற்றும் 3 b. 2 மற்றும் 4 c. 1 மற்றும் 2 d. 3 மற்றும் 4 e. விடை தெரியவில்லை

19. Match the following and choose the correct option:

- A. Environment Protection 1. India REACH
B. Insurance for Employees 2. FSSAI
C. Chemical Management and Safety 3. Umbrella Act
D. Food Safety 4. ESIC

- | | A | B | C | D |
|----|---|---|---|---|
| a. | 4 | 3 | 1 | 2 |
| b. | 3 | 4 | 1 | 2 |
| c. | 2 | 4 | 1 | 3 |
| d. | 2 | 3 | 4 | 1 |

e. Answer not known

கீழ்க்காண்பவற்றை பொருத்தி மற்றும் சரியான விடையை தேர்ந்தெடுக்கவும்:

- A. சுற்றுசூழல் பாதுகாப்பு 1. இந்தியா REACH
B. தொழிலாளர்களுக்கான காப்பீடு 2. FSSAI
C. வேதிப்பொருள் மேலாண்மை மற்றும் பாதுகாப்பு 3. குடை சட்டம்
D. உணவுப் பாதுகாப்பு 4. ESIC

- | | A | B | C | D |
|----|---|---|---|---|
| a. | 4 | 3 | 1 | 2 |
| b. | 3 | 4 | 1 | 2 |
| c. | 2 | 4 | 1 | 3 |
| d. | 2 | 3 | 4 | 1 |

e. விடை தெரியவில்லை

20. The rationale for setting up of UPPAL Committee is
 a. For accelerated rural electrification programme
 b. To resolve problems in cattle fodder
 c. Integrated pest management
 d. Survey of waste land
 e. Answer not known
 'UPPAL' குழுவை அமைப்பதற்குக் காரணம்
 a. ஊரக மின்மயமாக்கல் திட்டத்தைத் துரிதப்படுத்துவது
 b. கால்நடை தீவன சிக்கல்களைத் தீர்க்க
 c. ஒருங்கிணைந்த பூச்சி மேலாண்மை
 d. தரிசு நிலங்களை ஆய்வு செய்வது
 e. விடை தெரியவில்லை
21. For tribal society, marriage is a
 a. Sacrament
 b. Contract
 c. Both a sacrament and contract
 d. Neither a sacrament nor a contract
 e. Answer not known
 பழங்குடி சமூகத்திற்குத் திருமணம் என்பது
 a. ஓர் சடங்கு
 b. ஓர் ஒப்பந்தம்
 c. சடங்கு, ஒப்பந்தம்-இவை இரண்டும்
 d. சடங்கு, ஒப்பந்தம் - இவை இரண்டும் இல்லை
 e. விடை தெரியவில்லை
22. Which of the following Wild Life Sanctuary is located at Tirunelveli District?
 a. Mudumalai Wildlife Sanctuary
 b. Mundanthurai Wildlife Sanctuary
 c. Indira Gandhi Wildlife Sanctuary
 d. Point Calimere Wildlife Sanctuary
 e. Answer not known
 பின்வருவனவற்றுள் எந்த வனவிலங்கு சரணாலயம் திருநெல்வேலி மாவட்டத்தில் அமைந்துள்ளது?
 a. முதுமலை வனவிலங்கு சரணாலயம்
 b. முண்டந்துறை வனவிலங்கு சரணாலயம்
 c. இந்திராகாந்தி வனவிலங்கு சரணாலயம்
 d. கோடியக்கரை வனவிலங்கு சரணாலயம்
 e. விடை தெரியவில்லை
23. The term "Missing Women" phenomenon occurs due to
 a. Preference for a son/male child
 b. Inadequate data
 c. Women trafficking
 d. Early marriage of girl child
 e. Answer not known
 "பெண் இன இழப்பு" என்று சொல்லாட்சி உருவாவதற்குக் காரணமான சூழல்
 a. மகன் அல்லது ஆண் குழந்தைக்கான விருப்பம்
 b. போதுமான தரவு இல்லை
 c. பெண்கள் கடத்தல்
 d. பெண் குழந்தையின் சிறுவயது திருமணம்
 e. விடை தெரியவில்லை
24. Who was the founder of Kanchi Mahila Parishad in Kanjeeपुरam?
 a. Dr. Muthulakshmi
 b. Smt. Parvati Devi
 c. Smt. Rukmani Devi
 d. Smt. Valliammal
 e. Answer not known

காஞ்சி மகிளா பரிஷத்தை காஞ்சிபுரத்தில் நிறுவியவர் யார்?

- a. டாக்டர். முத்துலெட்சுமி b. திருமதி பார்வதி தேவி c. திருமதி ருக்மணி தேவி
d. திருமதி வள்ளியம்மாள் e. விடை தெரியவில்லை

25. Which of the following is wrongly paired?

1. National Dairy Development Board - NDDB
2. National Food Development Board - NFDB
3. Indian Council of Art Research - ICAR
4. Tamil Nadu Electricity Board - TNEB
a. 1 and 3 b. 2 and 3 c. 2 and 4
d. 3 and 4 e. Answer not known

பின்வருவனவற்றில் எது தவறாக இணைக்கப்பட்டுள்ளது?

1. தேசிய பால்வள மேம்பாடு வாரியம் - NDDB
2. தேசிய உணவு மேம்பாடு வாரியம் - NFDB
3. இந்திய கலை ஆராய்ச்சி சபை - ICAR
4. தமிழ்நாடு மின்சார வாரியம் - TNEB
a. 1 மற்றும் 3 b. 2 மற்றும் 3 c. 2 மற்றும் 4
d. 3 மற்றும் 4 e. விடை தெரியவில்லை

26. Match List-I to List-II and answer using the codes given

List-I

- A. Recreational Town
B. Administrative Town
C. Industrial Town
D. Religious Town

List-II

1. Panaji
2. New Delhi
3. Jameshedpur
4. Madurai

- | | A | B | C | D |
|----|---|---|---|---|
| a. | 2 | 1 | 3 | 4 |
| b. | 1 | 2 | 3 | 4 |
| c. | 4 | 3 | 2 | 1 |
| d. | 2 | 4 | 3 | 1 |

e. Answer not known

பட்டியல் I ஐ பட்டியல் II உடன் பொருத்துக.

பட்டியல் - I

- A. பொழுதுபோக்கு நகரம்
B. நிர்வாக நகரம்
C. தொழில் நகரம்
D. சமய நகரம்

பட்டியல் - II

1. பனாஜி
2. புது டெல்லி
3. ஜாம்சுட்பூர்
4. மதுரை

- | | A | B | C | D |
|----|---|---|---|---|
| a. | 2 | 1 | 3 | 4 |
| b. | 1 | 2 | 3 | 4 |
| c. | 4 | 3 | 2 | 1 |
| d. | 2 | 4 | 3 | 1 |

e. விடை தெரியவில்லை

27. Theme for National Science Day 2020 is
- People for science
 - Women in science
 - Contribution of science for the development of the nation
 - Science and Technology for a sustainable future
 - Answer not known

2020ம் ஆண்டில் தேசிய அறிவியல் தினத்தின் கருப்பொருள் ____ ஆகும்.

- மக்களுக்கான அறிவியல்
- அறிவியலில் பெண்கள்
- நாட்டின் வளர்ச்சியில் அறிவியலின் பங்கு
- நிலைத்த எதிர்காலத்திற்கு அறிவியல் மற்றும் தொழில் நுட்பம்
- விடை தெரியவில்லை

28. Identify the wrongly matched pairs.

Party	Symbol
(1) Communist Party of India (Marxist)	- Ears of Corn and Sickle
(2) Communist Party of India	- Hammer, Sickle and Star
(3) Samajwadi Party	- Bicycle
(4) Janata Dal (United)	- Hand Pump

a. (1) and (2) b. (2) and (3) c. (1), (2) and (4)
d. (2), (3) and (4) e. Answer not known

தவறாகப் பொருத்தப்பட்ட ஜோடியைக் கண்டுபிடிக்கவும்.
கட்சி சின்னம்

- | | | |
|---|---|-------------------------------------|
| (1) இந்திய கம்யூனிஸ்ட் கட்சி (மார்க்சிஸ்ட்) | - | சோளம் மற்றும் அரிவாள் மடல்கள் |
| (2) இந்திய கம்யூனிஸ்ட் கட்சி | - | சுத்தி, அரிவாள் மற்றும் நட்சத்திரம் |
| (3) சமாஜ்வாடி கட்சி | - | மிதிவண்டி |
| (4) ஜனதா தளம் (ஒன்றிய) | - | கை இறைப்பான் |
- a. (1) மற்றும் (2) b. (2) மற்றும் (3) c. (1), (2) மற்றும் (4)
d. (2), (3) மற்றும் (4) e. விடை தெரியவில்லை

29. In India among which religious group a separate category called 'Pasmandas' is being articulated politically

- Muslims
- Parsis
- Sikhs
- Jews
- Answer not known

இந்தியாவில் உள்ள எந்த மதத்தினரிடையே 'பஸ்மந்தாக்கள்' எனும் தனித்தொரு வகைப்பாடு அரசியல் தளத்தில் உருவாக்கப்பட்டு வருகிறது.

- முஸ்லீம்கள்
- பார்ஸிகள்
- சீக்கியர்கள்
- யூதர்கள்
- விடை தெரியவில்லை

30. Regional Meteorological Centre at Chennai is a

- State government institution
- Central government institution
- An autonomous body of Meteorologists
- An institution run by the United Nations
- Answer not known

சென்னையில் உள்ள மண்டல வானிலை ஆய்வு மையம்

- மாநில அரசு நிறுவனம்
- மத்திய அரசு நிறுவனம்
- வானிலை ஆராய்ச்சியாளர்களுக்கான தன்னார்வ நிறுவனம்
- ஐக்கிய நாடுகள் சபையால் நடத்தப்படும் நிறுவனம்
- விடை தெரியவில்லை

31. Which one of the state has swamp deer as its state animal?

- Kerala
- Nagaland
- Haryana
- Maharashtra
- Answer not known

பின்வருவனவற்றில் எந்த மாநிலம் சதுப்புநில மாணை மாநில விலங்காகக் கொண்டுள்ளது?

- கேரளா
- நாகாலாந்து
- ஹரியானா
- மகாராஷ்டிரா
- விடை தெரியவில்லை

32. Which one of the following is false regarding our National Anthem?

- Originally written in Bengali
- Adopted in its Hindi version
- Tagore translated in English under the title "morning Song of India"
- It was translated in the year 1927

நமது தேசிய கீதத்தைப் பொறுத்தவரை கீழ்க்கண்டவற்றில் எந்த கூற்று தவறானது?

- முதலில் இது பெங்காலி மொழியில்தான் எழுதப்பட்டது
- தேசிய கீதம் ஹிந்தி மொழியில் தழுவிப்பட்டது
- தாகூர் இதனை ஆங்கிலத்தில் "இந்தியக் காலைப்பாடல்" என்ற பெயரில் மொழி பெயர்த்தார்
- இது 1927ல் ஆங்கிலத்தில் மொழிமாற்றம் செய்யப்பட்டது

33. Match the following

- | | |
|------------------|--------------------|
| A. Chilka Lake | 1. Kerala |
| B. Wular Lake | 2. Tamil Nadu |
| C. Pulicat Lake | 3. Jammu & Kashmir |
| D. Vembanad Lake | 4. Odisha |

- | | | | |
|------|---|---|---|
| A | B | C | D |
| a. 1 | 2 | 3 | 4 |
| b. 2 | 1 | 4 | 3 |
| c. 4 | 3 | 2 | 1 |
| d. 4 | 3 | 1 | 2 |

பொருத்துக

- | | |
|------------------|-------------------|
| A. சில்கா ஏரி | 1. கேரளா |
| B. ஊலார் ஏரி | 2. தமிழ்நாடு |
| C. புலிகாடு ஏரி | 3. ஜம்மு காஷ்மீர் |
| D. வேம்பனாடு ஏரி | 4. ஒடிஸா |

- | | | | |
|------|---|---|---|
| A | B | C | D |
| a. 1 | 2 | 3 | 4 |
| b. 2 | 1 | 4 | 3 |
| c. 4 | 3 | 2 | 1 |
| d. 4 | 3 | 1 | 2 |

34. Match the following

- A. Army officers training Academy
B. National Defence Academy
C. National Defence College
D. Armed Forces Medical College

1. Pune
2. New Delhi
3. Khadakwasala
4. Chennai

	A	B	C	D
a.	2	1	3	4
b.	4	3	2	1
c.	4	3	1	2
d.	3	4	2	1

பொருத்துக

- a. ராணுவ அதிகாரிகள் பயிற்சி நிலையம் (OTA)
b. தேசிய பாதுகாப்பு பயிற்சியகம் (NDA)
c. தேசிய பாதுகாப்பு கல்லூரி (NDC)
d. ராணுவ மருத்துவக்கல்லூரி (AFMC).

1. புனா
2. புதுடெல்லி
3. கடக்வாசலா
4. சென்னை

	A	B	C	D
a.	2	1	3	4
b.	4	3	2	1
c.	4	3	1	2
d.	3	4	2	1

35. The Oldest para military force of India is

- a. Central reserve police force (CRPF)
b. Intelligence Bureau (IB).
c. Assam Rifles
d. Border Security Force (BSF)

நாட்டில் முதன் முதலாக உருவாக்கப்பட்ட துணை ராணுவப்படை எது?

- a. மத்திய தொகுதி காவல் படை (CRPF)
b. உளவுத் துறை (IB).
c. அஸ்ஸாம் படை
d. எல்லைப் பாதுகாப்பு படை (BSF)

36. Find out the chronology of forming following para military forces?

- I. Intelligence Bureau (IB).
II. Central Bureau of Investigation (CBI)
III. Border Security Force (BSF)
IV. Coast Guard

Codes:

a. III, IV, I & II

b. I, II, III & IV

c. IV, III, II & I

d. I, II, IV & III

கீழ்க்கண்ட துணை ராணுவப் படைகள் உருவாக்கப்பட்டதை கால வரிசைப்படுத்துக (முதலிலிருந்து கடைசி வரை)

I. உளவுப் பிரிவு (IB).

II. மத்திய புலனாய்வுப் பிரிவு (CBI)

III. எல்லைப் பாதுகாப்பு படை (BSF)

IV. கடலோரக் காவல் படை

a. III, IV, I & II

b. I, II, III & IV

c. IV, III, II & I

d. I, II, IV & III

37. Find out the correct sequence/ chronology of UN secretary Generals

- I. U Thant II. Kurt Waldheim III. Kofi Annan IV. Trygvelie

a. I, II, III & IV

b. II, I III & IV

c. IV, II, I & III

d. IV, I, II & III

கீழ்க்கண்ட ஐக்கிய நாடு சபை தலைவர்களை காலவரிசைப்படுத்து

I. யூதாண்ட்

II. குர்ட் வால்டெம்

III. கோவி அன்னன்

IV. டிரிக் லி

a. I, II, III & IV

b. II, I III & IV

c. IV, II, I & III

d. IV, I, II & III

38. Match the following

Organisation

A. WHO

B. UNEP

C. FAO

D. UNDP

A B C D

a. 4 3 2 1

b. 3 4 2 1

c. 4 3 1 2

d. 3 4 1 2

பொருத்துக

அமைப்பு

A. WHO

B. UNEP

C. FAO

D. UNDP

A B C D

a. 4 3 2 1

b. 3 4 2 1

c. 4 3 1 2

d. 3 4 1 2

Head Quarters

1. ROME

2. NEW YORK

3. NAIROBI

4. GENEVA

தலைமையகம்

1. ரோம்

2. நியூயார்க்

3. நைரோபி

4. ஜெனிவா

39. Which one of the following organizations has all countries as members

a. IOC

b. INTERPOL

c. WTO

d. WWF

கீழ்க்கண்ட எந்த அமைப்பில் உலகின் அனைத்து நாடுகளும் உறுப்பு நாடுகளாக உள்ளன?

a. IOC

b. INTERPOL

c. WTO

d. WWF

40. Match the following:

New Name

A. Ghana

B. Zaira

C. Zambia

D. Zimbabwe

A B C D

a. 4 3 1 2

b. 3 4 1 2

c. 4 3 2 1

d. 3 4 2 1

பொருத்துக

புதுப்பெயர்

A. கானா

B. லைரே

C. ஷாம்பியா

D. ஜிம்பாப்வே

Old Name

1. Southern Rhodesia

2. Northern Rhodesia

3. Congo

4. Cold Coast

பழைய பெயர்

1. தெற்கு ரொடீஷியா

2. வடக்கு ரொடீஷியா

3. காங்கோ

4. கோல்ட் கோஸ்ட்

	A	B	C	D
a.	4	3	1	2
b.	3	4	1	2
c.	4	3	2	1
d.	3	4	2	1

41. Match the following:

- A. Land of White Elephant
B. Roof of the World
C. Venice of the North
D. Land of Thousand Lakes

1. Pamir
2. Thailand
3. Finland
4. Stockholm

	A	B	C	D
a.	2	1	3	4
b.	2	1	4	3
c.	1	2	3	4
d.	1	2	4	3

பொருத்துக

- a. வெள்ளை யானைகளின் இடம்
b. உலகின் கூரை
c. வடக்கு வெனிஸ்
d. ஆயிரம் ஏரிகள் நாடு

1. பாமீர்
2. தாய்லாந்து
3. பின்லாந்து
4. ஸ்டாக்ஹோம்

	A	B	C	D
a.	2	1	3	4
b.	2	1	4	3
c.	1	2	3	4
d.	1	2	4	3

42. Which of the following news agencies is/are originate from India?

- I. PTI II. UNI III. Samarchar Bharti IV. Univarta

- a. I, II & III only b. I, III & IV only c. I, II & IV only d. All the above

- கீழ்க்கண்ட எந்த செய்தி நிறுவனங்கள் இந்தியாவிலிருந்து செய்திகளை வெளியிடுகின்றன?
I. பிடிஐ II. யுஎன்ஐ III. சமாச்சார் பாரதி IV. யுனிவார்த்தா
a. I, II, III மட்டும் b. I, III, IV மட்டும் c. I, II, IV மட்டும் d. இவை அனைத்தும்

43. Galileo Galilei is father of many subjects except one true

- a. Science b. Modern Physics c. Modern Science d. Biology

- கலிலியோ கலிலி கீழ்க்கண்ட ஒரு பகுதியில் மட்டும் தந்தை என்று அழைக்கப்படுவதில்லை
a. அறிவியல் b. நவீன இயற்பியல் c. நவீன அறிவியல் d. உயிரியல்

44. Which one of the Grand Slam is play in Grass court?

- a. Australian Open b. French Open c. Wimbledon d. US Open

கீழ்க்கண்ட எந்த கிராண்ட் ஸ்லாம் புல்தரையில் விளையாடப்படுகிறது?

- a. ஆஸ்திரேலிய ஓபன் b. பிரெஞ்சு ஓபன் c. விம்பிள்டன் d. யு.எஸ். ஓபன்

45. Match the following:

- A. Cricket 1. Davis Cup
B. Foot Ball 2. Rangaswamy Cup
C. Hockey 3. Durand Cup
D. Lawn Tennis 4. Duleep Trophy

	A	B	C	D
a.	1	2	3	4
b.	4	3	2	1
c.	4	3	1	2
d.	4	1	3	2

பொருத்துக

- | | |
|---------------|--------------------|
| A. கிரிக்கெட் | 1. டேவிஸ் கோப்பை |
| B. கால்பந்து | 2. ரங்கசாமி கோப்பை |
| C. ஹாக்கி | 3. துராந்த் கோப்பை |
| D. டென்னிஸ் | 4. துலீப் ட்ராஃபி |

	A	B	C	D
a.	1	2	3	4
b.	4	3	2	1
c.	4	3	1	2
d.	4	1	3	2

46. Match the following:

- | | |
|----------------|----------------------|
| A. Leo Tolstoy | 1. Wealth of Nations |
| B. Adam Smith | 2. War and Peace |
| C. Homer | 3. Paradise Lost |
| D. John Milton | 4. Odyssey |

	A	B	C	D
a.	1	2	3	4
b.	2	1	3	4
c.	2	1	4	3
d.	1	2	4	3

பொருத்துக

- | | |
|--------------------|-----------------------|
| A. லியோ டால்ஸ்டாய் | 1. வெல்த் ஆப் நேசன்ஸ் |
| B. ஆடம் ஸ்மித் | 2. வார் அண்ட் பீஸ் |
| C. ஹோமர் | 3. பாரடைஸ் லாஸ்ட் |
| D. ஜான் மில்டன் | 4. ஓடிசி |

	A	B	C	D
a.	1	2	3	4
b.	2	1	3	4
c.	2	1	4	3
d.	1	2	4	3

47. Which of the following books is not written by Jawaharlal Nehru?

- | | |
|-------------------------|------------------------------|
| a. Bunch of Old Letters | b. Discovery of India |
| c. We Indians | d. Glimpses of World History |

கீழ்க்கண்ட புத்தகங்களில் ஒன்றை ஜவஹர்லால் நேரு எழுதவில்லை. அது எது?

- | | |
|------------------------------|----------------------------------|
| a. பன்ச் ஆப் ஒல்ட் லெட்டர்ஸ் | b. டிஸ்கவரி ஆப் இந்தியா |
| c. வீ இந்தியன்ஸ் | d. கிளிம்சஸ் ஆப் ஓர்ல்ட் ஹிஸ்டரி |

48. Raman magasaysay award given by

- | | | | |
|--------------|-------------|----------------|--------------|
| a. Indonesia | b. Malaysia | c. Philippines | d. Singapore |
|--------------|-------------|----------------|--------------|

ராமன் மாகசேசே விருதை வழங்கும் நாடு எது?

- | | | | |
|----------------|------------|-----------------|----------------|
| a. இந்தோனேசியா | b. மலேசியா | c. பிலிப்பைன்ஸ் | d. சிங்கப்பூர் |
|----------------|------------|-----------------|----------------|

49. Rank the Civilian Award (Padma) (high to low)

- i) Padma Vibhushan
- ii) Padma Bhushan
- iii) Padma Shri

a. ii, iii & i b. i, ii & iii c. iii, ii & i d. i, iii & ii

பத்ம விருதுகளை அதன் தரத்தைப் பொறுத்து வரிசைப்படுத்தவும்

i. பத்ம விபூசன் ii. பத்ம பூசன் iii. பத்மஸ்ரீ

a. ii, iii & i b. i, ii & iii c. iii, ii & i d. i, iii & ii

50. Rank the wartime Valour Awards (high to low)

- 1. Paramvir Chakra 2. Mahavir Chakra 3. Veer Chakra

a. 3, 2 & 1 b. 2, 1 & 3 c. 1, 2 & 3 d. 1, 3 & 2

போரின் போது தரப்படும் வீரப்பதக்கங்களை வரிசைப்படுத்தவும் (இறங்குவரிசையில்)

1. பரம்வீர் சக்கரம் 2. மஹாவீர் சக்கரம் 3. வீர சக்கரம்

a. 3, 2 & 1 b. 2, 1 & 3 c. 1, 2 & 3 d. 1, 3 & 2

51. Choose the correct statements regarding Dada Sahed Phalke Award

- 1. It is the highest Award in Cinema given by the Government of India
 - 2. This Award given in memory of "Dada Sahed Phalke"
 - 3. It is being Awarded since 1969.
- a. 1 & 2 are true b. 2 & 3 are true c. 1 & 3 are true d. All the above

தாதா சாகிப் பால்கே விருது பற்றிய சரியான கூற்றுகளை தேர்வ

1. சினிமாவில், இந்திய அரசால் வழங்கப்படும் உயரிய விருதாகும்

2. இது இந்திய திரை உலகின் தந்தை தாதா சாஹிப் பால்கே நினைவாக வழங்கப்படுகிறது

3. 1969ஆம் ஆண்டிலிருந்து வழங்கப்படுகிறது

a. 1 & 2 மட்டும் b. 2 & 3 மட்டும் c. 1 & 3 மட்டும் d. இவை அனைத்தும்

52. The following awards have been constituted in different periods. Put it chronological order?

- 1. Sahitya Akademi Award 2. Jnanpita Award
- 3. Lalit Kala Academy Ratna.

a. 1, 2 & 3 b. 1, 3 & 2 c. 2, 3 & 1 d. 2, 1 & 3

கீழ்க்கண்ட விருதுகள் வெவ்வேறு காலகட்டத்தில் உருவாக்கப்பட்டன. அதனை காலவரிசைப்படுத்துக

1. சாகித்ய அகாடெமி விருது 2. ஞானபீட விருது

3. லலித்கலா அகாடெமி விருது

a. 1, 2 & 3 b. 1, 3 & 2 c. 2, 3 & 1 d. 2, 1 & 3

53. Match the following:

- A. Borlaug Award 1. Medicine
- B. Danwantri Award 2. Agriculture
- C. Jamnalal Bajaj Award 3. Science
- D. Shanti Swarup Bhatnagar award 4. Social Service

A B C D

a. 4 3 2 1

b. 2 1 4 3

c. 2 1 3 4

d. 1 2 3 4

பொருத்துக

- | | |
|-----------------------------------|---------------|
| A. நார்மன் போர்லாக் விருது | 1. மருத்துவம் |
| B. தன்வந்திரி விருது | 2. விவசாயம் |
| C. ஜம்னாலால் பஜாஜ் விருது | 3. அறிவியல் |
| D. சாந்தி ஸ்வரூப் பட்நாகர் விருது | 4. சமூக சேவை |

	A	B	C	D
a.	4	3	2	1
b.	2	1	4	3
c.	2	1	3	4
d.	1	2	3	4

54. Which one of the following is wrongly matched?

- a. Bodo - Asom
b. Santhali - Jharkhand
c. Dogri - Uttarkhand
d. Maithili - Bihar

கீழ்க்கண்டவற்றில் எது தவறாகப் பொருத்தப்பட்டுள்ளது?

- a. போடோ - அஸ்ஸாம்
b. சாந்தாலி - ஜார்க்கண்ட்
c. டோகரி - உத்தராகாண்ட்
d. மைதிலி - பீகார்

55. Who is not a Bharatnatyam dancer?

- a. Leela Samson b. Padma Subramaniam
c. Yamini Krishnamurti d. Birju Maharaj

கீழ்க்கண்டவர்களில் யார் பரதநாட்டியக் கலைஞர்?

- a. லீலா சாம்சன் b. பத்மா சுப்ரமணியம்
c. யாமினி கிருஷ்ணமூர்த்தி d. பிரிஜ் மஹராஜ்

56. Which one of the following is wrongly matched?

- a. IRDP - 1980
b. JRY - 1989
c. PMGSY - 2004
d. EAS - 1993

கீழ்க்கண்ட வறுமை ஒழிப்புத்திட்டங்களில் எது தவறாகப் பொறுத்தப்பட்டுள்ளது?

- a. IRDP - 1980
b. JRY - 1989
c. PMGSY - 2004
d. EAS - 1993

57. Which of the following is/are correctly matched?

1. Radclife Line - India and Pakistan
2. Macmohan Line - India and China
3. Durand Line - India and Bangladesh

- a. 1 & 2 only b. 2 & 3 only c. 1 & 3 only d. all the above

கீழ்க்கண்டவற்றில் எது/எவை சரியாக பொருத்தப்பட்டுள்ளது?

1. ராட்கிளப் எல்லைக்கோடு - இந்தியா மற்றும் பாகிஸ்தான்
 2. மக்மகான் எல்லைக்கோடு - இந்தியா மற்றும் சீனா
 3. துராண்ட் எல்லைக்கோடு - இந்தியா மற்றும் வங்கதேசம்
- a. 1 & 2 மட்டும் b. 2 & 3 மட்டும் c. 1 & 3 மட்டும் d. இவை அனைத்தும்

58. Match the following

- A. 38th Parallel Line
- B. 49th Parallel Line
- C. 24th Parallel Line
- D. 17th Parallel Line

1. Pakistan's Claim in Rann of Katchchh
2. North Vietnam & South Vietnam
3. USA & Canada
4. North Korea & South Korea

	A	B	C	D
a.	1	2	3	4
b.	2	1	3	4
c.	4	3	1	2
d.	4	3	2	1

பொருத்துக

- A. 38வது அட்சரேகை
- B. 49வது அட்சரேகை
- C. 24வது அட்சரேகை
- D. 17வது அட்சரேகை

1. கட்கு பகுதியில் பாகிஸ்தான் சொல்லும் இந்திய பாகிஸ்தான் எல்லை
2. வடக்கு தெற்கு வியட்நாமை பிரிப்பது
3. அமெரிக்காவையும் கனடாவையும் பிரிப்பது
4. வட மற்றும் தென் கொரியாவை பிரிப்பது

	A	B	C	D
a.	1	2	3	4
b.	2	1	3	4
c.	4	3	1	2
d.	4	3	2	1

59. Match the following

- A. Western most point
- B. Southern most point
- C. Northern most point
- D. Eastern most point

1. Kibithu
2. Indira Col
3. Indira point
4. Ghaur mota

	A	B	C	D
a.	1	2	3	4
b.	4	3	2	1
c.	4	3	1	2
d.	3	4	2	1

பொருத்துக:

- A. மேற்குப்பகுதி
- B. தெற்குப் பகுதி
- C. வடக்குப் பகுதி
- D. கிழக்குப் பகுதி

1. கிபித்து
2. இந்திரா கோல்
3. இந்திரா முனை
4. கௌர்மோட்டா

	A	B	C	D
a.	1	2	3	4
b.	4	3	2	1
c.	4	3	1	2
d.	3	4	2	1

60. Match the following

- A. Karakoram Pass
B. Zojila Pass
C. Shipki La Pass
D. Burzil Pass

1. India to China
2. Srinagar to Leh
3. Shimla to Tibet
4. Kashmir Valley to Central Asia

	A	B	C	D
a.	1	2	4	3
b.	1	2	3	4
c.	2	1	3	4
d.	2	1	4	3

பொருத்துக:

- A. காரக்கோரம் கணவாய்
B. ஜோஷிலா கணவாய்
C. ஷிப்கிலா கணவாய்
D. புர்ஜில் கணவாய்

1. இந்தியா - சீனா
2. ஸ்ரீநகர் - லே
3. சிம்லா - திபெத்
4. காஷ்மீர் - மத்திய ஆசியா

	A	B	C	D
a.	1	2	4	3
b.	1	2	3	4
c.	2	1	3	4
d.	2	1	4	3

61. Match the following

- A. Indus
B. Ganges
C. Brahmaputra
D. Yamuna

1. Gangotri
2. Manasarovar
3. Yamunotri
4. Chemayungdung

	A	B	C	D
a.	1	2	3	4
b.	2	1	4	3
c.	1	2	4	3
d.	3	4	2	1

பொருத்துக:

- A. சிந்து
B. கங்கை
C. பிரம்மபுத்திரா
D. யமுனா

1. கங்கோத்ரி
2. மானசரோவர்
3. யமுனோத்ரி
4. செம்மாயுடங்

	A	B	C	D
a.	1	2	3	4
b.	2	1	4	3
c.	1	2	4	3
d.	3	4	2	1

62. Find out the wrong pair in the mangrove forest and its state?

- a. Sunderban - West Bengal
b. Vembanad - Kerala
c. Cauvery delta - Tamilnadu
d. Ratnagiri - Karnataka

கீழ்க்கண்ட சதுப்பு நிலக்காடுகளை மற்றும் அது பரவியுள்ள மாநிலங்கள் தரப்பட்டுள்ளது எது தவறு?

- a. சுந்தரவனப்பகுதி - மேற்கு வங்காளம்
b. வேம்பநாடு - கேரளா
c. காவிரி டெல்டா - தமிழ்நாடு
d. ரத்னகிரி - கர்நாடகா

63. Match the following

- A. Dandeli sanctuary
B. Gandhi Sagar Sanctuary
C. Jaldepara sanctuary
D. Namdapha Sanctuary

1. Madhya Pradesh
2. Gujarat
3. Arunachal Pradesh
4. West Bengal

	A	B	C	D
a.	1	2	3	4
b.	2	1	3	4
c.	2	1	4	3
d.	4	3	2	1

பொருத்துக:
சரணாலயம்

- A. தண்டேலி
B. காந்தி சாகர்
C. ஜல்தபாரா
D. நாம்தாபா

அமைந்துள்ள மாநிலம்

1. மத்திய பிரதேசம்
2. குஜராத்
3. அருணாச்சல பிரதேசம்
4. மேற்கு வங்காளம்

	A	B	C	D
a.	1	2	3	4
b.	2	1	3	4
c.	2	1	4	3
d.	4	3	2	1

64. Match the following

- A. Assam
B. Kerala
C. Andhra Pradesh
D. Madhya Pradesh

1. Beera
2. Podu
3. Ponam
4. Jhum

	A	B	C	D
a.	1	2	3	4
b.	2	3	4	1
c.	3	4	1	2
d.	4	3	2	1

பொருத்துக:

- A. அஸ்ஸாம்
B. கேரளா
C. ஆந்திரப்பிரதேசம்
D. மத்தியப்பிரதேசம்

1. பீரா
2. பொடு
3. பூனம்
4. ஜும்

	A	B	C	D
a.	1	2	3	4
b.	2	3	4	1
c.	3	4	1	2
d.	4	3	2	1

65. Match the following

- A. First cotton Mill
- B. First Woollen Mill
- C. First Jute Mill
- D. First Paper Mill

	A	B	C	D
a.	2	1	3	4
b.	2	1	4	3
c.	1	2	3	4
d.	3	2	4	1

பொருத்துக:

- A. முதல் பருத்தி ஆலை
- B. முதல் கம்பளி ஆலை
- C. முதல் சணல் ஆலை
- D. முதல் காகிதத்தாள் ஆலை

	A	B	C	D
a.	2	1	3	4
b.	2	1	4	3
c.	1	2	3	4
d.	3	2	4	1

- 1. Kanpur
- 2. Fort Gloster
- 3. Serampore
- 4. Rishra

- 1. கான்பூர்
- 2. ஃபோர்ட் குளோஸ்டர்
- 3. செராம்பூர்
- 4. ரிஸ்ரா

66. Match the following

- A. North Eastern Railway
- B. South Central Railway
- C. East Central Railway
- D. North Central Railway

	A	B	C	D
a.	1	2	3	4
b.	4	3	2	1
c.	4	3	1	2
d.	3	4	2	1

பொருத்துக:

- A. வட கிழக்கு ரயில்வே
- B. தெற்கு மத்திய ரயில்வே
- C. கிழக்கு மத்திய ரயில்வே
- D. வடக்கு மத்திய ரயில்வே

	A	B	C	D
a.	1	2	3	4
b.	4	3	2	1
c.	4	3	1	2
d.	3	4	2	1

- 1. Allahabad
- 2. Hajipur
- 3. Secunderabad
- 4. Gorakhpur

- 1. அலகாபாத்
- 2. ஹாஜிபூர்
- 3. செகந்தராபாத்
- 4. கோராஃபூர்

67. The second train in India was between

- a. Howrah and Hoogly
- b. Bombay and Pune
- c. Kolkatta and Howrah
- d. Bombay to Surat

	A	B	C	D
a.	1	2	3	4
b.	2	3	4	1
c.	2	3	1	4
d.	4	3	2	1

பொருத்துக:

- | | |
|---|----------------|
| A. ராஜீவ்காந்தி பன்னாட்டு விமான நிலையம் | 1. அமிர்த்சரஸ் |
| B. சத்ரபதி சிவாஜி பன்னாட்டு விமான நிலையம் | 2. டெல்லி |
| C. இந்திராகாந்தி பன்னாட்டு விமான நிலையம் | 3. மும்பை |
| D. ராஜா சான்சி பன்னாட்டு விமான நிலையம் | 4. ஹைதராபாத் |

	A	B	C	D
a.	1	2	3	4
b.	2	3	4	1
c.	2	3	1	4
d.	4	3	2	1

74. Which waterways in India is the longest?

- | | | | |
|--------|--------|--------|--------|
| a. NW1 | b. NW2 | c. NW4 | d. NW5 |
|--------|--------|--------|--------|
- கீழ்க்கண்ட எந்த தேசிய நீர் வழிச்சாலை இந்தியாவில் நீளமானதாகும்.
- | | | | |
|--------|--------|--------|--------|
| a. NW1 | b. NW2 | c. NW4 | d. NW5 |
|--------|--------|--------|--------|

75. The National waterway - 1 connects

- | | |
|-------------------------|------------------------|
| a. Varanasi to Kolkatta | b. Allahabad to Haldia |
| c. Allahabad to Hoogly | d. Varanasi to Haldia |

இந்தியாவின் தேசிய நீர்வழிச்சாலை - 1 எந்த நகரங்களை இணைக்கிறது?

- | | |
|------------------------|------------------------|
| a. வாரணாசி - கொல்கத்தா | b. அலகாபாத் - ஹால்டியா |
| c. அலகாபாத் - ஹூக்ளி | d. வாரணாசி - ஹால்டியா |

76. Match the following

- | | |
|-----------------|------------------|
| A. Chilka Lake | 1. Andhrapradesh |
| B. Kolleru Lake | 2. Odisha |
| C. Loktak Lake | 3. Maharashtra |
| D. Lonar Lake | 4. Manipur |

	A	B	C	D
a.	1	2	3	4
b.	2	1	4	3
c.	2	1	3	4
d.	1	2	4	3

பொருத்துக:

- | | |
|-----------------|----------------------|
| A. சில்கா ஏரி | 1. ஆந்திரப் பிரதேசம் |
| B. கொல்லேரு ஏரி | 2. ஒடிசா |
| C. லோக்டக் ஏரி | 3. மஹாராஷ்ட்ரா |
| D. லொனார் ஏரி | 4. மணிப்பூர் |

	A	B	C	D
a.	1	2	3	4
b.	2	1	4	3
c.	2	1	3	4
d.	1	2	4	3

77. Consider the following tribes which are found in Tamilnadu

1. Badagas 2. Kotas 3. Irula
4. Kenikar 5. Uralis

- a. 1, 3, 4 only b. 1, 2, 3 & 5 only
c. 1, 2, 3, 4 only d. 2, 3, 4, 5 only

கீழ்க்கண்ட பழங்குடி மக்களில் தமிழ்நாட்டில் வாழ்பவர்கள் யார் எனக் குறிப்பிடவும்

1. படுகர் 2. கோடர் 3. இருளர் 4. கணிக்கர் 5. ஊரலி
a. 1, 3 & 4 மட்டும் b. 1, 2, 3 & 5 மட்டும்
c. 1, 2, 3 & 4 மட்டும் d. 2, 3, 4 & 5 மட்டும்

78. Match the following

- A. Bhotias 1. Tripura
B. Bhujia 2. Sikkim
C. Lepchas 3. Madhya Pradesh
D. Lushai 4. Uttarakhand

- | | A | B | C | D |
|----|---|---|---|---|
| a. | 1 | 2 | 3 | 4 |
| b. | 2 | 3 | 4 | 1 |
| c. | 3 | 4 | 1 | 2 |
| d. | 4 | 3 | 2 | 1 |

பொருத்துக:

- A. போடியா 1. திரிபுரா
B. புஜா 2. சிக்கிம்
C. லெப்சாஸ் 3. மத்தியப்பிரதேசம்
D. லுஸாய் 4. உத்தராகாண்ட்

- | | A | B | C | D |
|----|---|---|---|---|
| a. | 1 | 2 | 3 | 4 |
| b. | 2 | 3 | 4 | 1 |
| c. | 3 | 4 | 1 | 2 |
| d. | 4 | 3 | 2 | 1 |

79. Match of the following

- a. Boston of India 1. Madurai
b. City of Festivals 2. Ahmedabad
c. City of Temples 3. Panipat
d. City of Weavers 4. Varanasi

- | | a | b | c | d |
|----|---|---|---|---|
| A. | 2 | 1 | 3 | 4 |
| B. | 2 | 1 | 4 | 3 |
| C. | 1 | 2 | 3 | 4 |
| D. | 1 | 2 | 4 | 3 |

பொருத்துக:

- A. இந்தியாவின் போஸ்டன் 1. மதுரை
B. திருவிழாக்களின் நகரம் 2. அகமதாபாத்
C. கோவில் நகரம் 3. பாணிப்பட்
D. நெசவாளர்கள் நகரம் 4. வாரணாசி

	A	B	C	D
a.	2	1	3	4
b.	2	1	4	3
c.	1	2	3	4
d.	1	2	4	3

80. Which one of the following is wrongly matched?

- Manchester of India – Ahmedabad
- Manchester of North India – Kanpur
- Manchester of South India – Coimbatore
- Manchester of West India – Mumbai

கீழ்க்கண்டவற்றில் எது தவறு:

- இந்தியாவின் மான்செஸ்டர் - அகமதாபாத்
- வட இந்தியாவின் மான்செஸ்டர் - கான்பூர்
- தென் இந்தியாவின் மான்செஸ்டர் - கோயமுத்தூர்
- மேற்கு இந்தியாவின் மான்செஸ்டர் - மும்பை

81. What is the level of noise, which is of normal conservation?

- 20 db
- 40 db
- 60 db
- 80 db

சாதாரணமாக பேசும் சப்தத்தின் ஒலியின் அளவு என்ன?

- 20 டெசிபல்
- 40 டெசிபல்
- 60 டெசிபல்
- 80 டெசிபல்

82. Most widely produced greenhouse gas is

- Carbon dioxide
- Methane
- Ammonia
- Chlorofluoro Carbon

உலகில் அதிகமாக வெளியிடப்படும் பசுமைக்குடில் வாயு எது?

- கார்பன் டை ஆக்ஸைடு
- மீத்தேன்
- அம்மோனியா
- குளோரோ ஃபுளூரோ கார்பன்

83. Which one of the following is not a cause of Rural poverty?

- Rapid population growth
- Illiteracy
- Child marriage
- Infanticide

கிராமத்து ஏழ்மையால் ஏற்படும் பல காரணிகளில், கீழ்க்கண்ட ஒன்று இல்லை

- வேகமான மக்கள் தொகைப் பெருக்கம்
- எழுத்தறிவு குறைவு
- குழந்தை திருமணம்
- சிசுக் கொலை

84. Which were the Five Year Plans achieved as per target?

- First and Ten
- First and Fifth
- Second and Fifth
- First only

எந்த ஐந்தாண்டு திட்டங்கள் குறித்த இலக்கை அடைந்து வெற்றி பெற்றன.

- முதலும் பத்தும்
- முதல் & ஐந்து
- இரண்டும் ஐந்தும்
- ஒன்று மட்டும்

85. Consider the following

- National commission on farmers was appointed in 2004
- The chairman of the above commission was Dr. M.S. Swaminathan
- The commission suggested an Agricultural Renewal Action Plan (AKAP)

- 1, 2 only
- 1, 3 only
- 1 only
- All the above

கீழ்க்கண்டவற்றில் எது சரி

1. விவசாயிகளுக்கான தேசிய கமிஷன் 2004ம் ஆண்டு அமைக்கப்பட்டது
 2. அதன் தலைவர் டாக்டர் எம்.எஸ். சுவாமிநாதன் ஆவார்
 3. இந்த கமிஷன் வேளாண்மை புத்தார்வ புதுமைத் திட்டம் ஒன்றை பரிந்துரை செய்தது.
- a. 1 மற்றும் 2 மட்டும் b. 1 மற்றும் 3 மட்டும் c. 1 மட்டும் d. மேற்கண்ட அனைத்தும்

86. Find out the oddman out

- a. Black Revolution - Coal
- b. Golden Fiber Revolution - Fibre Jute
- c. Grey Revolution - Fertilizer
- d. Pink Revolution - Onion

வித்தியாசமானதை கண்டுபிடிக்கவும்:

- a. கருமைப்புரட்சி - நிலக்கரி
- b. தங்கப் இழைப்புரட்சி - சணல்
- c. சாம்பல் புரட்சி - உரம்
- d. இளஞ்சிவப்பு புரட்சி - வெங்காயம்

87. Consider the following

1. Speedy increase in the field of milk production is called 'White Revolution'
2. Father of white revolution is Dr. Verghese Kurien
3. The National Dairy Development Board started in 1970

Which is/are the statements true?

- a. 1 & 2 only b. 1 & 3 only c. 2 & 3 only d. All the above

கீழ்க்கண்ட கூற்றுகளில் எது / எவை சரி.

1. வேகமான பால் உற்பத்தியை வளர்ப்பது "வெண்மைப்புரட்சி" ஆகும்
2. வெண்மைப் புரட்சியின் தந்தை டாக்டர் வர்கீஸ்குரியன் ஆவார்
3. தேசிய பால் வளர்ச்சி குழுமம் 1970ம் ஆண்டு உருவாக்கப்பட்டது

- a. 1 மற்றும் 2 மட்டும் b. 1 மற்றும் 3 மட்டும்
- c. 2 மற்றும் 3 மட்டும் d. மேற்கண்ட அனைத்தும்

88. Match the following

- | | |
|--------------|---------|
| A. RRBs | 1. 1963 |
| B. NABARD | 2. 1969 |
| C. Lead Bank | 3. 1982 |
| D. NCDC | 4. 1975 |

- | | | | | |
|----|---|---|---|---|
| | A | B | C | D |
| a. | 1 | 2 | 3 | 4 |
| b. | 2 | 3 | 4 | 1 |
| c. | 4 | 3 | 1 | 2 |
| d. | 4 | 3 | 2 | 1 |

பொருத்துக:

- | | |
|-------------------------------------|---------|
| A. RRBs | 1. 1963 |
| B. நாபார்டு | 2. 1969 |
| C. மாவட்டதலைமை வங்கி | 3. 1982 |
| D. தேசிய கூட்டுறவு வளர்ச்சிக் கழகம் | 4. 1975 |

- | | | | | |
|----|---|---|---|---|
| | A | B | C | D |
| a. | 1 | 2 | 3 | 4 |
| b. | 2 | 3 | 4 | 1 |
| c. | 4 | 3 | 1 | 2 |
| d. | 4 | 3 | 2 | 1 |

89. Findout the wrong pair

- a. Rourkela - Germany
- b. Bhilai - Russia
- c. Durgapur - Britan
- d. Bokaro - Germany

தவறாக பொருந்தியுள்ளதை கண்டு பிடிக்கவும்.

- a. ரூர்கேலா - ஜெர்மனி
- b. பிலாய் - ரஷ்யா
- c. தூர்காபூர் - பிரிட்டன்
- d. பொகாரோ - ஜெர்மனி

90. Consider the following regarding fertilizer industry

1. First fertilizer industry was set up in 1906
 2. It was set up in Ranipet
 3. India is self sufficient in fertilizer production
- Which one of the above statements true?

- a. 1 only
- b. 1, 2 only
- c. 1, 3 only
- d. all the above

உரத்தொழிற்சாலை பற்றிய கீழ்க்கண்ட கூற்றுகளில் எது / எவை சரி.

1. முதல் உரத் தொழிற்சாலை 1906ம் ஆண்டு இந்தியாவில் அமைக்கப்பட்டது
2. அது ராணிப்பேட்டையில் அமைக்கப்பட்டது
3. உர உற்பத்தியில் இந்தியா தன்னிறைவு பெற்றது

- a. 1 மட்டும்
- b. 1 ரு 2 மட்டும்
- c. 1 & 3 மட்டும்
- d. மேற்கண்ட அனைத்தும்

91. The symbol of Indian rupee adopted from

- a. 15th August 2010
- b. 15th July 2010
- c. 15th August 2011
- d. 15th July 2011

இந்திய ரூபாய் அடையாளம் எந்த தேதியிலிருந்து ஏற்கப்பட்டது?

- a. ஆகஸ்ட் 15, 2010
- b. ஜூலை 15, 2010
- c. ஆகஸ்ட் 15, 2011
- d. ஜூலை 15, 2011

92. Match the following

- A. Indian Security Press
- B. Security Printing Press
- C. Currency Notes Press
- D. Security Paper

1. Dewas
2. Nashik
3. Hyderabad
4. Hoshangabad

- | | A | B | C | D |
|----|---|---|---|---|
| a. | 1 | 2 | 3 | 4 |
| b. | 1 | 3 | 2 | 4 |
| c. | 1 | 2 | 4 | 3 |
| d. | 2 | 1 | 3 | 4 |

பொருத்துக:

- A. இந்தியா செக்யூரிட்டி பிரஸ்
- B. செக்யூரிட்டி பிரிண்டிங் பிரஸ்
- C. கரன்சி நோட் பிரஸ்
- D. செக்யூரிட்டி பிரஸ்

- 1. தேவாஸ்
- 2. நாசிக்
- 3. ஹைதராபாத்
- 4. ஹோஸங்காபாத்

	A	B	C	D
a.	1	2	3	4
b.	1	3	2	4
c.	1	2	4	3
d.	2	1	3	4

93. The first Bank started in India was in
- a. Punjab National Bank, 1894 b. Oudh Commercial Bank, 1881
c. Bank of Allahabad, 1893 d. Imperial Bank of India, 1935
- முதன் முதலில் இந்தியாவில் ஆரம்பிக்கப்பட்ட வங்கி எது?
- a. பஞ்சாப் நேஷனல் வங்கி 1894 b. ஒளத் வணிக வங்கி, 1881
c. அலாஹாபாத் வங்கி, 1893 d. இந்திய இம்பீரியல் வங்கி, 1935

94. Match the following
- A. Industrial Fiancial Corporation of India 1. 1985
B. State Finance Corporation 2. 1964
C. Industrial Development Bank of India 3. 1951
D. Industrial investment Bank of India 4. 1948

	A	B	C	D
a.	1	2	3	4
b.	2	3	4	1
c.	3	4	1	2
d.	4	3	2	1

- பொருத்துக:
- A. இந்திய தொழில் நிதிக்கழகம் 1. 1985
B. மாநில நிதிக்கழகம் 2. 1964
C. இந்திய தொழில் வளர்ச்சிக் கழகம் 3. 1951
D. இந்திய தொழில் முனைவு வங்கி 4. 1948

	A	B	C	D
a.	1	2	3	4
b.	2	3	4	1
c.	3	4	1	2
d.	4	3	2	1

95. Which one of the following is wrongly matched?
- a. National Insurance Company Ltd - Kolkata
b. New India Assurance Company Ltd - New Delhi
c. Oriental Fire and General Insurance Company Ltd - New Delhi
d. United India General Insurance Company Ltd - Kolkata
- கீழ்க்கண்டவற்றில் எது தவறாக பொருத்தப்பட்டுள்ளது
- a. தேசிய காப்பீட்டு நிறுவனம் - கொல்கத்தா
b. நியூ இந்தியா உத்திரவாத நிறுவனம் - புதுடெல்லி
c. ஓரியண்டல் தீ மற்றும் பொதுக்காப்பீட்டு நிறுவனம் - புது டெல்லி
d. யுனைடெட் இந்தியா பொது காப்பீட்டு நிறுவனம் - கொல்கத்தா

96. Which one of the following is wrongly matched in the International stock market indices?

- a. FTSE100 - United Kingdom
b. NASDAQ - USA
c. STOXX - Europe
d. Dow Jones - Germany

கீழ்க்கண்ட சர்வதேச பங்குச் சந்தை குறியீட்டுகளில் எது தவறானது

- a. FTSE100 - இங்கிலாந்து
b. NASDAQ - அமெரிக்கா
c. STOXX - ஐரோப்பா
d. Dow Jones - ஜெர்மனி

97. World computer literary day is?

- a. December 2 b. November 2 c. December 12 d. November 12

உலக கணிப்பொறி அறிவுசார் தினம் _____

- a. டிசம்பர் 2 b. நவம்பர் 2 c. டிசம்பர் 12 d. நவம்பர் 12

98. The search engine google created by

- a. Larry Page and Sergey brin b. Konrad Zuse
c. Shiva Ayyadurai d. Sabeer Bhatia

கூகுள் தேடும் வலைத்தளத்தை உருவாக்கியவர் யார்?

- a. லாரி பேஜ் & செர்ஜி பிரின் b. கோனார்ட் ஸூஸ்
c. சிவ அய்யாத்துரை d. சபீர் பாடியா

99. The first computer made in India is

- a. Ashoka b. Siddharth c. Kautilya d. Chanakya

முதன் முதலில் இந்தியாவில் உருவாக்கப்பட்ட கம்ப்யூட்டர் எது?

- a. அசோகா b. சித்தார்த் c. கௌடில்யா d. சாணக்யா

100. Who is responsible for auditing Government account?

- a. Comptroller and Auditor General b. Principal Auditor General
c. Auditor General d. Ministry of Finance

அரசின் கணக்குகளை தணிக்கை செய்பவர் யார்?

- a. தலைமை கணக்கு தணிக்கை அதிகாரி
b. முதன்மை கணக்கு தணிக்கை அதிகாரி
c. கணக்கு தணிக்கை அதிகாரி
d. நிதி அமைச்சகம்

101. Who recommended the separation of accounts from audit?

1. Inchcape Committee 2. Muddiman Committee
3. Simon Commission

- a. 1, 2 only b. 1, 3 only c. 2, 3 only d. All of these

கணக்குப் பதிவை கணக்குத் தணிக்கையிலிருந்து பிரிக்க வேண்டும் யார் சொன்னார்?

1. இன்சாப் குழு 2. முடிமான் குழு 3. சைமன் குழு

- a. 1 & 2 மட்டும் b. 1 & 3 மட்டும் c. 2 & 3 மட்டும் d. மேற்கண்ட அனைத்தும்

107. Consider the following
 Assertion (A): National Science day is celebrated on 28th February
 Reason (R): Great Mathematician Srinivasan Ramanujam was born on 28th February
- A & R are true. R is the correct explanation for A
 - A & R are true. R is Not the Correct Explanation for A
 - A is true R is wrong
 - A is wrong R is true.

கூற்று : தேசிய அறிவியல் தினம் பிப்ரவரி மாதம் 28ம் நாள் கொண்டாடப்படுகிறது
 காரணம் : தலைசிறந்த கணித மேதை பிப்ரவரி 28ம் நாள் பிறந்தார்

- (A) மற்றும் (R) இரண்டும் சரி, (R) என்பது (A) விற்கு சரியான விளக்கம்
- (A) மற்றும் (R) இரண்டும் சரி, (R) என்பது (A) விற்கு சரியான விளக்கமல்ல
- (A) சரி, ஆனால் (R) தவறு
- (A) தவறு, ஆனால் (R) சரி

108. Match the following
- World Wealth Day
 - Indian Civil service Day
 - Earth Day
 - Panchayat Diwas

- 24th April
- 22nd April
- 21st April
- 7th April

	a	b	c	d
A.	1	2	3	4
B.	2	3	4	1
C.	3	4	1	2
D.	4	3	2	1

பொருத்துக:

- | | |
|----------------------------|---------------|
| A. உலக சுகாதார நாள் | 1. ஏப்ரல் 24 |
| B. இந்திய குடிமைப்பணி நாள் | 2. ஏப்ரல் 22 |
| C. பூமி நாள் | 3. ஏப்ரல், 21 |
| D. பஞ்சாயத்து நாள் | 4. ஏப்ரல், 7 |

	A	B	C	D
a.	1	2	3	4
b.	2	3	4	1
c.	3	4	1	2
d.	4	3	2	1

109. Consider the following
- Central Rice Research Institute - Cuttack
 - Central Sugar cane Research Institute - Coimbatore
 - Central tobacco Research Centre - Vendasandur
 - Central Drug Research Institute - Allahabad

Choose the correct one

- 1, 2, 3 only
- 2, 3, 4 only
- 1, 2 only
- 2, 3 only

கீழ்க்கண்டவற்றில் எது / எவை சரியாக பொருந்தியுள்ளது?

- மத்திய நெல் ஆராய்ச்சி நிலையம் - கட்டாக்
- மத்திய கரும்பு ஆராய்ச்சி நிலையம் - கோயம்புத்தூர்
- மத்திய புகையிலை ஆராய்ச்சி நிலையம் - வேடசந்தூர்
- மத்திய மருந்து ஆராய்ச்சி நிலையம் - அலாகாபாத்

- 1, 2 & 3 மட்டும்
- 2, 3 & 4 மட்டும்
- 1 & 2 மட்டும்
- 2 & 3 மட்டும்

110. Which one of the pair is wrongly matched?
- a. Tata Institute of Fundamental Research - Mumbai
b. Saha Institute of Nuclear Physics - Kolkata
c. Nuclear Fuel Complex - Kalpakkam
d. Nuclear Power Complex - Mumbai
- கீழ்க்கண்ட எது தவறாக பொருத்தப்பட்டுள்ளது
- a. டாடா அடிப்படை ஆராய்ச்சி நிலையம் - மும்பை
b. சகா அணுப்பௌதிக மையம் - கொல்கத்தா
c. அணு எரிபொருள் வளாகம் - கல்பாக்கம்
d. அணு சக்தி வளாகம் - மும்பை

111. Match the following
- a. Red Cross 1. Badan Powell
b. Scout 2. Hendry Durtand
c. shantiniketan 3. Vinoba Bhave
d. Bhudan Movement 4. Rabindranath Tagore

	a	b	c	d
A.	1	2	3	4
B.	2	1	3	4
C.	1	2	4	3
D.	2	1	4	3

பொருத்துக:

- A. செஞ்சிலுவை சங்கம் 1. பேடன் பவுல்
B. சாரணர் இயக்கம் 2. ஹென்றி டூர்டான்ட்
C. சாந்தி நிகேதன் 3. வினோபா பாவே
D. பூமிதான இயக்கம் 4. ரவீந்திரநாத் தாகூர்

	A	B	C	D
a.	1	2	3	4
b.	2	1	3	4
c.	1	2	4	3
d.	2	1	4	3

112. Match the following
- A. National Defence Academy 1. Dehradun
B. National Defence College 2. Khadakvasla
C. Indian Military Academy 3. Wellington
D. Defence Service Staff College 4. New Delhi

	A	B	C	D
a.	3	1	4	2
b.	4	2	1	3
c.	1	4	3	2
d.	2	4	1	3

பொருத்துக

- A. தேசிய பாதுகாப்பு அகாடமி 1. டெஹ்ராடூன்
B. தேசிய பாதுகாப்பு கல்லூரி 2. கதக்வாஸ்லா
C. இந்திய இராணுவ அகாடமி 3. வெல்லிங்டன்
D. பாதுகாப்பு சேவை பணியாளர் கல்லூரி 4. புதுடெல்லி

	A	B	C	D
a.	3	1	4	2
b.	4	2	1	3
c.	1	4	3	2
d.	2	4	1	3

113. Match the following:

Council	Estd Year
A. National Development Council	1. 1956
B. National Integration Council	2. 1990
C. Inter State council	3. 1952
D. Zonal Council	4. 1961

	A	B	C	D
a.	3	4	2	1
b.	3	2	4	1
c.	3	2	1	4
d.	3	4	1	2

பட்டியல் I

கவுன்சில்

- A. தேசிய வளர்ச்சி குழு
 B. தேசிய ஒருமைப்பாட்டு குழு
 C. மாநிலங்களுக்கிடையான குழு
 D. மண்டலக் குழு

பட்டியல் II

ஆரம்பிக்கப்பட்ட வருடம்

1. 1956
 2. 1990
 3. 1952
 4. 1961

	A	B	C	D
a.	3	4	2	1
b.	3	2	4	1
c.	3	2	1	4
d.	3	4	1	2

114. Match List I with List II:

List I

(Institute)

- A. Central Institute of Medicinal and Aromatic Plant
 B. Centre for DNA Finger Printing and Diagnostics
 C. Institute of Microbial Technology
 D. National Institute of Immunology

List II

(Location)

1. Chandigarh
 2. Hyderabad
 3. New Delhi
 4. Lucknow

	A	B	C	D
a.	2	4	1	3
b.	4	2	1	3
c.	2	4	3	1
d.	4	2	3	1

பொருத்துக

ஆராய்ச்சி மையம்

A. மத்திய மருத்துவ மற்றும் நறுமண தாவரங்கள் ஆராய்ச்சி மையம்

B. மத்திய டி.என்.ஏ. விரல் ரேகை பதிவு மற்றும் இன கண்டுபிடிப்பு

ஆராய்ச்சி மையம்

C. நுண்ணுயிரி தொழிற்நுட்ப மையம்

D. தேசிய நோய்த்தடை காப்பியல் மையம்

A B C D

a. 2 4 1 3

b. 4 2 1 3

c. 2 4 3 1

d. 4 2 3 1

அமைவிடம்

1. சண்டிகர்

2. ஹைதராபாத்

3. புதுதில்லி

4. லக்னோ

115. Match the following:

Institute

A. Indian Institute of Geomagnetism

B. International Advanced Research

Centre for Powder Metallurgy and New Materials

C. Salim Ali Centre for Ornithology and Natural History

D. Tropical Forestry Research Institute

A B C D

a. 2 3 1 4

b. 1 4 2 3

c. 2 4 1 3

d. 2 3 2 4

Located At

1. Coimbatore

2. Mumbai

3. Jabalpur

4. Hyderabad

பொருத்துக

நிறுவனம்

A. இந்திய புவிகாந்த சக்தி நிறுவனம்

B. சர்வதேச சிறப்பு துகள் உலோகவியல் மற்றும் புதிய
மூலப்பொருட்கள் ஆய்வுமையம்

C. சலீம் அலி பறவையியல் மற்றும் இயற்கை வரலாறு மையம்

D. வெப்ப மண்டலக் காடுகள் ஆராய்ச்சி மையம்

A B C D

a. 2 3 1 4

b. 1 4 2 3

c. 2 4 1 3

d. 2 3 2 4

இடம்

1. கோவை

2. மும்பை

3. ஜபல்பூர்

4. ஹைதராபாத்

116. Which is the highest literary prize given by the Government of India?

a. Sahita Akademi Award

b. Kalidas Samman

c. Saraswati Samman

d. Jnanpith Award

இந்திய அரசு வழங்கும் உயரிய இலக்கிய விருது எது?

a. சாகித்ய அகாடமி விருது

b. காளிதாஸ் சம்மான்

c. சரஸ்வதி சம்மான்

d. ஞானபீட விருது

117. Match the following Lists

Name of Warhead

- A. Tejas
B. Arjun
C. Dhanus
D. Astra

Type

1. Air-to-Air missile
2. Ship based missile
3. Main Battle Tank
4. Light combat aircraft

- | | A | B | C | D |
|----|---|---|---|---|
| a. | 4 | 3 | 2 | 1 |
| b. | 1 | 2 | 3 | 4 |
| c. | 4 | 2 | 3 | 1 |
| d. | 1 | 3 | 2 | 4 |

பொருத்துக

- A. தேஜஸ்
B. அர்ஜன்
C. தனுஷ்
D. அஷ்தரா

1. வானத்தில் இருந்து வானம் செல்லும் ஏவுகணை
2. கப்பலை மூலமாகக் கொண்ட ஏவுகணை
3. முக்கியப் போர்க்கப்பல்
4. இலகுவாகப் போர் வானூர்தி

- | | A | B | C | D |
|----|---|---|---|---|
| a. | 4 | 3 | 2 | 1 |
| b. | 1 | 2 | 3 | 4 |
| c. | 4 | 2 | 3 | 1 |
| d. | 1 | 3 | 2 | 4 |

118. Which of the following is the first universally ratified treaty in the history of the United Nations?

- a. Kyoto Protocol
b. Montreal Protocol
c. Ramsar convention
d. Earth Summit

ஐ.நா.வின் உடன்படிக்கைகளில் முதன் முதலில் உலகளவில் ஒப்புக்கொள்ளப்பட்ட உடன்படிக்கை எது?

- a. கியாட்டோ புரோட்டோகால்
b. மான்ட்ரியல் புரோட்டோகால்
c. ராம்சர் உடன்படிக்கை
d. புவி மாநாடு

119. The world's first para military force comprising entirely women 'mahila Baltalion' is part of

- a. Home guard
b. Territorial Army
c. Indo Tibetan Border Force
d. Central Reserve Police force

உலகத்திலேயே ஒரு படை அணி (Battalion) முழுவதும் பெண்களைக் கொண்ட "மகிளா பட்டாலியன்" இந்தியாவின் எந்த துணை ராணுவத்தின் ஒரு பகுதியாகும்?

- a. ஊர்க்காவல் படை
b. எல்லைப்படை
c. இந்திய திபெத்திய எல்லைப்படை
d. மத்திய தொகுதி காவல் படை

120. Match the following

- A. Botanical Survey of India (Kolkata)
B. Zoological Survey of India (Kolkata)
C. Forest Survey of India (Dehradun)
D. Forest (Conservation) Act

1. 1916
2. 1981
3. 1890
4. 1980

	A	B	C	D
a.	4	2	3	1
b.	2	4	3	1
c.	4	3	2	1
d.	3	1	2	4

பொருத்துக

A. இந்திய தாவரவியல் ஆய்வு மையம் (கொல்கத்தா)	1. 1916
B. இந்திய விலங்கியல் ஆய்வு மையம் (கொல்கத்தா)	2. 1981
C. இந்திய காடுகள் ஆய்வு மையம் (டேராடூன்)	3. 1890
D. காடுகள் பாதுகாப்புச் சட்டம்	4. 1980

	A	B	C	D
a.	4	2	3	1
b.	2	4	3	1
c.	4	3	2	1
d.	3	1	2	4

121. Match the following

Awards

- A. Ramon Magasasay
- B. Bhartiya Janpit Award
- C. Bharat Ratna
- D. Arjuna Award
- E. Ashoka Chakra

Year Commissioned

- 1. 1954
- 2. 1957
- 3. 1961
- 4. 1952
- 5. 1961

	A	B	C	D	E
a.	2	1	3	5	4
b.	3	2	1	4	5
c.	2	3	1	5	4
d.	3	2	1	5	4

பொருத்துக:

விருதுகள்

- A. ராமன் மகசேசே
- B. பாரதீய ஞானபீட விருது
- C. பாரத ரத்னா
- D. அர்ஜுனா விருது
- E. அசோக சக்ரா விருது

துவங்கப்பட்ட வருடம்

- 1. 1954
- 2. 1957
- 3. 1961
- 4. 1952
- 5. 1961

	A	B	C	D	E
a.	2	1	3	5	4
b.	3	2	1	4	5
c.	2	3	1	5	4
d.	3	2	1	5	4

122. Match the following Indian Defence initiatives with their descriptions:

- A. Agnipath Scheme
- B. Operation Sankalp
- C. Mission Sagar
- D. Digital India Initiative

- 1. Recruitment scheme for youth in Armed Forces
- 2. Protecting Indian vessels in Arabian Gulf
- 3. Providing humanitarian aid to neighboring countries
- 4. Enhancing the IAF's technological capabilities

	A	B	C	D
a.	1	2	3	4
b.	4	3	2	1
c.	2	1	4	3
d.	3	4	1	2

e. Answer not known

பின்வரும் இந்திய பாதுகாப்பு முயற்சிகளை அவற்றின் விளக்கங்களுடன் பொருத்தவும்:

- | | |
|------------------------------|--|
| A. அக்னிபாத் திட்டம் | 1. ஆயுதப்படைகளில் இளைஞர்களுக்கான ஆட்சேர்ப்பு திட்டம் |
| B. சங்கல்ப் நடவடிக்கை | 2. அரேபிய வளைகுடாவில் இந்தியக் கப்பல்களைப் பாதுகாத்தல் |
| C. சாகர் திட்டம் | 3. அண்டைநாடுகளுக்கு மனிதாபிமான உதவிகளை வழங்குதல் |
| D. டிஜிட்டல் இந்தியா திட்டம் | 4. இந்திய விமானப்படையின் தொழில்நுட்ப திறன்களை மேம்படுத்துதல் |

	A	B	C	D
a.	1	2	3	4
b.	4	3	2	1
c.	2	1	4	3
d.	3	4	1	2

e. விடை தெரியவில்லை

123. The 'Green Energy Corridors' scheme focuses on:

- Promoting electric vehicles
- Building solar-powered highways
- Setting up transmission infrastructure for renewable energy projects
- Connecting all Indian states with a single power grid
- Answer not known

“பசுமை எரிசக்தி வழித்தடங்கள்” திட்டம் பின்வருவனவற்றில் எதில் கவனம் செலுத்துகிறது?

- மின்சார வாகனங்களை ஊக்குவித்தல்
- சூரிய சக்தியில் இயங்கும் நெடுஞ்சாலைகளை உருவாக்குதல்
- புதுப்பிக்கத்தக்க எரிசக்தி திட்டங்களுக்கான பரிமாற்ற உள்கட்டமைப்பை அமைத்தல்
- அனைத்து இந்திய மாநிலங்களையும் ஒரே மின் இணைப்புடன் இணைக்கிறது
- விடை தெரியவில்லை

124. What is the primary objective of the Atmospheric and Climate Research, Observations Science Services (ACROSS)?

- To promote international collaboration in atmospheric research
- To improve and provide reliable weather and climate forecasts through sustained observations and research
- To focus exclusively on monsoon prediction using satellite data
- To conduct airborne cloud seeding experiments exclusively
- Answer not known

வளிமண்டல மற்றும் காலநிலை ஆராய்ச்சி, கண்காணிப்பு அறிவியல் சேவைகளின் (ACROSS) முதன்மை நோக்கம் என்ன?

- வளிமண்டல ஆராய்ச்சியில் சர்வதேச ஒத்துழைப்பை ஊக்குவித்தல்
- நிலையான கண்காணிப்பு மற்றும் ஆராய்ச்சி மூலம் நம்பகமான வானிலை மற்றும் காலநிலை முன்னறிவிப்புகளை மேம்படுத்தி வழங்குதல்
- செயற்கைக்கோள் தரவுகளைப் பயன்படுத்தி பருவமழை முன்னறிவிப்பில் மட்டுமே கவனம் செலுத்துதல்.
- வான்வழி மேக விதைப்பு பரிசோதனைகளை பிரத்தியேகமாக நடத்துதல்
- விடை தெரியவில்லை

125. Match the following:

Tribes		Area		
A. Angamis		1. Meghalaya		
B. Todas		2. Tamil Nadu		
C. Moplahs		3. Kerala		
D. Birhors		4. Nagaland		
E. Khasis		5. Madhya Pradesh		

	A	B	C	D	E
a.	4	2	3	5	1
b.	5	2	3	4	1
c.	4	3	5	1	2
d.	5	2	4	3	1

பொருத்துக
பழங்குடியினர்

- A. அங்கமிஸ்
B. தோடர்கள்
C. மாப்ளாக்கள்
D. பிர்ஹர்கள்
E. காசிகள்

மாநிலங்கள்

1. மேகாலயா
2. தமிழ்நாடு
3. கேரளா
4. நாகலாந்து
5. மத்தியப்பிரதேசம்

	A	B	C	D	E
a.	4	2	3	5	1
b.	5	2	3	4	1
c.	4	3	5	1	2
d.	5	2	4	3	1

126. CEDAW deals with

- a. Human rights for freedom of speech
c. Value education and awareness

- b. Discrimination against women
d. Environmental education

CEDAW எதை கையாளுகிறது?

- a. பேச்சு சுதந்திரத்திற்கான மனித உரிமைகள்
b. பெண்களுக்கு எதிரான பாகுபாடு
c. மதிப்புள்ள கல்வி மற்றும் விழிப்புணர்வு
d. சுற்றுச்சூழல் கல்வி

127. Which of these is not a UNESCO World Heritage Site in India?

- a. Taj Mahal
b. Sun Temple, Konark
c. Red Fort Complex
d. Golden Temple
e. Answer not known

இவற்றில் எது இந்தியாவில் யுனெஸ்கோ உலக பாரம்பரிய தளம் அல்ல?

- a. தாஜ்மஹால்
b. சூரிய கோயில், கோனார்க்
c. செங்கோட்டை வளாகம்
d. தங்கக் கோயில்
e. விடை தெரியவில்லை

128. The Competition Commission of India (CCI):

1. Aims to eliminate practices having an adverse effect on competition.
2. Primarily focuses on regulating digital currencies.
a. Only 1 is correct
b. Only 2 is correct
c. Both 1 and 2 are correct
d. Neither 1 nor 2 is correct
e. Answer not known

இந்திய போட்டி ஆணையம் (CCI):

1. போட்டியின் மீது பாதகமான விளைவை ஏற்படுத்தும் நடைமுறைகளை அகற்றுவதை நோக்கமாகக் கொண்டுள்ளது.
2. டிஜிட்டல் நாணயங்களை ஒழுங்குபடுத்துவதில் முதன்மை கவனம் செலுத்துகிறது.
 - a. 1 மட்டுமே சரி
 - b. 2 மட்டுமே சரி
 - உ. இரண்டும் சரி
 - d. இரண்டும் சரியல்ல
 - e. விடை தெரியவில்லை

129. Identify the incorrectly matched pair regarding India's water resource projects:

- A. Farakka Barrage - Ganga River Basin
- B. Betwa River Board - Tungabhadra River Project
- C. Tungabhadra Board - Tungabhadra River Basin
- D. Polavaram Project Authority - Godavari River Basin

- a. One pair only incorrect
- b. Two pairs only incorrect
- c. Three pairs only incorrect
- d. All pairs are incorrect
- e. Answer not known

இந்தியாவின் நீர்வளத் திட்டங்கள் தொடர்பாக தவறாகப் பொருந்திய இணையை அடையாளம் காணவும்:

- A. பரக்கா அணை - கங்கை நதிப் படுகை
 - B. பெட்வா நதிப் படுகை - துங்கபத்ரா நதிப் படுகை
 - C. துங்கபத்ரா வாரியம் - துங்கபத்ரா நதிப் படுகை
 - D. போலாவரம் திட்ட ஆணையம் - கோதாவரி நதிப் படுகை
- a. ஒரு இணை மட்டுமே தவறானது
 - b. இரண்டு இணைகள் மட்டுமே தவறானது
 - c. மூன்று இணைகள் மட்டுமே தவறானது
 - d. அனைத்து இணைகளும் தவறானவை
 - e. விடை தெரியவில்லை

130. The National Mission for Clean Ganga was established to address pollution in the Ganga River. What is the major source of this pollution?

- a. Industrial waste
- b. Agricultural runoff
- c. Untreated domestic sewage
- d. Deforestation and land erosion
- e. Answer not known

கங்கை நதியில் மாசுபாட்டை நிவர்த்தி செய்வதற்காக தேசிய தூய்மையான கங்கை இயக்கம் நிறுவப்பட்டது. இந்த மாசுபாட்டின் முக்கிய ஆதாரம் என்ன?

- a. தொழில்துறை கழிவுகள்
- b. விவசாய கழிவுநீர்
- c. சுத்திகரிக்கப்படாத வீட்டு கழிவுநீர்
- d. காடழிப்பு மற்றும் நில அரிப்பு
- e. விடை தெரியவில்லை

131. The Ministry of Environment, Forest and Climate Change (MoEF&CC) acts as the nodal agency for which of the following international organisations?

- a. World Health Organization (WHO)
- b. United Nations Environment Programme (UNEP)
- c. International Monetary Fund (IMF)
- d. World Trade Organization (WTO)
- e. Answer not known

சுற்றுச்சூழல், வனம் மற்றும் காலநிலை மாற்ற அமைச்சகம் (MoEF&CC) பின்வரும் எந்த சர்வதேச அமைப்புக்கான ஒருங்கிணைப்பு முகமையாக செயல்படுகிறது?

- a. உலக சுகாதார அமைப்பு (WHO)
- b. ஐக்கிய நாடுகளின் சுற்றுச்சூழல் திட்டம் (UNEP)
- c. சர்வதேச நாணய நிதியம் (IMF)
- d. உலக வர்த்தக அமைப்பு (WTO)
- e. விடை தெரியவில்லை

132. The reintroduction of wild cheetahs into India aims to:
- Increase the tiger population.
 - Restore open forest and grassland ecosystems.
 - Promote ecotourism in Madhya Pradesh.
 - Study the behaviour of African wildlife in Indian conditions.
 - Answer not known
- காட்டு சிறுத்தைகளை இந்தியாவிற்குள் மீண்டும் அறிமுகப்படுத்துவது பின்வருவனவற்றை நோக்கமாகக் கொண்டுள்ளது:
- புலிகளின் எண்ணிக்கையை அதிகரித்தல்.
 - திறந்த காடுகள் மற்றும் புல்வெளி சுற்றுச்சூழல் அமைப்புகளை மீட்டெடுத்தல்.
 - மத்தியப் பிரதேசத்தில் சுற்றுச்சூழல் சுற்றுலாவை ஊக்குவித்தல்.
 - இந்திய நிலைமைகளில் ஆப்பிரிக்க வனவிலங்குகளின் நடத்தையை ஆய்வு செய்தல்.
 - விடை தெரியவில்லை
133. Evaluate the following statements regarding various environmental regulations:
- The Plastic Waste Management Rules, 2016, include a minimum thickness of 50 microns for plastic carry bags.
 - The Basel Convention deals with the control of transboundary movements of hazardous wastes.
 - The Rotterdam Convention includes 47 chemicals that have been banned or severely restricted.
 - The Hazardous Waste (Management, Handling & Transboundary Movement) Rules, 2008, were notified under the Environment (Protection) Act, 1986.
- All statements are correct
 - Only 1, 2, and 3 are correct
 - Only 2, 3, and 4 are correct
 - Only 1, 3, and 4 are correct
 - Answer not known
- பல்வேறு சுற்றுச்சூழல் விதிமுறைகள் தொடர்பான பின்வரும் அறிக்கைகளை மதிப்பிடுங்கள்:
- பிளாஸ்டிக் கழிவு மேலாண்மை விதிகள், 2016, பிளாஸ்டிக் கேரி பேக்குகளுக்கு குறைந்தபட்சம் 50 மைக்ரான் தடிமன் உள்ளடக்கியது.
 - பேசல் மாநாடு அபாயகரமான கழிவுகளின் எல்லை தாண்டிய இயக்கங்களைக் கட்டுப்படுத்துவதைக் கையாள்கிறது.
 - ரோட்டர்டாம் மாநாட்டில் தடைசெய்யப்பட்ட அல்லது கடுமையாக கட்டுப்படுத்தப்பட்ட 47 இரசாயனங்கள் உள்ளன.
 - அபாயகரமான கழிவுகள் (மேலாண்மை, கையாளுதல் மற்றும் எல்லை தாண்டிய இயக்கம்) விதிகள், 2008, சுற்றுச்சூழல் (பாதுகாப்பு) சட்டம், 1986 இன் கீழ் அறிவிக்கப்பட்டன.
- அனைத்து கூற்றுகளும் சரி
 - 1, 2 மற்றும் 3 மட்டுமே சரி
 - 2, 3 மற்றும் 4 மட்டுமே சரி
 - 1, 3 மற்றும் 4 மட்டுமே சரி
 - விடை தெரியவில்லை
134. Arrange the following rivers in order of their longest length
- Ganga
 - Godavari
 - Yamuna
 - Krishna
- 1, 2, 4, 3
 - 2, 1, 3, 4
 - 1, 4, 2, 3
 - 4, 2, 1, 3
 - Answer not known
- பின்வரும் நதிகளை அவற்றின் மிக நீளமான நீளத்தின் வரிசையில் வரிசைப்படுத்துங்கள்
- கங்கை
 - கோதாவரி
 - யமுனை
 - கிருஷ்ணா
- 1, 2, 4, 3
 - 2, 1, 3, 4
 - 1, 4, 2, 3
 - 4, 2, 1, 3
 - விடை தெரியவில்லை

	a	b	c	d
A.	2	5	3	1
B.	3	1	4	5
C.	2	1	3	5
D.	3	5	4	1

138. Which Committee recommended for Bhartiya Mahila Bank?

- A. C.E.Kamath Committee
B. Gadgil Committee
C. D.R. Mehta Committee
D. M.B.N. Rao Committee

பாரதீய மகிலா வங்கியினை பரிந்துரை செய்த குழு எது?

- A. C.E. காமத் குழு
B. காட்கில் குழு
C. D.R. மேத்தா குழு
D. M.B.N. ராவ் குழு

139. Match the following

- a. WhatsApp
b. Twitter
c. Instagram
d. Android
1. Biz Stone
2. Andy Rubin
3. Brian Acton
4. Kevin Systrom

	a	b	c	d
A.	3	4	2	1
B.	2	3	1	4
C.	3	1	2	4
D.	3	1	4	2

பொருத்துக

- a. வாட்ஸ்ஆப்
b. ட்வீட்டர்
c. இன்ஸ்டாகிராம்
d. ஆன்டிராய்டு
1. பிஸ் ஸ்டோன்
2. ஆன்டி ரூபின்
3. பிரைன் ஆக்டான்
4. கெவின் ஸ்டோர்ம்

	a	b	c	d
A.	3	4	2	1
B.	2	3	1	4
C.	3	1	2	4
D.	3	1	4	2

140. Match the following

- A. National Remote Sensing Agency
B. ISRO Space Application Centre
C. ISRO Satellite Centre
D. ISRO Inertial systems unit
E. National Atmospheric Research Laboratory
1. Thiruvananthapuram
2. Ahmedabad
3. Hyderabad
4. Bengaluru
5. Gadanki

	A	B	C	D	E
a.	3	2	4	1	5
b.	1	3	2	5	4
c.	2	5	3	4	1
d.	5	4	1	2	3

பொருத்துக

- A. தேசிய தொலையுணர்தல் மையம்
B. ISRO விண்வெளிப் பயன்பாடுகள் மையம்
C. ISRO செயற்கைகோள் மையம்
D. ISRO நிலைம அமைப்புகள் மையம்
E. தேசிய வளிமண்டல ஆராய்ச்சி ஆய்வகம்

1. திருவனந்தபுரம்
2. அகமதாபாத்
3. ஹைதராபாத்
4. பெங்களூரு
5. காடங்கி

	A	B	C	D	E
a.	3	2	4	1	5
b.	1	3	2	5	4
c.	2	5	3	4	1
d.	5	4	1	2	3

141. Choose the incorrect pair.

- a. Officers Training Academy - Chennai
b. National Defence College - Secunderabad
c. National Defence Academy - Khadakwasla
d. Indian Military Academy - Dehradun
தவறான இணையைக் காண்க
a. அதிகாரிகள் பயிற்சிக் கழகம் - சென்னை
b. தேசிய பாதுகாப்பு கல்லூரி - செகந்திராபாத்
c. தேசிய பாதுகாப்பு கழகம் - கடக்வாஸ்லா
d. இந்திய இராணுவக் கழகம் - டெஹ்ராடூன்

142. Match the following

- A. The Discovery of India
B. The Bird of Time
C. India wins Freedom
D. Wake up India
E. The Indian Struggle
1. Abul Kalam Azad
2. Jawaharlal Nehru
3. Subash Chandra Bose
4. Sarojini Naidu
5. Annie Besant

	A	B	C	D	E
a.	2	4	1	5	3
b.	1	2	3	4	5
c.	3	5	4	2	1
d.	5	1	2	4	3

பொருத்துக

- A. The Discovery of India
B. The Bird of Time
C. India wins Freedom
D. Wake up India
E. The Indian Struggle
1. அபுல் கலாம் ஆசாத்
2. ஜவஹர்லால் நேரு
3. சுபாஷ் சந்திர போஸ்
4. சரோஜினி நாயுடு
5. அன்னி பெசன்ட்

	A	B	C	D	E
a.	2	4	1	5	3
b.	1	2	3	4	5
c.	3	5	4	2	1
d.	5	1	2	4	3

143. Choose the incorrect pair
- | | | |
|---------------------------------|---|-------------|
| a. National Press Day | - | November 16 |
| b. National Sports Day | - | August 29 |
| c. National Technology Day | - | May 11 |
| d. National Consumer Rights Day | - | March 15 |

தவறான இணையைக் காண்க

- | | | |
|-----------------------------------|---|------------|
| a. தேசிய பத்திரிக்கை தினம் | - | நவம்பர் 16 |
| b. தேசிய விளையாட்டுகள் தினம் | - | ஆகஸ்ட் 29 |
| c. தேசிய தொழில்நுட்பம் தினம் | - | மே 11 |
| d. தேசிய நுகர்வோர் உரிமைகள் தினம் | - | மார்ச் 15 |

144. Which of the following is not headquartered in Chennai?

- National Biodiversity Authority
- Centre for Wind Energy Technology
- Institute for Empowerment of Persons with Multiple Disabilities
- Animal Welfare Board of India

எதனுடைய தலைமையகம் சென்னையில் இல்லை?

- தேசிய பல்லுயிர்ப்பரவல் ஆணையம்
- காற்றாற்றல் தொழில்நுட்பம் மையம்
- பல குறைபாடுகள் கொண்டவர்களை மேம்படுத்துதலுக்கான நிறுவனம்
- இந்திய விலங்குகள் நல வாரியம்

145. Match the following

- | | |
|-----------------|-------------------------|
| A. Deena bandhu | 1. C R Das |
| B. Desha bandhu | 2. Madan Mohan Malaviya |
| C. Man of Peace | 3. CF Andrews |
| D. Mahamana | 4. Lal Bahadur Shastri |

- | | A | B | C | D |
|----|---|---|---|---|
| a. | 1 | 2 | 3 | 4 |
| b. | 4 | 3 | 2 | 1 |
| c. | 2 | 4 | 1 | 3 |
| d. | 3 | 1 | 4 | 2 |

பொருத்துக

- | | |
|------------------------|-------------------------|
| A. தீனபந்து | 1. C.R. தாஸ் |
| B. தேசபந்து | 2. மதன் மோகன் மாலவியா |
| C. சமாதானத்தின் மனிதன் | 3. CF ஆண்டிரியூஸ் |
| D. மஹாமனா | 4. லால் பகதூர் சாஸ்திரி |

- | | A | B | C | D |
|----|---|---|---|---|
| a. | 1 | 2 | 3 | 4 |
| b. | 4 | 3 | 2 | 1 |
| c. | 2 | 4 | 1 | 3 |
| d. | 3 | 1 | 4 | 2 |

146. Match the following

- | | |
|--|-------------------------|
| A. First Woman Minister in Government | 1. Sucheta Kripalani |
| B. First Woman Judge in SC | 2. Rajkumari Amrit Kaur |
| C. First Woman CJ of HC | 3. Sarojini Naidu |
| D. First Woman CM of an Indian State | 4. Fathima Beebi |
| E. First Woman Governor of a State in free India | 5. Leela Seth |

	A	B	C	D	E
a.	1	2	3	4	5
b.	2	4	5	1	3
c.	5	4	3	2	1
d.	3	1	5	4	2

பொருத்துக

A. அரசின் முதல் பெண் அமைச்சர்

B. உச்சநீதிமன்றத்தின் முதல் பெண் நீதிபதி

C. உயர்நீதிமன்றத்தின் முதல் பெண் தலைமை நீதிபதி

D. ஒரு இந்திய மாநிலத்தின் முதல் பெண் முதலமைச்சர்

E. சுதந்திர இந்தியாவில் ஒரு மாநிலத்தின் முதல் பெண் ஆளுநர்

1. சுச்சேத்தா கிருபளானி

2. ராஜ்குமாரி அம்ரித் கௌர்

3. சரோஜினி நாயுடு

4. பாத்திமா பீபி

5. லீலா சேத்

	A	B	C	D	E
a.	1	2	3	4	5
b.	2	4	5	1	3
c.	5	4	3	2	1
d.	3	1	5	4	2

147. Match the following

A. Land of Morning Calm

B. Land of Midnight Sun

C. Land of Thunder bolt

D. Land of Golden Pagoda

E. Land of Golden Fleece

1. Myanmar

2. Australia

3. South Korea

4. Norway

5. Bhutan

	A	B	C	D	E
a.	3	4	5	1	2
b.	5	4	3	2	1
c.	1	2	3	4	5
d.	2	1	5	3	4

பொருத்துக

A. காலை அமைதி நாடு

B. நள்ளிரவில் சூரியன் உதிக்கும் நாடு

C. இடி மின்னல்கள் நாடு

D. தங்க பகோடா நாடு

E. தங்க கொள்ளை நாடு

1. மியான்மர்

2. ஆஸ்திரேலியா

3. தென் கொரியா

4. நார்வே

5. பூட்டான்

	A	B	C	D	E
a.	3	4	5	1	2
b.	5	4	3	2	1
c.	1	2	3	4	5
d.	2	1	5	3	4

148. Match the following

A. Black revolution

B. Grey revolution

C. Silver revolution

D. Golden revolution

E. Yellow revolution

1. Petroleum

2. Fertilizer

3. Egg

4. Horticulture

5. Oil Seeds

	A	B	C	D	E
a.	5	4	3	2	1
b.	4	5	1	3	2
c.	4	1	2	5	3
d.	1	2	3	4	5

பொருத்துக

A. கருப்பு புரட்சி	1. பெட்ரோலியம்
B. சாம்பல் புரட்சி	2. உரம்
C. வெள்ளி புரட்சி	3. முட்டை
D. தங்கப் புரட்சி	4. தோட்டக்கலை
E. மஞ்சள் புரட்சி	5. எண்ணெய் விதைகள்

	A	B	C	D	E
a.	5	4	3	2	1
b.	4	5	1	3	2
c.	4	1	2	5	3
d.	1	2	3	4	5

149. Choose the correct pair.

a. UN Conference on Human Environment	- 1975
b. UN Conference on Sustainable Development	- 2013
c. UN Climate Change Conference	- 2014
d. Earth Summit	- 1991

சரியான இணையைக் காண்க

a. மனித சுற்றுச்சூழல் பற்றிய ஐ.நா. மாநாடு	- 1975
b. நீடித்த மேம்பாடு பற்றிய ஐ.நா. மாநாடு	- 2013
c. ஐ.நா.வின் காலநிலை மாற்றம் மாநாடு	- 2014
d. புவி உச்சி மாநாடு	- 1991

150. Match the following

பொருத்துக

A. TNEB	1. 1957
B. TNHB	2. 1961
C. TASMAL	3. 1983
D. TWAD	4. 1971

	A	B	C	D
a.	2	1	4	3
b.	1	2	3	4
c.	3	4	1	2
d.	4	3	2	1

151. Match the following

A. Basket ball	1. USA
B. Foot ball	2. England
C. Tennis	3. France
D. Chess	4. India

	A	B	C	D
a.	1	2	3	4
b.	2	1	4	3
c.	3	4	1	2
d.	4	3	2	1

பொருத்துக

A.	கூடைப்பந்து	1.	அமெரிக்கா
B.	கால்பந்து	2.	இங்கிலாந்து
C.	டென்னிஸ்	3.	பிரான்சு
D.	சதுரங்கம்	4.	இந்தியா

	A	B	C	D
a.	1	2	3	4
b.	2	1	4	3
c.	3	4	1	2
d.	4	3	2	1

152. South-South dialogue is associated with
- Cooperation among developing nations
 - Arms Conference
 - Summit meeting between developed and developing countries
 - All of these

தெற்கு –தெற்கு பேச்சுவார்த்தையுடன் தொடர்புடையது

- வளரும் நாடுகளுக்கிடையே கூட்டுறவு
- ஆயுத மாநாடு
- வளர்ந்த மற்றும் வளரும் நாடுகளுக்கிடையே நடைபெற்ற மாநாடு
- இவை அனைத்தும்

153. Match the following

List I

Month

- Chaitra
- Vaishakha
- Jyaishtha
- Ashadha

List II

Start Date

- May 22
- March 22
- June 22
- April 21

	a	b	c	d
A.	2	4	1	3
B.	2	1	4	3
C.	4	2	1	3
D.	1	2	3	4

பொருத்துக

பட்டியல் 1 (மாதம்)

- சைத்ரா
- வைசாகா
- ஜையஸ்தா
- அஸாதா

பட்டியல் 2 (தொடங்கும் நாள்)

- மே 22
- மார்ச் 22
- ஜூன் 22
- ஏப்ரல் 21

	a	b	c	d
A.	2	4	1	3
B.	2	1	4	3
C.	4	2	1	3
D.	1	2	3	4

154. Match the following

- a. National Animal
b. National Aquatic animal
c. National bird
d. National Flower

1. Dolphin
2. Nelumbo Lucifera
3. Pavo Cristatus
4. Panthera Tigris

	a	b	c	d
A.	2	1	3	4
B.	4	2	3	1
C.	4	1	3	2
D.	3	1	4	2

கீழ்க்கண்டவற்றை பொருத்துக

- a. தேசிய விலங்கு
b. தேசிய நீர்வாழ் விலங்கு
c. தேசிய பறவை
d. தேசிய மலர்

1. டால்பின்
2. நெலும்போ லூசிபெரா
3. பவோ கிரிஸ்டட்டஸ்
4. பான்ந்தரா டைகிரிஸ்

	a	b	c	d
A.	2	1	3	4
B.	4	2	3	1
C.	4	1	3	2
D.	3	1	4	2

155. Match the following

- State
a. West Bengal
b. Uttarkhand
c. Nagaland
d. Himachal Pradesh

- Wild life Sanctuary /N.S
1. Intanki Wild Life Sanctuary
2. Pin Valley National Park
3. Buxa tiger reserve
4. Valley of flowers N.S

	a	b	c	d
A.	3	4	1	2
B.	3	1	4	2
C.	1	2	3	4
D.	4	1	3	2

பொருத்துக

மாநிலம்

- a. மேற்கு வங்காளம்
b. உத்தரகாண்ட்
c. நாகலாந்து
d. இமாச்சல பிரதேசம்

வனவிலங்கு சரணாலயம் / தேசிய வனவிலங்கு சரணாலயம்

1. இன்டான்கி வனவிலங்கு சரணாலயம்
2. ஊசி பள்ளத்தாக்கு தேசிய பூங்கா
3. பக்ஸா புலிகள் சரணாலயம்
4. பூக்கள் பள்ளத்தாக்கு தேசிய சரணாலயம்

a	b	c	d
A.3	4	1	2
B.3	1	4	2
C.1	2	3	4
D.4	1	3	2

156. Which of the following pair is correctly matched?

- A. Mizoram - Dampa tiger reserve
 B. Punjab - Sariska Tiger reserve
 C. Kerala - Mudumalai N.P
 D. Madhyapradesh - Dudhwa N.P

பின்வருவனவற்றில் எது சரியாக பொருத்தப்பட்டுள்ளது?

- A. மிசோரம் - தம்பா புலிகள் சரணாலயம்
 B. பஞ்சாப் - சரிஸ்கா புலிகள் சரணாலயம்
 C. கேரளா - முதுமலை தேசிய வனவிலங்கு சரணாலயம்
 D. மத்தியபிரதேசம் - தூத்வா தேசிய வனவிலங்கு சரணாலயம்

157. Match the following

- a. Todas 1. Andaman Nicobar
 b. Shompens 2. Himachal Pradesh
 c. Gaddis 3. Nilgiris
 d. Khasis 4. Meghalaya

a	b	c	d
A.1	4	2	3
B.1	2	3	4
C.3	1	2	4
D.1	4	3	2

பொருத்துக

- a. தோடர்கள் 1. அந்தமான் நிக்கோபார்
 b. சாம்பன்கள் 2. இமாசல பிரதேசம்
 c. காட்டிகள் 3. நீலகிரி
 d. காசிகள் 4. மேகாலயா

a	b	c	d
A.1	4	2	3
B.1	2	3	4
C.3	1	2	4
D.1	4	3	2

158. Arrange the following states in the order of their decreasing size:

- A. Rajasthan B. Maharashtra
 C. Uttar Pradesh D. Madhya Pradesh
 a. A-D-B-C b. A-C-D-B c. D-A-B-C
 d. C-A-B-D e. Answer not known

பின்வரும் மாநிலங்களை அவற்றின் அளவினை வைத்து இறங்குவரிசையில் வரிசைப்படுத்துக

- A. ராஜஸ்தான் B. மகாராட்டிரா
 C. உத்தரப் பிரதேசம் D. மத்தியப் பிரதேசம்
 a. A-D-B-C b. A-C-D-B c. D-A-B-C
 d. C-A-B-D e. விடை தெரியவில்லை

159. Which of the following statements is/are correct about the Indian National Flag?
1. The saffron color signifies renunciation of disinterestedness.
 2. The flag was adopted by the Constituent Assembly on July 22, 1947.
 3. The ratio of the width to the length of the flag is 1:2.
- a. (1) and (2) b. (1) and (3) c. (2) and (3)
d. (1), (2), and (3) e. Answer not known
- இந்திய தேசியக் கொடியைப் பற்றிய பின்வரும் கூற்றுகளில் எது சரியானது?
1. காவி நிறம் துறவு அல்லு ஆர்வமின்மையைக் குறிக்கிறது
 2. ஜூலை 22, 1947 அன்று அரசியலமைப்புச் சபையால் கொடி ஏற்றுக்கொள்ளப்பட்டது.
 3. கொடியின் அகலத்திற்கும் நீளத்திற்கும் உள்ள விகிதம் 1:2.
- a. (1) மற்றும் (2) b. (1) மற்றும் (3) c. (2) மற்றும் (3)
d. (1), (2), மற்றும் (3) e. விடை தெரியவில்லை
160. Match the following
- | | |
|---------------------------------------|----------------------|
| A. National Anthem adoption date | 1. March 22, 1957 |
| B. First sung date of National Anthem | 2. January 24, 1950 |
| C. Adoption of the Saka Era | 3. December 27, 1911 |
| D. Design adoption of National Flag | 4. July 22, 1947 |
| E. Flag Code of India effective date | 5. January 26, 2002 |
- | | | | | |
|------|---|---|---|---|
| A | B | C | D | E |
| a. 2 | 4 | 1 | 3 | 5 |
| b. 2 | 3 | 1 | 4 | 5 |
| c. 4 | 2 | 5 | 1 | 3 |
| d. 5 | 3 | 2 | 4 | 1 |
- e. Answer not known
- பின்வருவனவற்றைப் பொருத்துக
- | | |
|--|----------------------|
| A. தேசிய கீதம் ஏற்றுக்கொள்ளப்பட்ட தேதி | 1. மார்ச் 22, 1957 |
| B. தேசிய கீதம் முதன்முதலில் பாடப்பட்ட தேதி | 2. ஜனவரி 24, 1950 |
| C. சக சகாப்தம் ஏற்றுக்கொள்ளப்பட்ட நாள் | 3. டிசம்பர் 27, 1911 |
| D. தேசியக் கொடி வடிவமைப்பு ஏற்றுக்கொள்ளப்பட்ட நாள் | 4. ஜூலை 22, 1947 |
| E. இந்தியக் கொடி குறியீடு அமலுக்கு வந்த தேதி | 5. ஜனவரி 26, 2002 |
- | | | | | |
|------|---|---|---|---|
| A | B | C | D | E |
| a. 2 | 4 | 1 | 3 | 5 |
| b. 2 | 3 | 1 | 4 | 5 |
| c. 4 | 2 | 5 | 1 | 3 |
| d. 5 | 3 | 2 | 4 | 1 |
161. Arrange the following offices in chronological order of their establishment
1. National Centre for Good Governance.
 2. National Authority for Chemical Weapons Convention.
 3. Directorate of Public Grievances.
 4. National e-Vidhan Application.
- a. 3-2-1-4 b. 2-3-1-4 c. 3-1-2-4
d. 2-3-4-1 e. Answer not known
- பின்வரும் அலுவலகங்களை காலவரிசைப்படுத்துக
1. நல்லாட்சிக்கான தேசிய மையம்.
 2. இரசாயன ஆயுதங்களுக்கான தேசிய ஆணையம்.
 3. பொது குறைகள் இயக்குநரகம்.
 4. தேசிய மின்-விதான் விண்ணப்பம்.

- a. 3-2-1-4 b. 2-3-1-4 c. 3-1-2-4
d. 2-3-4-1 e. விடை தெரியவில்லை

162. Arrange the following in the order of their constitutional importance:

1. President of India. 2. Prime Minister of India.
3. Chief Justice of India. 4. Speaker of the Lok Sabha.

- a. 1-2-3-4 b. 1-2-4-3 c. 1-3-2-4
d. 1-4-2-3 e. Answer not known

பின்வருவனவற்றை அவற்றின் அரசியலமைப்பு முக்கியத்துவத்தின் வரிசையில் வரிசைப்படுத்துங்கள்:

1. இந்திய ஜனாதிபதி 2. இந்திய பிரதமர்.
3. இந்திய தலைமை நீதிபதி 4. மக்களவை சபாநாயகர்.

- a. 1-2-3-4 b. 1-2-4-3 c. 1-3-2-4
d. 1-4-2-3 e. விடை தெரியவில்லை

163. As of 2021, which of the following is not a function of the National Disaster Management Authority?

- a. Formulating policies for disaster management
b. Auditing disaster management funds
c. Ensuring effective response to disasters
d. Spearheading disaster management strategies
e. Answer not known

2021 நிலவரப்படி, பின்வருவனவற்றில் எது தேசிய பேரிடர் மேலாண்மை ஆணையத்தின் செயல்பாடு அல்ல?

- a. பேரிடர் மேலாண்மைக்கான கொள்கைகளை உருவாக்குதல்
b. பேரிடர் மேலாண்மை நிதிகளைத் தணிக்கை செய்தல்
c. பேரிடர்களுக்கு பயனுள்ள பதிலை உறுதி செய்தல்
d. பேரிடர் மேலாண்மை உத்திகளை முன்னின்று நடத்துதல்
e. விடை தெரியவில்லை

164. Match the following Defence Ministries with their specific responsibilities:

- A. Department of Military Affairs 1. Research and Development
B. Department of Defence Production 2. Policy Framework for Armed Forces
C. Department of Ex-Servicemen Welfare 3. Resettlement and Welfare of Ex-Servicemen
D. Department of Defence 4. Production of Defence Equipment

- A B C D
a. 1 4 3 2
b. 2 1 4 3
c. 3 2 1 4
d. 4 3 2 1

e. Answer not known

பின்வரும் பாதுகாப்பு அமைச்சகங்களை அவற்றின் குறிப்பிட்ட பொறுப்புகளுடன் பொருத்துங்கள்:

- A. இராணுவ விவகாரத் துறை 1. ஆராய்ச்சி மற்றும் மேம்பாட்டுத் துறை
B. பாதுகாப்பு உற்பத்தித் துறை 2. ஆயுதமேந்திய கொள்கை கட்டமைப்பு படைகள்
C. முன்னாள் படைவீரர் நலத் துறை 3. முன்னாள் படைவீரர்களின் மீள்குடியேற்றம் மற்றும் நலன்
D. பாதுகாப்புத் துறை 4. பாதுகாப்பு உபகரணங்களின் உற்பத்தி

	A	B	C	D
a.	1	4	3	2
b.	2	1	4	3
c.	3	2	1	4
d.	4	3	2	1

165. Identify the incorrect statements regarding the Indian Defence Forces:
1. The Indian Navy's INS Vikrant is a nuclear-powered aircraft carrier.
 2. The Territorial Army in India is exclusively for combat roles.
 3. The Chief of Defence Staff is the direct commander of the Indian Armed Forces.
 4. The Directorate of Standardisation was established post-2000.
- Which of the above statements is/are incorrect?

- a. 1 and 2 only b. 2 and 3 only c. 3 and 4 only
d. All of the above e. Answer not known

இந்திய பாதுகாப்புப் படைகள் தொடர்பான தவறான கூற்றுகளை தேர்க:

1. இந்திய கடற்படையின் INS விக்ரான்ட் அணுசக்தியால் இயங்கும் விமானம் தாங்கி கப்பல்.
 2. இந்தியாவில் பிராந்திய இராணுவம் போர்ப் பணிகளுக்கு மட்டுமே.
 3. பாதுகாப்புப் படைத் தலைவர் இந்திய ஆயுதப் படைகளின் நேரடித் தளபதியாவார்.
 4. தரப்படுத்தல் இயக்குநரகம் 2000 ஆம் ஆண்டுக்குப் பிறகு நிறுவப்பட்டது.
- a. 1 மற்றும் 2 மட்டும் b. 2 மற்றும் 3 மட்டும் c. 3 மற்றும் 4 மட்டும்
d. மேற்கூறிய அனைத்தும் e. விடை தெரியவில்லை

166. Which Act was amended and renamed in 1976 as the Protection of Civil Rights Act, 1955?

- a. Civil Rights Act, 1952
b. Untouchability (Offences) Act, 1955
c. Scheduled Castes and Scheduled Tribes Act, 1965
d. Civil Liberties Act, 1964
e. Answer not known

எந்தச் சட்டம் 1976 இல் திருத்தப்பட்டு சிவில் உரிமைகள் பாதுகாப்புச் சட்டம், 1955 என மறுபெயரிடப்பட்டது?

- a. சிவில் உரிமைகள் சட்டம், 1952
b. தீண்டாமை (குற்றங்கள்) சட்டம், 1955
c. பட்டியல் இன மற்றும் பட்டியல் பழங்குடியினர் சட்டம், 1965
d. குடிமை உரிமைகள் சட்டம், 1964
e. விடை தெரியவில்லை

167. Consider the following statements:

1. The National Commission for Minorities became a statutory body with the enactment of the National Commission for Minorities Act, 1992.
2. The National Commission for Religious and Linguistic Minorities was set up in 1957.

Which of the above statements is/are correct?

- a. Only 1 b. Only 2 c. Both 1 and 2
d. Neither 1 nor 2 e. Answer not known

பின்வரும் கூற்றுகளைக் கவனியுங்கள்:

1. தேசிய சிறுபான்மையினர் ஆணையச் சட்டம், 1992 இயற்றப்பட்டதன் மூலம் தேசிய சிறுபான்மையினர் ஆணையம் ஒரு சட்டப்பூர்வ அமைப்பாக மாறியது.
2. மத மற்றும் மொழி சிறுபான்மையினருக்கான தேசிய ஆணையம் 1957 இல் அமைக்கப்பட்டது.

மேற்கண்ட கூற்றுகளில் எவை சரியானவை?

- a. 1 மட்டும்
- b. 2 மட்டும்
- c. 1 மற்றும் 2 இரண்டும்
- d. இரண்டும் இல்லை
- e. விடை தெரியவில்லை

168. Identify the incorrect statement(s) about the schemes and policies for child welfare:

1. The National Commission for Protection of Child Rights (NCPCR) was established under the Societies Registration Act, 1860.
 2. The National Early Childhood Care and Education (NECCE) Policy was launched in 2015.
 3. The Protection of Children from Sexual Offences (POCSO) Act defines a child as any person below the age of 16 years.
- a. 1 and 2 only
 - b. 2 and 3 only
 - c. 1 and 3 only
 - d. 1, 2, and 3
 - e. Answer not known

குழந்தைகள் நலனுக்கான திட்டங்கள் மற்றும் கொள்கைகள் பற்றிய தவறான கூற்றுகளை தேர்வு

1. தேசிய குழந்தை உரிமைகள் பாதுகாப்பு ஆணையம் (NCPCR) சங்கங்கள் பதிவுச் சட்டம், 1860 இன் கீழ் நிறுவப்பட்டது.
 2. தேசிய ஆரம்பகால குழந்தைப் பருவ பராமரிப்பு மற்றும் கல்வி (NECCE) கொள்கை 2015 இல் தொடங்கப்பட்டது.
 3. பாலியல் குற்றங்களிலிருந்து குழந்தைகளைப் பாதுகாத்தல் (POCSO) சட்டம் ஒரு குழந்தையை 16 வயதுக்குட்பட்ட எந்தவொரு நபராகவும் வரையறுக்கிறது.
- a. 1 மற்றும் 2 மட்டும்
 - b. 2 மற்றும் 3 மட்டும்
 - c. 1 மற்றும் 3 மட்டும்
 - d. 1, 2, மற்றும் 3
 - e. விடை தெரியவில்லை

169. What was the inaugural route of the Vande Bharat Express, formerly known as Train 18?

- a. Mumbai to Ahmedabad
- b. New Delhi to Varanasi
- c. Kolkata to Delhi
- d. Chennai to Bengaluru
- e. Answer not known

முன்னர் ரயில் 18 என்று அழைக்கப்பட்ட வந்தே பாரத் எக்ஸ்பிரஸின் முதல் பயணப் பாதை எது?

- a. மும்பை முதல் அகமதாபாத் வரை
- b. புது தில்லி முதல் வாரணாசி வரை
- c. கொல்கத்தா முதல் டெல்லி வரை
- d. சென்னை முதல் பெங்களூரு வரை
- e. விடை தெரியவில்லை

170. Match the following rail-related organisations with their functions:

- | | |
|----------|-------------------------------------|
| A. RITES | 1. Catering Services |
| B. IRCON | 2. Rail Infrastructure Development |
| C. IRCTC | 3. Consultancy in Technical Matters |
| D. RDSO | 4. Financial Services |

- | | | | |
|------|---|---|---|
| A | B | C | D |
| a. 3 | 2 | 1 | 4 |
| b. 4 | 1 | 3 | 2 |
| c. 1 | 2 | 4 | 3 |
| d. 2 | 4 | 1 | 3 |

e. Answer not known

பின்வருவனவற்றை தோற்றுவித்தலின் அடிப்படையில் காலவரிசைப்படுத்துக

A. மத்திய நீர் ஆணையம்

B. கங்கை வெள்ளக் கட்டுப்பாட்டு ஆணையம்

C. தேசிய நீர்வளவியல் நிறுவனம்

D. தேசிய நீர் மேம்பாட்டு நிறுவனம்

a. A, B, C, D

b. D, C, B, A

c. B, A, D, C

d. C, A, B, D

e. விடை தெரியவில்லை

174. Arrange the following awards based on the cash prize amount, from highest to lowest:

A. Major Dhyan Chand Khel Ratna Award

B. Arjuna Award

C. Dronacharya Award

D. Dhyan Chand Award for Lifetime Achievement

a. A, B, C, D

b. A, C, B, D

c. D, C, B, A

d. B, A, D, C

e. Answer not known

அதிகபட்சம் முதல் குறைந்தபட்சம் வரை ரொக்கப் பரிசுத் தொகையின் அடிப்படையில் பின்வரும் விருதுகளை வரிசைப்படுத்துங்கள்:

A. மேஜர் தயான் சந்த் கேல் ரத்னா விருது

B. அர்ஜுனா விருது

C. துரோணாச்சார்யா விருது

D. வாழ்நாள் சாதனையாளருக்கான தயான் சந்த் விருது

a. A, B, C, D

b. A, C, B, D

c. D, C, B, A

d. B, A, D, C

e. விடை தெரியவில்லை

175. India signed the Kyoto Protocol on

a. 1997

b. 1999

c. 2002

d. 2004

இந்தியா கியூட்டோ ஒப்பந்தத்தில் கையெழுத்திட்ட ஆண்டு

a. 1997

b. 1999

c. 2002

d. 2004

176. Siva Kumar is 7 times as old as his daughter Preethi. After 5 years he will be 4 times as old as his daughter. What are their present ages?

a. 5, 35

b. 6, 36

c. 7, 42

d. 4, 32

e. Answer not known

சிவகுமாரின் வயது அவரது மகள் பிரீத்தியின் வயதைப் போல 7 மடங்கு ஆகும். 5 ஆண்டுகளுக்குப் பின்னர் அவர் வயது மகளின் வயதைப் போல 4 மடங்கு இருக்கும். அவர்களின் தற்போதைய வயது என்ன?

a. 5, 35

b. 6, 36

c. 7, 42

d. 4, 32

e. விடை தெரியவில்லை

177. The probability a red marble selected at a random from a Jar containing p red, q blue and "r" green marble is

a. $\frac{q}{p+q+r}$

b. $\frac{p}{p+q+r}$

c. $\frac{p+q}{p+q+r}$

d. $\frac{p+r}{p+q+r}$

e. Answer not known

p - சிவப்பு, q- நீலம், r- பச்சை நிறக் கூழாங்கற்கள் உள்ள ஒரு குடுவையில் இருந்து ஒரு சிவப்புநிற கூழாங்கல் கிடைப்பதற்கான நிகழ்தகவானது

a. $\frac{q}{p+q+r}$

b. $\frac{p}{p+q+r}$

c. $\frac{p+q}{p+q+r}$

d. $\frac{p+r}{p+q+r}$

e. விடை தெரியவில்லை

178. Ages of two persons are in the ratio 1:3, product of their ages is 48. What is the difference of ages?
 a. 2 b. 12 c. 8 d. 4 e. Answer not known
 இரு நபர்களின் வயதுகளின் விகிதம் 1:3, வயதுகளின் பெருக்கற்பலன் 48 எனில் அவர்களின் வயதுகளின் வித்தியாசம் என்ன?
 a. 2 b. 12 c. 8 d. 4 e. விடை தெரியவில்லை
179. Vani, her father and her grand father have an average age of 53. One-half of her grand father's age plus one-third of her father's age plus one fourth of Vani's age is 65. If 4 years ago Vani's grandfather was four times as old as Vani then how old are they all now?
 தாத்தா, தந்தை மற்றும் வாணி ஆகிய மூவரின் சராசரி வயது 53. தாத்தாவின் வயதில் பாதி. தந்தையின் வயதில் மூன்றில் ஒரு பங்கு மற்றும் வாணியின் வயதில் நான்கில் ஒரு பங்கு ஆகியவற்றின் கூடுதல் 65. நான்கு ஆண்டுகளுக்கு முன் தாத்தாவின் வயது வாணியின் வயதைப்போல் நான்கு மடங்கு எனில் மூவரின் தற்போதைய வயதைக் காண்க?
 a. 84, 51, 24 b. 90, 60, 30 c. 78, 45, 18 d. 72, 39, 18
180. In tossing a fair coin twice, find the probability of getting atleast one head.
 a. $\frac{1}{4}$ b. $\frac{1}{2}$ c. $\frac{3}{4}$ d. 1 e. Answer not known
 ஒரு சீரான நாணயம் இரண்டு முறை சுண்டப்படுகிறது. குறைந்தது ஒரு தலை கிடைக்க நிகழ்தகவினைக் காண்க.
 a. $\frac{1}{4}$ b. $\frac{1}{2}$ c. $\frac{3}{4}$ d. 1 e. விடை தெரியவில்லை
181. In a single throw of a die, what is the probability of getting a prime number?
 a. 1 b. $\frac{1}{2}$ c. $\frac{2}{3}$ d. 0 e. Answer not known
 ஒரு பகடை உருட்டப்படும் பொழுது பகடையின் முக எண். பகா எண்ணாக இருக்க நிகழ்தகவு யாது?
 a. 1 b. $\frac{1}{2}$ c. $\frac{2}{3}$ d. 0 e. விடை தெரியவில்லை
182. The total of the ages of Jayanth, Prem and Saran is 93 years. Ten years ago, the ratio of their ages was 2 : 3 : 4. What is the present age of Saran?
 a. 24 years b. 32 years c. 34 years d. 38 years
 ஜெயந்த், பிரேம், சரண் ஆகியோரின் வயதின் கூடுதல் 93 வருடங்கள். 10 வருடங்களுக்கு முன்பு அவர்களின் வயதின் விகிதம் 2 : 3 : 4 எனில் சரணின் தற்போதைய வயது என்ன?
 a. 24 வயது b. 32 வயது c. 34 வயது d. 38 வயது
183. The sum of the ages of brother and sister at present is 21. Five years ago the product of thier ages was 28. What is the ages of the brother and the sister?
 சகோதரன் மற்றும் சகோதரியின் வயதின் கூடுதல் 21. ஐந்து வருடங்களுக்கு முன்பு அவர்களின் வயதின் பெருக்கல்பலன் 28. சகோதரன் மற்றும் சகோதரியின் வயது என்ன?
 a. 9, 12 b. 6, 15 c. 7, 14 d. 8, 13
184. The ages of Rahul and Haroon are in the ratio 5 : 7. Four years later the sum of their ages will be 56 years. What are their present age?
 a. (15, 21) b. (20, 28) c. (25, 35)
 d. (24, 32) e. Answer not known

ராகுல் மற்றும் ஹ்ருணின் தற்போதைய வயதுகளின் விகிதம் 5 : 7 நான்கு ஆண்டுகள் கழித்து அவர்களின் வயதுகளின் கூடுதல் 56 வருடங்கள். அவர்களின் தற்போதைய வயது என்ன?
a. (15, 21) b. (20, 28) c. (25, 35)
d. (24, 32) e. விடை தெரியவில்லை

185. In a two children family, find the probability that there is atleast one girl in a family
a. $\frac{3}{4}$ b. $\frac{1}{2}$ c. $\frac{1}{4}$ d. 1 e. Answer not known

இரண்டு குழந்தைகள் உள்ள ஒரு குடும்பத்தில், குறைந்தது ஒரு பெண்ணாவது இருப்பதற்கான நிகழ்தகவு
a. $\frac{3}{4}$ b. $\frac{1}{2}$ c. $\frac{1}{4}$ d. 1 e. விடை தெரியவில்லை

186. The difference of the ages of Arulmozhi and Thamizhini is 12 years. The ratio of their ages is 3 : 5. The age of Thamizhini is
a. 32 b. 24 c. 28 d. 30

அருள்மொழிக்கும் தமிழினிக்கும் உள்ள வயது வித்தியாசம் 12 ஆண்டுகள். அவர்களின் வயது விகிதம் 3 : 5, எனில் தமிழினியின் வயது
a. 32 b. 24 c. 28 d. 30

187. Raman's age is three times the sum of the ages of his two sons. After 5 years his age will be twice the sum of the ages of his two sons. Then the present age of Raman is what?
a. 45 b. 55 c. 65 d. 70 e. Answer not known

இராமனின் வயது அவருடைய இரு மகன்களுடைய வயதுகளின் கூடுதலைப்போல் மூன்று மடங்காகும். ஐந்தாண்டுகள் கழித்து அவரின் வயது தனது மகன்களுடைய வயதுகளின் கூடுதரைப் போல் இரு மடங்காகும் எனில் இராமனின் தற்போதைய வயது என்ன?
a. 45 b. 55 c. 65 d. 70 e. விடை தெரியவில்லை

188. Raju's father's age is 5 years more than time Raju's age. Find Raju's age if his father is 44 years old?
a. 10 b. 11 c. 13 d. 18 e. Answer not known

இராஜுவின் தந்தை வயதானது, இராஜுவின் வயதைப் போல் 3 மடங்கை விட 5 அதிகம். இராஜுவின் தந்தை வயது 44 எனில், இராஜுவின் வயது என்ன?
a. 10 b. 11 c. 13 d. 18 e. விடை தெரியவில்லை

189. The sum of the present ages of x and y is 68 years. Four years ago, their ratio of ages of x and y 17 : 13 respectively. Find out sum of thier ages 6 years hence?

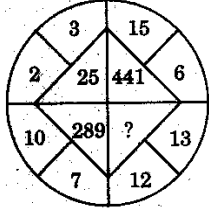
x மற்றும் y ன் தற்போதைய வயதின் கூடுதல் 68 வருடங்கள். 4 வருடங்களுக்கு முன்பு அவர்களின் வயது விகிதங்கள் 17 : 13 எனில் ஆறு வருடங்களுக்கு பிறகு அவர்களின் வயதின் கூடுதல் என்ன?
a. 77 b. 84 c. 80 d. 90

190. When a die is rolled, find the probability to get the number which is greater than 6?

a. 1 b. $\frac{1}{3}$ c. 0 d. $\frac{1}{2}$ e. Answer not known
ஒரு பகடை உருட்டப்படும் போது, 6ஐ விடப் பெரிய எண் கிடைப்பதற்கான நிகழ்தகவு என்ன?
a. 1 b. $\frac{1}{3}$ c. 0 d. $\frac{1}{2}$ e. விடை தெரியவில்லை

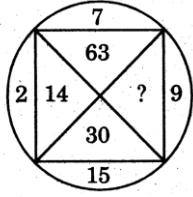
Find the missing character from among the given alternativ (Direction 191 To 195)
கொடுக்கப்பட்ட மாற்றுகளிலிருந்து விடுப்பட்ட எண்களைக் கண்டறிக (191 to 195)

191.



- a. 25 b. 125 c. 156 d. 625

192.



- a. 18 b. 33 c. 135 d. 145

193.

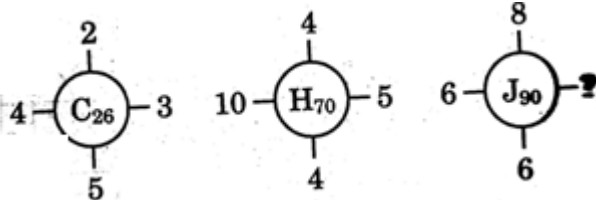
- | | | |
|-------|----|----|
| JN 28 | 27 | GP |
| CE 12 | 45 | TU |
| LR | ? | ? |
| | | MS |
- a. 30, 41 b. 30, 32 c. 34, 36 d. 35, 35

194.

4C	2B	3A
28A	?	45B
7C	5A	15B

- a. 10C b. 12C c. 13C d. 7 C

195.

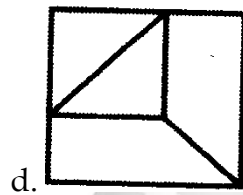
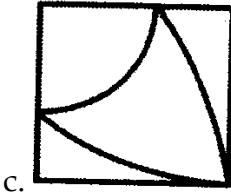
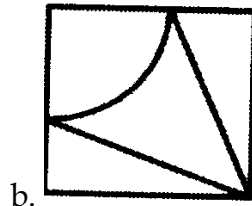
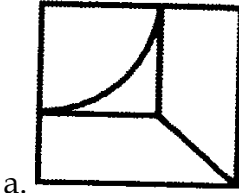
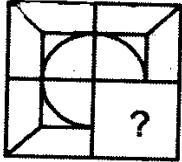


- a. 2 b. 3 c. 4 d. 5

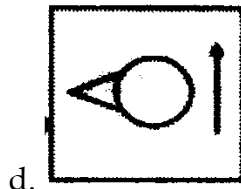
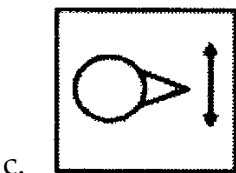
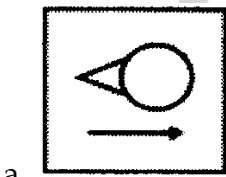
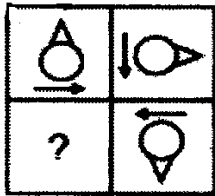
Select the option figure that will replace the question mark (?) Blank space in the question figure given below to complete the pattern (question 196 to 200)

கீழே கொடுக்கப்பட்டுள்ள படத்தில் விடுப்பட்ட உருவத்தை தேர்வு செய்க (196 to 200)

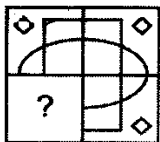
196.

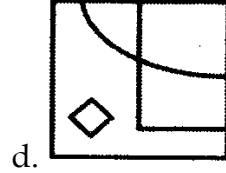
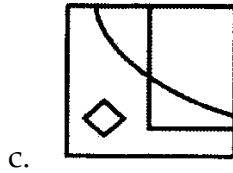
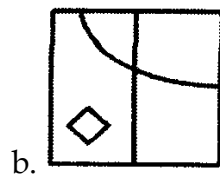
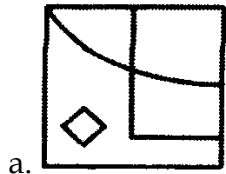


197.

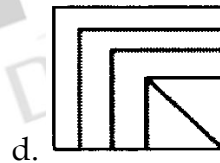
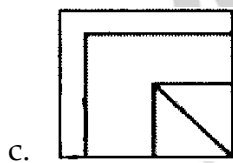
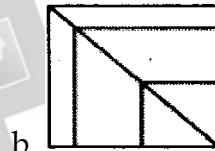
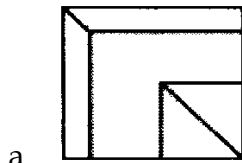
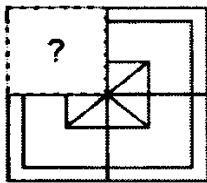


198.

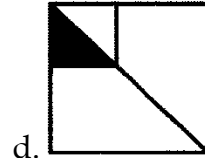
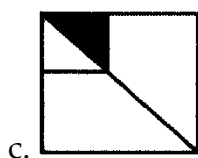
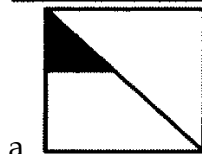
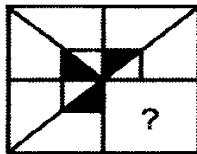




199.



200.







அறிவுக்கு ஏற்றது, மக்களுக்கு நன்மை பயப்பது,
மக்களின் அறிவை வளர்ச்சியடையச் செய்வது எதுவோ
அதைப் பற்றியே பேசு.

-தந்தை பெரியார்